

거시경제학 - 이준희 교수

1. 경기변동 현상과 관련한 다음 설명 중 옳은 것은?

- 1) 경기변동을 설명하는데 기준이 되는 변수는 실질GDP이다.
- 2) 경기 침체와 상승은 매우 규칙적으로 나타난다.
- 3) 경기 호황과 불황은 정확히 예측할 수 있다.
- 4) 경기변동 과정에서 소비와 투자는 대체로 반대 방향으로 움직인다.

2. 경기변동과 관련한 순수 고전학과 입장과 관련한 설명으로 옳지 않은 것은?

- 1) 확장적 통화정책은 물가를 상승시킨다.
- 2) 재정지출 증가는 투자를 구축한다.
- 3) 경기변동은 총수요 측면에서 기인한다.
- 4) 총수요가 감소할 경우 물가가 하락한다.

3. A국의 총수요는 200억 달러이며 장기생산량 수준은 300억 달러이다. A국 소비는 가처분 소득에 영향을 받으며 한계소비성향은 0.5이다. 정부가 장기생산량 수준을 달성하고자 할 때 재정지출을 얼마나 증가시켜야 하는가?

- 1) 25억 달러 2) 50억 달러 3) 100억 달러 4) 200억 달러

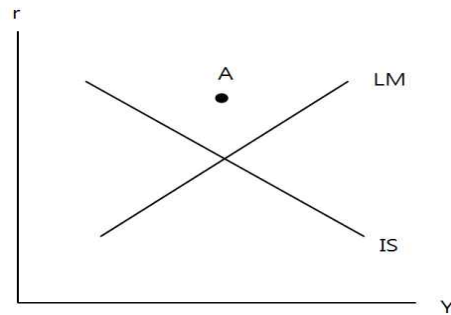
4. 폐쇄경제 IS-LM 분석에서 재정지출의 증가가 총수요를 가장 크게 증가시키는 경우는 다음 중 어느 경우인가?

- 1) 화폐수요가 이자율에 민감하고 투자가 이자율에 민감한 경우
- 2) 화폐수요가 이자율에 민감하고 투자가 이자율에 의존하지 않는 경우
- 3) 화폐수요가 이자율에 의존하지 않고 투자가 이자율에 민감한 경우
- 4) 화폐수요가 이자율에 의존하지 않고 투자가 이자율에 의존하지 않는 경우

5. 신용카드 사기의 여파로 현금거래가 증가하였다. 이와 같은 현상이 경제에 미치는 영향을 옳게 설명한 것은?

- 1) 이자율 하락으로 IS 곡선이 우측이동하고 총수요가 증가한다.
- 2) 이자율 상승으로 IS 곡선이 좌측이동하고 총수요가 감소한다.
- 3) LM곡선이 좌측 이동하여 이자율이 상승하고 총수요가 감소한다.
- 4) LM곡선이 우측 이동하여 이자율이 하락하고 총수요가 증가한다.

6. 그림과 같이 IS-LM 곡선이 그려져 있다. 점 A의 상태를 바르게 나타낸 것은?



- 1) 저축(S) > 투자(I), 그리고 실질잔고 공급(M^s/P) < 화폐 수요(L)
- 2) 저축(S) < 투자(I), 그리고 실질잔고 공급(M^s/P) < 화폐 수요(L)
- 3) 저축(S) > 투자(I), 그리고 실질잔고 공급(M^s/P) > 화폐 수요(L)
- 4) 저축(S) < 투자(I), 그리고 실질잔고 공급(M^s/P) > 화폐 수요(L)

7. 폐쇄경제에서 IS-LM 분석에서 경제내 모든 충격이 ① 재화 및 용역 수요의 외생적 변화(IS 충격)에만 기인할 경우와 ② 통화수요의 외생적인 변화(LM 충격)에만 기인할 경우 이자율을 고정시키는 정책과 통화량을 고정시키는 정책 중 어떤 정책이 보다 효과적인가?

- 1) ① 이자율을 고정시키는 정책, ② 통화량을 고정시키는 정책
- 2) ① 통화량을 고정시키는 정책, ② 이자율을 고정시키는 정책
- 3) ① 통화량을 고정시키는 정책, ② 차이 없음
- 4) ① 차이 없음, ② 이자율을 고정시키는 정책

8. 비신축적 임금(Sticky wage model) 모형에 대한 설명으로 가장 적절한 것은?

- 1) 실질 임금이 경기 역행적으로 움직인다.
- 2) 명목 가격의 비신축적인 조정을 강조한다.
- 3) 명목 가격 상승을 상대가격 상승으로 오인하여 생산량이 증가한다.
- 4) 신 케인지안 모형으로 불린다.

9. 일시적으로 국제원유가격이 하락하였다고 하자. 이것이 장단기 균형상태에 있던 경제에 미치는 영향을 총수요-총공급 모형을 이용하여 설명한 것 중 옳은 것은?

- 1) 단기적으로 물가가 상승하고 실질GDP는 불변이다.
- 2) 장기적으로는 물가는 원유가격 하락 충격 이전 수준으로 돌아가고 국민소득

은 감소한다.

3) 단기적으로 물가는 하락하고 실질GDP는 불변이다.

4) 장기적으로 물가와 실질GDP 모두 원유가격 하락 충격 이전 수준으로 돌아간다.

10. A국 경제의 필립스 곡선은 $\pi = \pi_{-1} - \beta(u - \bar{u})$ 이다. 이와 관련한 설명으로 옳지 않은 것은?

1) π^e 는 적응적 기대에 따라 형성된다.

2) 가격이 신축적일수록 β 가 커진다.

3) 디스인플레이션 정책에 따른 희생률은 β 가 클수록 커진다.

4) 물가상승률이 예상보다 높으면 실업률은 자연실업률 보다 낮다.

11. 거시경제학에서 고전학과와 케인즈학파의 견해에 대한 설명 중 옳은 것은

1) 1930년대 대공황은 고전학과 거시경제학이 탄생하는 계기가 되었다.

2) 고전학과 모형에서는 실질 생산량은 통화량이 주어지지 않더라도 그 값이 결정된다.

3) 일반적인 거시경제학자들의 입장은 장기적으로는 케인즈학파가 단기적으로는 고전학파가 보다 타당하다고 생각한다.

4) 고전학과 모형에서는 가격이 경직적이다.

12. 피자시장의 수요공급모형을 고려하여 보자. 수요량이 $Q^d = -P + Y$ 이고 공급량이 $Q^s = P - P^m$ 이다. 단 여기서 P 는 피자가격, Y 는 소비자의 소득, P^m 은 피자의 원료인 밀가루 가격이다. 다음 설명 중 옳은 것은?

1) 내생변수는 P 와 Y 이다.

2) Y 가 증가하면 P 는 상승한다.

3) P^m 이 증가하면 공급곡선이 우측 이동한다.

4) P^m 은 수요공급 그래프에서 수평 또는 수직축에 나타나는 변수이다.

13. 실질GNI와 관련된 설명 중 옳은 것은?

1) 실질 국외순수취 요소소득이 증가하면 실질GNI는 감소한다.

2) 실질GDP는 소득지표에 가까운 반면 실질GNI는 생산지표에 가깝다.

3) 교역조건변화에 따른 실질 무역이익이 커지면 실질GNI는 증가한다.

4) 실질GNI는 저량(stock) 지표로서의 성격을 갖는다.

14. 고전학과 모형에 대한 설명으로 옳지 않은 것은?

- 1) 생산함수는 규모에 대한 수확불변의 성질을 만족한다.
- 2) 노동에 대한 수요곡선은 노동의 한계생산물 체감으로 인해 우하향한다.
- 3) 지출부분의 균형은 실질이자율의 조정을 통하여 달성된다.
- 4) 통화량이 증가하면 생산량이 증가하고 물가가 상승한다.

15. 성인인구가 500만, 비경제활동인구가 50만, 취업자가 400만 일 경우 실업률은 얼마인가?

- 1) 1/5 2) 1/10 3) 1/9 4) 1/8

16. 생산함수가 $Y = L^{\frac{1}{2}} K^{\frac{1}{2}}$ 로 주어져 있다. 고전학파의 실물 부분 분배이론에 따를 경우 다음 중 옳지 않은 것은?

- 1) 자본의 한계생산물(MPK)은 $\frac{1}{2} \frac{Y}{K}$ 이다.
- 2) 노동의 한계생산물(MPK)은 $\frac{1}{2} \left(\frac{K}{L} \right)^{\frac{1}{2}}$ 이다.
- 3) 노동의 실질임금($\frac{W}{P}$)이 2로 주어진 경우 노동시장 균형에서 $\frac{K}{L}$ 의 비율은 4이다.
- 4) 노동에 대한 분배 몫은 산출량의 1/2이다.

17. A국의 실질 GDP가 매년 5%, 통화량이 매년 10% 증가하고, 명목이자율이 12%이며 화폐유통속도가 일정하다고 가정하자. 고전학과 화폐수량방정식과 피셔방정식을 이용하여 A국의 실질이자율을 구하면 얼마인가?

- 1) 4% 2) 5% 3) 6% 4) 7%

18. 분배의 고전학과 이론에 따르면 자본이 지진으로 인하여 파괴될 경우 아래 설명 중 옳지 않은 것은?

- 1) 자본의 공급곡선이 좌측으로 이동한다.
- 2) 실질임대료가 상승한다.
- 3) 노동의 수요곡선이 하향이동 한다.

4) 실질임금이 상승한다.

19. 고전학파의 폐쇄경제 모형에서 정부가 조세는 일정하게 둔 채 재정지출을 증가시킬 경우 올바른 설명은?

- 1) 소비가 감소하고 이자율이 상승한다.
- 2) 총저축이 감소하고 이자율이 상승한다.
- 3) 이자율이 하락하고 투자가 증가한다.
- 4) 이자율이 하락하고 소비가 감소한다.

20. 다음 중 경기변동의 특성으로 보기 어려운 것은?

- 1) 지속성 2) 공행성 3) 규칙성 4) 순환성

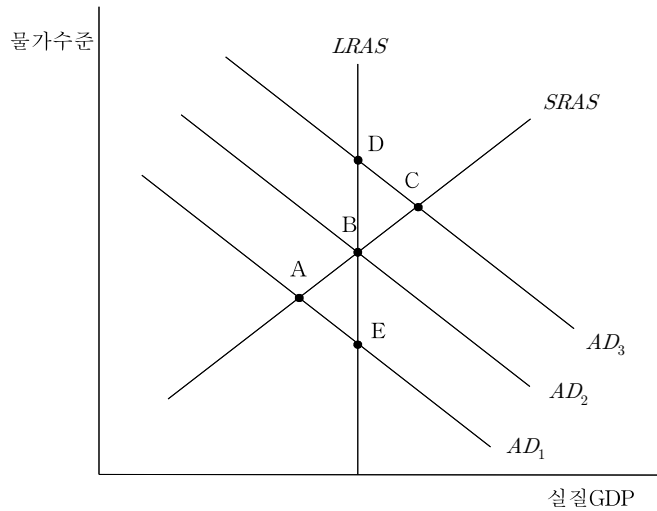
21. 경기변동과 관련한 순수 고전학과 입장으로 가장 적절한 것은?

- 1) 재정지출은 경기변동에서 중요한 역할을 하지 못하며 그 이유는 고전적 이분법 때문이다.
- 2) 통화량 증가는 유동성 효과를 통하여 국민소득을 증가시킨다.
- 3) 가격은 신축적이며 공급측 충격에 의하여 경기변동이 발생한다.
- 4) 통화정책 보다는 재정정책이 국민소득에 보다 큰 영향을 미친다.

22. 총공급곡선 모형들에 대한 다음 설명으로 옳은 것은?

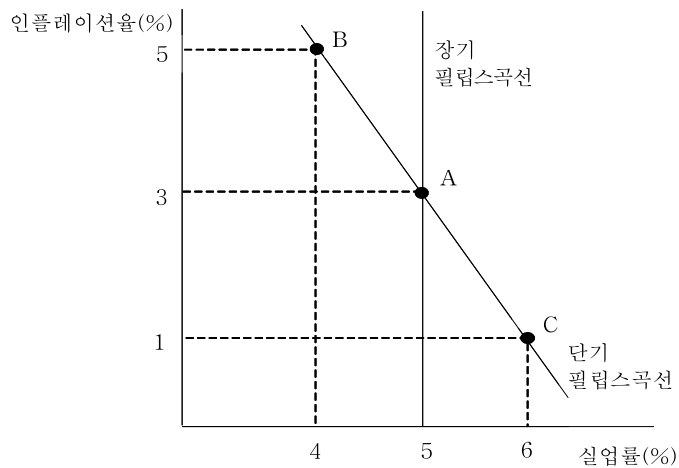
- 1) 비신축적 임금모형에서 실제 물가가 기대 물가 보다 상승하면 생산량이 감소한다.
- 2) 비신축적 임금모형은 신케인지안 경제학자들이 주로 사용하는 모형이다.
- 3) 비신축적 가격모형에서 생산량이 고전학과 생산량보다 증가하면 물가가 하락한다.
- 4) 비신축적 가격모형에서 가격을 신축적으로 조정하는 기업이 많아질 경우 단기 총공급곡선의 기울기가 보다 가파르게 된다.

23. 국내총생산이 고전학과 생산량 수준에 있을 때 민간의 예상과 달리 정부가 확장적 통화정책을 수행한다고 하자. 아래 총수요-총공급 모형에서 장·단기균형점의 이동경로를 옳게 나타낸 것은? (단, $SRAS$ 는 단기총공급곡선, $LRAS$ 는 장기총공급곡선, AD 는 총수요곡선이다.)



- 1) $B \rightarrow C \rightarrow D$ 2) $B \rightarrow A \rightarrow E$ 3) $D \rightarrow C \rightarrow B$ 4) $E \rightarrow A \rightarrow B$

24. 아래 그림에서 어떤 경제가 점 B에 있다고 하자. 다음 설명 중 옳은 것은?



- 1) 기대인플레이션율과 실제인플레이션율이 같다.
 2) 이 경제에서는 잠재 실질GDP가 달성되고 있다.
 3) 기대인플레이션율은 3%이다.
 4) 기대인플레이션율의 하락은 B에서 A로의 이동을 가져온다.

25. 거시 안정화 정책을 수행하는데 있어서 경제 주체의 기대가 변화하기 때문에 정책효과를 올바르게 모형으로 분석하기 어렵다는 사실과 가장 관련이 깊은 것은?

- 1) 정책 시행상의 시차 2) 경제예측의 어려움 3) 루카스 비판 4) 시간불일치

26. 폐쇄경제 IS 곡선이 $Y = C(Y - T) + I + G$ 이고 소비함수가 $C(Y - T) = 2500 + \frac{2}{3}(Y - T)$ 이다. 완전한 승수효과가 나타난다면 재정지출이 1조 원 증가할 소비는 얼마나 증가하는가?

- 1) 0.5조 원 2) 1조 원 3) 2조 원 4) 3조 원

27. IS-LM 및 총수요-총공급 모형에서 통화수요가 증가하고 투자심리 하락으로 투자가 감소할 경우 단기적으로 거시경제에 미치는 영향에 대한 다음 설명 중 옳은 것은?

- 1) 이자율이 하락하고 국민소득이 증가한다.
2) 이자율이 상승하고 국민소득이 증가한다.
3) 물가수준이 상승하고 국민소득이 감소한다.
4) 물가수준이 하락하고 소비가 감소한다.

28. IS-LM모형에서 거시경제정책이 국민소득에 미치는 영향에 대한 다음 설명 중 옳지 않은 것은?

- 1) 투자가 이자율에 의존하지 않는다면 IS곡선은 수직선이 되고 통화량 증가는 국민소득에 영향을 미치지 않는다.
2) 투자가 이자율에 의존하지 않는다면 IS곡선은 수직선이 되고 재정지출 증가는 국민소득을 증가시킨다.
3) 통화수요가 이자율에 의존하지 않는다면 LM곡선은 수직선이 되고 통화량 증가는 국민소득을 증가시킨다.
4) 통화수요가 소득에 의존하지 않는다면 LM곡선은 수평선이 되고 재정지출 증가는 국민소득에 영향을 미치지 않는다.

29. 거시경제학에 대한 다음의 설명 중 옳은 것은?

- 1) 분석 단위는 석유 시장과 같은 개별 상품 시장이다.

2) 고전학파는 케인즈학파에 비하여 완전경쟁시장에 바탕을 둔 분석을 강조한다.

- 3) 대공황이전에는 거시경제학이 미시경제학과 뚜렷이 구별되어 연구되었다.
- 4) 일반적으로 단기에는 고전학파, 장기에는 케인즈학파 접근법이 보다 적절하다고 생각된다.

30. 피자 시장의 수요공급모형을 고려하여 보자. 피자 수요량은 $Q^d = -P + 2Y$ 이고 피자 공급량은 $Q^s = P - P^m$ 이다. 단 여기서 P 는 피자 가격, Y 는 소비자 소득, P^m 은 피자 원료인 밀가루 가격이다. 다음 설명 중 옳은 것은?

- 1) 소비자 소득이 2만원, 밀가루 가격이 2만원일 경우 피자 가격은 2만원이다.
- 2) 소비자 소득이 2만원에서 5만원으로 상승하면 피자 거래량은 감소한다.
- 3) 소비자 소득이 2만원에서 5만원으로 상승하고 밀가루 가격이 2만원에서 5만원으로 상승하면 피자 가격은 상승한다.
- 4) 위의 수요공급모형에서 피자 가격은 외생변수이다.

31. GDP 및 GNI와 관련된 다음 설명 중 옳은 것은?

- 1) GDP는 저장 개념의 일종이다.
- 2) 2008년에 생산된 자동차가 2014년에 중고차 중개회사를 통해 매매되면서 지급된 중개료는 2014년 GDP에 포함된다.
- 3) 임대주택이 제공하는 주택서비스의 가치는 GDP에 포함되지만, 자가주택의 주택서비스 가치는 GDP에 포함되지 않는다.
- 4) 국내 거주 외국인이 국내에서 벌어들인 소득을 자국으로 송금하면 다른 조건이 일정할 경우 실질GNI가 증가한다.

32. 다음과 같은 가계의 소비지출 구성으로 소비자물가지수를 만들었다고 하자.

식료품비	30%
교통비	10%
주거비	20%
교육, 의료	30%
의류, 기타	10%
계	100%

전년도에 10만원이던 식료품비가 올해 11만원으로 상승하고, 10만원이던 주거비가 12만원으로 상승할 경우 나머지 품목에는 변화가 없다면 올해 소비자물가지수 상승률은 얼마인가?

- 1) 3% 2) 5% 3) 7% 4) 9%

33. A국에서 실업자가 10만 명, 경제활동인구가 100만 명, 성인인구가 200만 명이다. 이 경우 고용률(=취업자/성인인구)은 얼마인가?

- 1) 40% 2) 45% 3) 50% 4) 55%

34. 고전학과 모형에서 개별기업을 생각하여 보자. 이 기업의 생산함수는 $Y = 4L^{\frac{1}{2}}K^{\frac{1}{2}}$ 이고 노동(L)을 4 단위, 자본(K)을 16 단위 고용하고 있다. 이 경우 시장에서 주어진 실질임대료는 얼마라고 추론할 수 있는가?

- 1) 1/4 2) 1/2 3) 1 4) 2

35. 고전파 분배 이론에 따를 경우 이민의 증가로 인하여 경제활동인구가 증가한다면 나타나는 결과에 대한 설명으로 옳은 것은?

- 1) 노동의 공급곡선이 좌측으로 이동한다.
2) 실질임금이 상승한다.
3) 자본의 실질임대료가 상승한다.
4) 자본의 거래량이 증가한다.

36. 고전학파의 폐쇄경제 모형에서 정부가 조세를 증가시킬 경우 옳은 설명은? 단, 소비의 한계 성향은 0.5이다.

- 1) 정부 저축이 감소한다.
2) 가계 저축이 감소한다.
3) 이자율이 상승하고 투자가 감소한다.
4) 정부의 국채발행이 증가한다.

37. A국의 실질 GDP 성장률이 5%, 명목이자율이 12%, 실질이자율이 7%, 화폐유통속도가 일정하다고 가정하자. 고전학과 화폐수량방정식과 피셔방정식을 이용하여 A국의 통화증가율을 구하면 얼마인가?

- 1) 10% 2) 11% 3) 12% 4) 13%

38. 경기변동의 특성에 대한 설명 중 적절하지 않은 것은?

- 1) 경기는 호황 또는 불황이 시작되면 어느 정도 지속되는 경향이 있다.

2) 소비가 투자에 비하여 경기변동 폭이 크다.

3) 경기변동에 있어서 GDP와 실업 사이에는 음의 관계가 존재한다.

4) 경기변동은 예측하기 어려우며 불규칙적이다.

39. 경기변동에 관한 순수 고전학과 입장에 관한 설명으로 옳은 것은?

1) 가격이 경직적이다.

2) 총공급곡선은 수평이다.

3) 경기변동은 주로 수요측면에서 기인한다.

4) 화폐공급이 증가할 경우 생산량 증가 없이 물가수준만 상승한다.

40. 폐쇄경제 IS 곡선이 $Y = C(Y - T) + I + G$ 이고 소비함수가

$C(Y - T) = 2500 + \frac{1}{2}(Y - T)$ 이다. 완전한 승수효과가 나타난다면 정부지출이 1조 원 증가할 때 소비는 얼마나 증가하는가?

1) 0.5조 원 2) 1조 원 3) 2조 원 4) 3조 원

41. 중앙은행이 통화 공급을 축소하고 정부가 조세를 삭감할 경우 기대되는 효과로 적절한 것은?

1) 이자율이 상승하고, 실업률이 감소한다.

2) 이자율이 상승하고, 실업률은 증가할 수도 있고 감소할 수도 있다.

3) 이자율이 하락하고, 실업률은 감소한다.

4) 이자율이 하락하고, 실업률은 증가할 수도 있고 감소할 수도 있다.

42. LM 곡선과 관련한 다음 설명으로 옳은 것은?

1) 화폐수요가 이자율에 민감할수록 LM곡선의 기울기는 수직에 가깝다.

2) 화폐수요가 소득에 민감할수록 LM곡선의 기울기는 수평에 가깝다.

3) 이자율 및 소득과 무관하게 화폐수요가 증가하면 LM곡선은 왼쪽으로 이동한다.

4) 통화량이 고정되어 있더라도 물가가 상승하면 LM곡선은 오른쪽으로 이동한다.

43. 대공황 및 이에 대한 이론으로 다음 설명 중 적절하지 않은 것은?

1) 대공황시기에는 명목이자율이 상승하였다.

2) 디플레이션이 발생할 경우 피구효과에 의하면 IS곡선은 팽창적으로 이동한다.

3) 디플레이션이 발생할 경우 부채-디플레이션효과에 의하면 IS곡선은 소비의 감소로 수축적으로 이동한다.

4) 전통적인 통화가설에 따르면 디플레이션이 발생하면 LM곡선은 팽창적으로 이동한다.

44. 비신축적 임금(Sticky wage) 모형과 비신축적 가격(Sticky price) 모형에 대한 설명으로 옳은 것은?

1) 비신축적 임금모형은 신케인지안 모형으로 불린다.

2) 비신축적 가격모형에서 실질임금이 경기역행적이다.

3) 비신축적 임금모형에서는 물가가 예상보다 상승하면 기업이 이익을 본다.

4) 비신축적 가격모형에서 생산자는 물가 상승을 상대 가격 상승으로 오인한다.

45. 단기 국민소득이 장기 국민소득에 비하여 낮을 경우 시간이 흐를수록 어떤 변화가 발생할까?

1) 물가가 상승한다.

2) 국민소득이 감소한다.

3) 실업률이 상승한다.

4) LM곡선이 우측으로 이동한다.

46. 재량에 의한 통화정책보다 준칙에 의한 통화정책이 더 바람직한 이유로 볼 수 없는 것은?

1) 통화정책의 외부시차가 길고 가변적이다.

2) 시간불일치문제가 존재한다.

3) 정치적 경기변동 문제가 나타날 수 있다.

4) 신축적인 안정화 정책이 필요하다.

47. 쌀 시장의 수요공급모형을 고려하여 보자. 수요량이 $Q^d = -P + Y$ 이고 공급량이 $Q^s = P - P^m$ 이다. 단 여기서 P 는 쌀 가격, Y 는 소비자 소득, P^m 은 쌀농사에 필요한 비료 가격이다. 다음 설명 중 옳은 것은?

- 1) 소비자 소득이 2만원, 비료 가격이 2만원일 경우 쌀 가격은 2만원이다.
- 2) 비료 가격이 2만원에서 5만원으로 상승하면 쌀 가격은 하락한다.
- 3) 소비자 소득이 2만원에서 5만원으로 상승하면 쌀 거래량은 감소한다.
- 4) 모형에서 외생 변수의 수는 3개이다.

48. GDP와 관련된 설명 중 옳지 않은 것은?

- 1) 자가 주거서비스는 GDP 계산에 포함된다.
- 2) 중고품은 GDP 계산에 포함되지 않는다.
- 3) 내구재 서비스는 GDP 계산에 포함된다.
- 4) GDP는 저장보다는 유량의 개념을 측정한다.

49. 현재 성인인구가 100만 명, 비경제활동인구가 20만 명, 취업자가 60만 명일 경우 다음 설명 중 옳은 것은?

- 1) 실업률은 20%이다.
- 2) 경제활동인구 수는 60만 명이다.
- 3) 실업자 가운데 5만 명이 비경제활동인구로 바뀌면 실업률은 감소한다.
- 4) 성인인구와 비경제활동인구가 각각 10만 명 증가하면 실업률은 증가한다.

50. 고전학과 거시경제학에 대한 설명으로 옳은 것은?

- 1) 기업은 가격수용자로 행동한다.
- 2) 경제에는 하나의 생산요소가 존재한다.
- 3) 화폐의 비중립성이 성립한다.
- 4) 불완전 경쟁시장을 가정한다.

51. 고전학과 거시경제에서 움직이는 개별기업을 생각하여 보자. 이 기업의 생산함수는 $Y = 3L^{\frac{2}{3}}K^{\frac{1}{3}}$ 이고 노동(L)을 27 단위, 자본(K)을 27 단위 고용하고 있다. 시장에서 주어진 실질임금은 얼마인가?

- 1) 1 2) 3/2 3) 2 4) 3

52. A국의 2014년 명목 GDP가 8조 달러이고, 2014년 실질 GDP가 10조 달러이다. 이 경우 2014년 GDP 디플레이터는 기준 연도에 비하여 얼마나 변화하였는가?

- 1) 20%상승 2) 20%하락 3) 25%하락 4) 25%상승

53. 현재 명목 이자율이 0이다. 명목 이자율의 하한이 0일 때, 다음 설명 중 옳은 것은?

가. 명목 이자율 하한이 존재하지 않는 경우에 비해 확장 재정정책은 안정화 정책으로서 유효성이 작아진다.
 나. 명목 이자율 하한이 존재하지 않는 경우에 비해 전통적인 확장 통화정책은 안정화 정책으로서 유효성이 작아진다.
 다. 양적완화정책(quantitative easing)을 실시하여 인플레이션 기대가 상승하면 실질 이자율이 하락한다.
 라. 양적완화정책을 실시할 경우 전통적인 통화정책을 실시할 경우에 비하여 중앙은행이 보유하는 채권의 다양성이 줄어든다.

- 1) 가, 나 2) 가, 다 3) 나, 다 4) 나, 라

54. A국의 실질 GDP를 Y , 노동투입량을 N , 자본투입량을 K 라고 하자. 1인당 실질 GDP(Y/N)와 1인당 자본투입량(K/N)을 각각 y , k 로 표시하면, A국의 1인당 생산함수는 $y = k^{1/3}$ 이다. 실질 GDP 증가율이 4%, 노동투입량 증가율이 3%인 경우 성장회계에 따른 자본투입량 증가율은?

- 1) 6% 2) 7% 3) 8% 4) 9%

55. 정부지출을 축소하는 한편, 국민소득이 일정하게 유지되도록 통화정책을 실시할 경우 그 영향에 대한 설명 중 옳은 것은? (단, 폐쇄경제 IS-LM모형을 이용하여 분석하되, IS곡선은 우하향하며 LM곡선은 우상향한다고 가정한다.)

- 1) IS곡선이 우측 이동한다.
 2) LM곡선이 좌측 이동한다.
3) 이자율이 하락한다.
 4) 재정적자가 증가한다.

56. 인플레이션에 대한 설명 중 옳은 것을 모두 고르면?

- 가. 인플레이션은 현금 보유를 줄이기 위한 구두창 비용 (shoeleather cost)을 발생시킨다.
- 나. 인플레이션이 예측되지 못할 경우, 채권자와 채무자의 부가 재분배된다.
- 다. 인플레이션이 안정적이고 예측 가능한 경우에는 메뉴비용(menu cost)이 발생하지 않는다.
- 라. 인플레이션은 자원배분의 왜곡을 가져오지만, 상대가격의 변화를 발생시키지는 않는다.

1) 가, 나 2) 가, 다 3) 나, 다 4) 나, 라

57. 다음은 단기 총공급곡선이 우상향하는 이유에 대한 여러 이론들에서 나오는 주장이다. (가), (나), (다)를 바르게 짝지은 것은?

- 임금이 (가)이면, 단기 총공급곡선이 우상향한다.
- 가격이 (나)이면, 단기 총공급곡선이 우상향한다.
- 정보가 (다)하면, 단기 총공급곡선이 우상향한다.

	(가)	(나)	(다)
1)	신축적	신축적	완전
2)	경직적	신축적	불완전
3)	경직적	경직적	완전
<u>4)</u>	<u>경직적</u>	<u>경직적</u>	<u>불완전</u>

58. 어떤 연도에 A국, B국, C국은 옷, 자동차, 컴퓨터를 다음 표에 제시된 금액만큼 생산하고 해당 재화에 대하여 지출한다. 다음 설명 중 옳은 것은? (단, 국가는 3개 국가, 재화는 3개 재화만 존재하며, 각 재화의 가격은 100달러로 동일하고, 각 국은 같은 재화라면 자국 재화에 대하여 우선 지출한다고 가정한다.)

(단위: 백만 달러)

구분	생산액			지출액		
	옷	자동차	컴퓨터	옷	자동차	컴퓨터
A국	6	3	0	3	3	3
B국	0	6	3	3	3	3
C국	3	0	6	3	3	3

- 1) A국의 GDP가 B국의 GDP보다 크다.
 - 2) A국은 B국에 옷을 수출한다.
 - 3) B국의 무역수지는 흑자이다.
 - 4) B국과 C국 사이에는 무역이 이루어지지 않는다.
59. 어떤 소규모 개방경제 모형이 다음과 같을 때, 이와 관련된 설명 중 옳은 것은? (단, Y , C , I , G , NX , M , P , L , r , r^* , θ , e 는 각각 소득, 소비, 투자, 정부지출, 순수출, 통화량, 물가, 실질 화폐수요, 이자율, 해외이자율, 국가 위험할증, 환율(외국통화 1단위에 대한 자국통화의 교환비율)이고, 변수에 아래 첨자 0이 붙여진 것은 외생변수이다.)

- 재화시장: $Y = C(Y) + I(r_0) + G_0 + NX(e)$
- 화폐시장: $M_0/P_0 = L(r_0, Y)$
- 이자율: $r_0 = r_0^* + \theta_0$

(소비는 소득의 증가함수, 투자는 이자율의 감소함수, 순수출은 환율의 증가함수이다. 아울러 실질 화폐수요는 이자율의 감소함수이고 소득의 증가함수이다.)

- 1) 정부지출이 증가하면 환율이 상승한다.
- 2) 정부지출이 증가하면 소득이 증가한다.
- 3) 정부지출이 증가하면 실질 화폐수요가 감소한다.
- 4) 국가 위험할증이 높아지면 순수출이 증가한다.

60. 변동환율제도를 채택하고 있는 A국 중앙은행이 보유하던 미국 달러를 매각하고 자국 통화를 매입하였다. 이에 대한 다음 설명 중 옳은 것을 모두 고르면?

- 가. A국 통화 가치가 미국 달러 대비 하락한다.
- 나. A국 통화 공급량이 감소한다.
- 다. A국 외환보유액이 감소한다.
- 라. A국 물가가 상승하고 실질 GDP가 증가한다.

1) 가, 나 2) 가, 다 3) 나, 다 4) 나, 라

관세론 - 김진삼 교수

1. 다음 중 소국의 수입관세 효과가 아닌 것은 ? (정답: 4)

- (1) 세계시장가격은 불변이다.
- (2) 관세를 부과하는 소국의 개별 소비자의 입장에서 볼 때, 수입상품의 가격이 관세전액만큼 상승한다.
- (3) 관세를 부과하는 소국 전체의 입장에서 볼 때는 수입상품의 가격이 불변이다.
- (4) 관세가 부과되는 상품의 국내생산이 감소하고 동상품에 대한 소비와 수입이 증가한다.

2. 대국이 수입관세를 부과하면 그 국가의 오퍼곡선은 어떻게 이동하는가 ?

(정답: 1)

- (1) 수출상품을 나타내는 축으로부터 떨어진다.
- (2) 수입상품을 나타내는 축으로부터 떨어진다
- (3) 이동하지 않고 불변이다.
- (4) 위의 어느 것도 아니다.

3. 대국이 수입관세를 부과하면, 대국의 교역조건과 교역량은 어떻게 변하는가?

(정답: 3)

- (1) 교역조건이 개선되고 교역량도 증가한다.
- (2) 교역조건이 악화되고 교역량도 감소한다.
- (3) 교역조건이 개선되고 교역량도 감소한다.
- (4) 교역조건이 악화되고 교역량도 증가한다.

4. 일반적으로 관세를 부과하면 그 국가의 후생수준은 어떻게 변하는가 ?

(정답: 3)

- (1) 항상 증대된다.
- (2) 결코 증대되지 않는다.
- (3) 일반적으로 감소하지만 때로는 증대되기도 한다.
- (4) 위의 어느 것도 아니다.

5. 국가가 관세를 부과 할 경우 일반적으로 나타나는 현상이 아닌 것은 ?

(정답: 4)

- (1) 수입상품의 국내가격이 상승한다.
- (2) 수입상품의 국내가격이 감소한다.
- (3) 수입상품의 수입량이 감소한다.
- (4) 수입상품의 수입가격이 상승한다.

(4)수입경쟁상품의 국내생산이 감소한다.

6.국가전체의 입장에서 볼 때, 관세의 보호 손실은 소비자잉여의 감소에서 -- ? (정답: 3)

- (1)생산자잉여의 증가를 뺀 것이다.
- (2)정부의 관세손실을 뺀 것이다.
- (3)생산자잉여의 증가와 정부의 관세수입을 뺀 것이다.
- (4)위의 어느 것도 아니다.

7.어떤 상품의 생산에 수입원자재를 전혀 사용하지 않고, 국산원자재만 사용할 경우 그 상품의 실효관세보호율은 ? (정답: 2)

- (1)그 상품의 명목관세율과 동일하다.
- (2)그 상품의 명목관세율보다 더 높다.
- (3)그 상품의 명목관세율보다 더 낮다.
- (4)위의 것 모두다.

8.다음의 관세에 대한 찬반론 중 일반적으로 인정되는 찬성론은 ? (정답: 4)

- (1)값싼 외국노동에 대한 국내노동의 보호
- (2)국제수지의 개선
- (3)교역조건 개선으로 후생복지의 개선
- (4)유치산업 및 방위산업 보호와 육성

9.무역정책의 수단이 아닌 것? (정답: 1)

- (1)환율 평가절상 (2)관세 (3)수입보조금 (4)수입쿼터

10. 수출을 진흥시키기 위한 수단이 아닌 것은 ? (정답: 4)

- (1)정부의 생산보조금 (2)수출보조금 (3) 수출금융 (4)수출세

11.수입을 장려하는 수단이 아닌 것은 ? (정답: 3)

- (1)관세감면 (2)수입보조금 (3)수입과징금 (4)국세감면

12.수입을 억제하기 위한 수단이 아닌 것은 ? (정답: 1)

- (1)수입보조금 (2)관세부과 (3)수입쿼터 (4)수입적립금

13.관세의 기능이 아닌 것은 ? (정답: 3)

- (1)재정수입이 증가한다
- (2)국내생산재가 보호된다

- (3)국내생산량이 감소한다.
- (4)국내 소비량은 감소한다

14.국정관세가 아닌 것은 ?(정답 : 4)

- (1)기본관세 (2)잠정세율 (3)편익관세 (4)특혜관세

15.종가세의 장점은 ? (정답 : 1)

- (1)관세의 부담이 공평하다.
- (2)수출국에 따라 관세액의 차이가 발생된다.
- (3)국내산업보호의 기능이 희박하다.
- (4)관세부담의 불균형이 생긴다.

16.종량세의 단점은 ? (정답 : 1)

- (1)품질격차가 큰 상품은 관세부담이 불공평하다
- (2)세액을 쉽게 산정할 수 있다.
- (3)국내산업보호의 색채가 강하다
- (4)동종 .동질의 상품인 경우에는 관세가 동일하다

17. 일반적으로 종량세의 적용이 적합하지 않는 상품은 ? (정답: 4)

- (1)상품의 성질이 같은 것
- (2)과세가격의 파악이 곤란 한 것
- (3)가격변동이 쉬운 품목
- (4)단기적으로 가격변동이 없는것

18. 일반적으로 종가세의 적용이 적합하지 않는 상품은 ? (정답: 4)

- (1)동종상품 그룹 가운데 품질격차가 큰 것
- (2)단기적으로 가격변동이 없는 것
- (3)종류가 많은 것
- (4)상품의 성질이 같은 것

19.외국으로부터 수입하는 상품의 가격과 동일한 국산품의 국내가격과의
가격차를 세액으로 부과하는 관세는 ? (정답: 2)

- (1)활척관세 (2)차액관세 (3)긴급관세 (4)조정관세

20.수입품의 가격이 높아짐에 따라 그 상품에 과세되는 관세액이
감소해 가는 부분이 있는 관세는 ? (정답: 1)

(1)슬라이딩 관세 (2)차액관세 (3)조정관세 (4)할당관세

21.특정상품의 수입 시에 일정수량까지는 낮은 관세율 , 일정수량 이상은 높은 관세를 적용하는 관세는 ? (정답: 1)

(1)할당관세 (2)차액관세 (3)긴급관세 (4)조정관세

22.보복관세의 일종인 관세는 ? (정답: 4)

(1)할당관세 (2)차액관세 (3)슬라이딩 관세 (4)상계관세

23.관세의 부분균형분석의 가정에서 소국의 경우에 나타나는 현상은 ?

(정답 :1)

(1)관세는 국내소비자로부터 징수되며 전가되지 않는다.

(2)금지적 관세 (3)종가세 (4)수입원료는 사용되지 않는다

24.관세의 경제적 효과에서 (소국의 경우) 소비효과의 크기는

국내 수요탄력성이 작으면 작을수록 소비효과는 ? (정답: 2)

(1)커진다 (2)작아진다 (3) 불변이다 (4) 커지다가 작아진다

25.관세의 경제적 효과에서 (소국의 경우)

재배분효과의 설명 중 맞는 것은 ? (정답: 1)

(1)소비자잉여는 감소하고 생산자잉여는 증가한다.

(2)생산자잉여는 감소하고 소비자잉여는 증가한다.

(3)생산자잉여가 소비자잉여로 이전된다

(4)소비자잉여와 생산자 잉여는 불변이다

26.관세의 경제적 효과에서 (소국의 경우)

교역조건효과의 설명 중 맞는 것은 ? (정답: 4)

(1)관세부과국의 교역조건이 일반적으로 악화된다

(2)관세부과국의 교역조건이 반드시 개선된다

(3)관세부과국의 교역조건이 개선된 후 다시 악화된다

(4)관세부과국의 교역조건이 일반적으로 개선된다

27.관세의 경제적 효과에서 (소국의 경우)

관세의 사중손실 효과와 같은 의미는 ? (정답: 3)

(1)비특화로 부터 발생한 수익

(2)교환불가능으로부터 발생하는 수익

(3)관세비용

(4)소득효과

28.관세의 경제적 효과에서 (대국의 경우)

관세의 전가에 대하여 맞는 것은 ? (정답: 1)

- (1)수출국의 생산자 가격인하로 발생된다
- (2)수입국의 생산자 가격인하로 발생된다
- (3)수출입국의 생산자 가격인하로 발생된다
- (4)수출입국의 생산자 가격이 불변이다

29.관세의 경제적 효과에서 (대국의 경우)

관세의 후전의 크기에 대하여 맞는 것은 ? (정답: 4)

- (1)수출국의 공급탄력성이 클수록 커진다.
- (2)수입국의 수요탄력성이 작을수록 커진다.
- (3)수출국의 공급탄력성 작고, 수입국의 수요탄력성이 작을수록 커진다
- (4)수출국의 공급탄력성 작고, 수입국의 수요탄력성이 클수록 커진다

30.관세의 경제적 효과에서 (소국의 경우)

관세비용과 수요.공급탄력성과의 설명에서 맞는 것은 ? (정답: 4)

- (1)관세부과국의 수요탄력성과 반비례한다
- (2)관세부과국의 공급탄력성과 반비례한다
- (3)관세부과국의 수요탄력성과 공급탄력성에 반비례한다
- (4)관세부과국의 수요탄력성과 공급탄력성에 비례한다

31.관세부과국의 교역조건이 악화되는 경우를 누가 규명했는가 ?

(정답: 1)

- (1) A.P.Lerner (2) Metzler (3) D.Ricardo (4) R.Toreens

32.Lerner case의 조건이 맞는 것은 ? (정답: 3)

- (1)수입국의 수입수요탄력성이 탄력적이다
- (2)수출국의 수출공급탄력성이 비탄력적이다
- (3)수입국의 수입수요탄력성은 비탄력적이고
수출국의 수출공급탄력성은 탄력적이다
- (4)수입국의 수입수요탄력성은 탄력적이고
수출국의 수출공급탄력성은 비탄력적이다

33.관세가 국내산업을 보호하지 않는 경우를 누가 규명했는가 ? (정답: 2)

- (1) A.P.Lerner (2) Metzler (3) D.Ricardo (4) R.Toreens

34. Metzler Paradox 효과의 조건이 맞는 것은 ? (정답: 4)

- (1) 수입국의 수입수요탄력성이 탄력적이다
- (2) 수출국의 수출공급탄력성이 비탄력적이다
- (3) 수입국의 수입수요탄력성은 비탄력적이고
수출국의 수출공급탄력성은 탄력적이다
- (4) 수입국의 수입수요탄력성은 탄력적이고
수출국의 수출공급탄력성은 비탄력적이다

35. Metzler Paradox 효과의 설명에서 맞는 것은 ? (정답: 3)

- (1) 관세부과국의 교역조건이 악화된다
- (2) 관세부과국의 교역조건이 개선된다
- (3) 스톨퍼-샘월슨 정리의 타당성이 제한된다
- (4) 관세는 국내산업을 보호한다

36. 최적관세 효과의 설명에서 맞는 것은 ? (정답: 1)

(P = 교역상대국의 오퍼곡선의 탄력성, T = 최적관세)

- (1) $T = 1 / P - 1$ (2) $T = P / P - 1$ (3) $T = 1 / 1 - P$ (4) $T = 1 - P / P - 1$

37. 최적관세 효과의 설명에서 맞는 것은 ? (정답: 2)

- (1) 상대국의 오퍼곡선의 탄력성이 1일 때 최적관세가 없다
- (2) 상대국의 오퍼곡선의 탄력성이 1일 때 최적관세가 존재한다
- (3) 상대국의 오퍼곡선의 탄력성이 1보다 클 때 최적관세가 존재한다
- (4) 상대국의 오퍼곡선의 탄력성이 1보다 작을 때 최적관세가 존재한다

38. 직접적 비관세 장벽은 어느 것인가 ? (정답: 4)

- (1) 수출자율규제 (2) 관세평가 (3) 정부구매 (4) 관세할당

39. 간접적 비관세 장벽은 어느 것인가 ? (정답: 4)

- (1) 수출할당 (2) 수입과징금 (3) 수입담보금 (4) 내국소비세

40. 비관세장벽의 특징이 아닌 것은 ? (정답: 3)

- (1) 불확실성 (2) 복잡성 (3) 무역제한적 효과측정이 용이하다
- (4) 개도국에 불리한 차별적인 성격

41. 관세의 실효보호율 (ERP)과 관계없는 것은 ? (정답: 1)

- (1) 중간투입재의 부가가치 (2) 최종재의 부가가치
- (3) 최종재의 명목관세 (4) 중간투입재의 명목관세

42. 관세의 실효보호율 (ERP)의 설명에서 맞는 것은? (정답: 2)

(g_j =ERP, t_j =최종재 명목관세, t_i =중간투입재 명목관세, a_{ij} =투입계수)

- (1) $t_j = 0$ 이면 ERP는 + 이다
- (2) $t_i = 0$ 이면 ERP는 + 이다
- (3) $t_j > t_i$ 이면 $g_j < t_j$ 이다
- (4) $t_j < t_i$ 이면 $g_j > t_j$ 혹은 $g_j = t_j$ 이다

43. 관세의 실효보호율 (ERP)의 설명에서 맞는 것은? (정답: 1)

(g_j =ERP, t_j =최종재 명목관세, t_i =중간투입재 명목관세, a_{ij} =투입계수)

- (1) t_j 가 크면 클수록 g_j 는 커진다
- (2) t_j 가 크면 클수록 g_j 는 커지기도하고 작아지기도 한다
- (3) t_j 의 크기는 g_j 에 영향이 없다
- (4) t_j 가 그면 클수록 g_j 는 작아진다

44. 관세의 실효보호율 (ERP)의 설명에서 맞는 것은? (정답: 4)

(g_j =ERP, t_j =최종재 명목관세, t_i =중간투입재 명목관세, a_{ij} =투입계수)

- (1) t_i 가 크면 클수록 g_j 는 커진다
- (2) t_i 가 크면 클수록 g_j 는 커지기도하고 작아지기도 한다
- (3) t_i 의 크기는 g_j 에 영향이 없다
- (4) t_i 가 그면 클수록 g_j 는 작아진다

45. 관세의 실효보호율 (ERP)의 설명에서 맞는 것은? (정답: 1)

(g_j =ERP, t_j =최종재 명목관세, t_i =중간투입재 명목관세, a_{ij} =투입계수)

- (1) a_{ij} 와 g_j 와의 관계는 $t_j > t_i$ 일 때 그 크기는 비례한다
- (2) a_{ij} 와 g_j 와의 관계는 $t_j > t_i$ 일 때 그 크기는 반비례한다
- (3) a_{ij} 와 g_j 와의 관계는 $t_j < t_i$ 일 때 그 크기는 비례한다
- (4) a_{ij} 가 그면 클수록 g_j 는 작아진다

46. 관세의 실효보호율 (ERP)의 설명에서 맞는 것은? (정답: 1)

(g_j =ERP, t_j =최종재 명목관세, t_i =중간투입재 명목관세, a_{ij} =투입계수)

- (1) $t_j < a_{ij} t_i$ 이면 $g_j < 0$ 이다
- (2) $t_j < a_{ij} t_i$ 이면 $g_j > 0$ 이다
- (3) $t_j < a_{ij} t_i$ 이면 $g_j = 0$ 이다
- (4) $t_j < a_{ij} t_i$ 이면 $g_j < 0$ 혹은 $g_j = 0$ 이다.

47.관세의 실효보호율 (ERP)의 설명에서 맞는 것은?

(g_j =ERP, t_j =최종재 명목관세, t_i =중간투입재 명목관세, a_{ij} =투입계수)

t_j 가 40%, t_i 는 20%, a_{ij} 는 0.6일 때 ERP(= g_j)는 얼마인가 ? (정답: 3)

(1) 40% (2) 20% (3) 70% (4) 50%

48.최종재가 수출가능재일 때, 수출보조금을 지급하면 보호효과는 어떠한가?

(정답: 1)

(1) 정의 효과이다 (2) 부의 효과이다 (3)영향이 없다

(4) 정과 부의 효과가 동시에 나타난다

49.최종재가 수입가능재일 때, 수입보조금을 지급하면 보호효과는 어떠한가?

(정답: 2)

(1) 정의 효과이다 (2) 부의 효과이다 (3)영향이 없다

(4) 정과 부의 효과가 동시에 나타난다

50.최종재가 수출가능재일 때, 수출세를 부과하면 보호효과는 어떠한가?

(정답: 2)

(1) 정의 효과이다 (2) 부의 효과이다 (3)영향이 없다

(4) 정과 부의 효과가 동시에 나타난다

51.관세의 실효보호율 (ERP)의 설명에서 맞는 것은?

(g_j =ERP, t_j =최종재 명목관세, t_i =중간투입재 명목관세, a_{ij} =투입계수)

t_j 가 수입재이고 관세40%, t_i 는 수출재이고 수출세 10%, a_{ij} 는 0.5일 때

ERP(= g_j)는 얼마인가 ? (정답: 3)

(1) 40% (2) 50% (3) 90% (4) 10%

52.관세의 실효보호율 (ERP)의 설명에서 맞는 것은?

(g_j =ERP, t_j =최종재 명목관세, t_i =중간투입재 명목관세, a_{ij} =투입계수)

t_j 가 수출재이고 수출보조금 40%, t_i 는 수출재이고 수출보조금 20%,

a_{ij} 는 0.6일 때 ERP(= g_j)는 얼마인가 ? (정답: 4)

(1) 10% (2) 40 % (3) 60% (4) 70%

53.관세의 실효보호율과 다른 의미의 용어는 ? (정답: 3)

(1)부가가치 보호율 (2)은폐된 보호율 (3)명목보호율 (4)잠정보호율

54.TBT(무역상 기술장벽)의 설명 중 틀린 것은 ? (정답: 4)

(1)비관세장벽의 일종이다

- (2)수출자동차의 에어백 장착을 의무화한다
- (3)수출자동차의 에너지 효율성에 대한 정보표시 부착을 의무화한다
- (4)관세장벽의 일종이다

55.무역당사국이 자국의 이익을 위하여 보복과 역보복을 반복하는 관세는 무엇인가 ? (정답: 2)

- (1)보복관세 (2)관세순환 (3)최적관세 (4)조정관세

56.최적관세 효과에서 상대국의 오퍼곡성의 탄력성이 1보다 적을 때 설명에서 맞는 것은 ? (정답: 1)

- (1)최적관세는 존재하지 않는다
- (2)최적관세는 존재한다
- (3)최적관세에 영향이 없다
- (4)최적관세가 존재할 수도 있고 안 할수도 있다

57.최적관세 효과에서 상대국의 오퍼곡성의 탄력성이 무한대일 때 설명에서 맞는 것은 ? (정답: 1)

- (1)최적관세는 존재하지 않는다
- (2)최적관세는 존재한다
- (3)최적관세에 영향이 없다
- (4)최적관세가 존재할 수도 있고 안 할수도 있다

58.관세의 과세방법 중 관세 몇 %는 너느방법인가 ? (정답: 2)

- (1)종량세 (2)종가세 (3)혼합세 (4)복합세

59.협정관세는 다음 중 어느 것인가 ?(정답: 4)

- (1)조정관세 (2)계절세율 (3)편익관세 (4)WTO 양허관세

60.관세이 경제적 효과가 아닌 것은 ? (정답: 1)

- (1)생산량 감소 효과 (2)소비량 감소효과
- (3)고용창출효과 (4)재정수입의 증대효과

관세법 - 전정기 교수

1. 다음 중 그 성격이 다른 관세는? 2
 - ① 육성관세
 - ② 재정관세
 - ③ 유치관세
 - ④ 공황관세
2. 다음 중 관세법의 목적과 거리가 먼 것은? 2
 - ① 관세수입의 확보
 - ② 국내산업의 보호
 - ③ 수출입 통관의 적정
 - ④ 국민경제의 발전
3. 다음 중 관세법상 외국물품에 해당하지 않는 것은? 4
 - ① 외국 선박에 의해 공해에서 채집 포획된 수산물
 - ② 수출신고가 수리된 내국물품
 - ③ 수입되어 보세운송 중인 물품
 - ④ 수입신고수리를 받고 보세공장에 장치된 물품
4. 수입물품에 대한 내국세 체납의 경우 그 체납된 세금을 세무서장이 징수하기 위한 요건으로 잘못 설명된 것은? 2
 - ① 관세의 체납은 없고 내국세의 체납만 있을 것
 - ② 체납세의 징수기간이 만료되었을 것
 - ③ 체납된 내국세 등의 합계가 1천만원을 초과하였을 것
 - ④ 관세체납정리위원회의 의결을 거쳤을 것
5. 관세법의 해석과 적용의 원칙에 대한 다음 설명 중 옳지 않은 것은? 3
 - ① 과세의 형평과 조항의 합목적성에 따라 납세자의 재산권을 부당하게 침해하지 않도록 하여야 한다.
 - ② 관세법의 해석이 납세자에게 받아들여진 후에는 새로운 해석이나 관행에 따라 소급하여 과세되지 아니한다.
 - ③ 소급과세금지는 감사원의 감사에 따른 시정조치를 제한한다.
 - ④ 관세법의 해석에 관한 질의회신 및 방법 등은 대통령령으로 정한다.
6. 관세법상 기간과 기한에 대한 다음 설명 중 옳지 않은 것은? 4
 - ① 기간에는 제척기간, 소멸시효기간, 심사청구의 청구기간 등이 있다.
 - ② 기한에는 신고기한, 허가기한, 납부기한 등이 포함된다.
 - ③ 관세법상의 기한이 공휴일인 경우 그 다음날로 한다.
 - ④ 국가관세종합정보망 또는 전산처리설비가 일정한 장애로 인하여 가동이 정지

되어 각종 신고, 납부 등을 할 수 없게 된 때에는 그 장애가 복구된 날로 한다.

7. 다음 중 납세의무자의 주소나 거소를 알 수 없는 경우에 사용하는 납세고지서의 송달방법에 해당하는 것은? 4

- ① 직접교부
- ② 인편에 의한 교부
- ③ 우편에 의한 송달
- ④ 공시

8. 다음 중 특별납세의무자를 잘못 연결한 것은? 4

- ① 보세구역에 장치된 물품이 폐기된 때 - 운영인 또는 보관인
- ② 지정기간을 경과한 보세 공장의 작업 - 작업허가를 받은 자
- ③ 수입신고수리를 받지 않고 수입된 물품 - 그 물품의 소유자
- ④ 수입신고전 즉시반출 신고를 하고 반출된 물품 - 즉시반출 신고를 자

9. 과세물건에 대한 다음 설명 중 옳지 않은 것은? 4

- ① 우리나라에서 과세물건은 수입물품이다.
- ② 원칙적으로 수입물품 중 유체물에 대해서만 관세가 부과된다.
- ③ 유체물에 무체물의 가치가 포함된 경우에는 전체에 대하여 관세가 부과된다.
- ④ 과세물건의 확정시기는 원칙적으로 수입신고수리를 기준으로 한다.

10. 다음 중 연대납세 의무자에 해당되는 사람은? 4

- ① 수입물품의 화주
- ② 상업서류에 기재된 수하인
- ③ 수입을 위탁받아 대행수입한 경우의 위탁자
- ④ 수입물품의 수입신고를 대행한 관세사

11. 관세율표에 기재되어 있는 세율로 대통령령에 의하여 적용정지 또는 세율을 변경시킬수 있는 관세율을 무엇이라 하는가? 2

- ① 기본세율
- ② 잠정세율
- ③ 탄력관세율
- ④ 간이세율

12. 다음 중 가장 우선하여 적용되어야할 관세율은? 4

- ① 기본세율
- ② 일반특혜관세
- ③ 잠정세율
- ④ 조정관세

13. 관세품목분류위원회에 대한 설명 중 옳지 않은 것은? 4
- ① 품목분류와 관련된 사항을 심의하기 위하여 관세청에 둔다.
 - ② 위원장 1인을 포함하여 20인 이상 30인 이하의 위원으로 구성한다.
 - ③ 위원장은 관세청 소속 3급 공무원 또는 고위공무원단에 속하는 일반직 공무원 중에서 관세청장이 임명 또는 위촉한다.
 - ④ 위원회의 회의는 위원장과 매회의 마다 관세청장이 지정하는 14인으로 구성한다.
14. 다음 중 간이세율 적용대상이 아닌 것은? 4
- ① 여행자 및 승무원 휴대품
 - ② 우편물
 - ③ 외국에서 선박의 수리를 위해 사용된 물품
 - ④ 이사물품
15. 용도세율에 대한 설명으로 옳지 않은 것은? 3
- ① 용도에 따라 세율이 다른 물품을 세율이 낮은 용도에 사용하는 경우이다.
 - ② 대통령령으로 정하는 바에 따라 세관장의 승인을 얻어야 한다.
 - ③ 덤핑방지관세, 상계관세, 긴급관세의 형태로는 용도세율이 적용되지 않는다.
 - ④ 수입신고로부터 수입신고수리 전까지 신청서를 제출하여야 한다.
16. 다음 중 당해 수입물품의 거래가격에 기초하여 과세가격을 결정할 수 없는 경우에 해당하지 않는 것은? 4
- ① 수입 후 경매를 통하여 판매가격이 결정되는 위탁판매 수입물품
 - ② 임대차 계약에 따라 수입되는 물품
 - ③ 수출자의 책임으로 국내에 판매되기 위하여 수입되는 물품
 - ④ 판매자가 부담하는 금융비용을 수입자가 부담하고 수입한 물품
17. 다음 중 수입물품의 거래가격에 가산되어야할 요소에 해당하지 않는 것은? 2
- ① 구매자가 부담하는 수수료 및 중개료(단, 구매수수료 제외)
 - ② 해당 수입물품과 동일체로 취급되는 용기의 비용과 해당 수입물품의 포장에 드는 노무비와 자재비로서 수출자가 부담하는 비용
 - ③ 구매자가 당해 물품의 생산 및 수출거래를 위하여 무료 또는 인하된 가격으로 물품 및 용역을 공급한 경우에 그 무료 또는 인하된 비용
 - ④ 특허권 등의 권리를 사용하는 대가로 구매자가 직·간접으로 지급하는 금액
18. 다음 중 관세법상 담보로 적당하지 않은 것은? 4
- ① 금전
 - ② 대구시가 발행한 채권
 - ③ 토지
 - ④ 유가증권

19. 보세건설장에 반입된 외국물품의 과세환율을 바르게 설명한 것은? 2
- ① 사용전 수입신고일이 속하는 주의 외국환 매도율을 평균하여 관세청장이 정한다.
 - ② 사용전 수입신고일이 속하는 전주의 외국환 매도율을 평균하여 관세청장이 정한다.
 - ③ 사용전 수입신고일이 속하는 전주의 외국환 매도율을 평균하여 세관장이 정한다.
 - ④ 사용전 수입신고수리일이 속하는 주의 외국환 매도율을 평균하여 세관장이 정한다.
20. 다음 중 가격신고 생략 대상물품이 아닌 것은? 3
- ① 공공기관 수입물품
 - ② 정부조달물품
 - ③ 여행자 휴대품
 - ④ 수출용원자재
21. 다음 중 국내판매가격을 기초로 한 관세의 과세가격 결정에서 국내판매가격과 관계 없는 것은? 5
- ① 해당물품, 동종·동질물품 또는 유사물품이 수입된 것과 동일한 상태로 국내에서 판매되는 단위가격이어야 한다.
 - ② 해당물품의 수입신고일과 거의 동시에 국내에서 판매되는 단위가격이어야 한다.
 - ③ 특수관계가 없는 자에게 판매되는 가격이어야 한다.
 - ④ 가장 적은 수량 으로 판매되는 단위가격이어야 한다.
22. 다음 중 수입 신고전 세액심사 대상 물품이 아닌 것은? 2
- ① 관세를 분할납부하고자 하는 물품
 - ② 잠정가격신고 대상 물품
 - ③ 관세를 체납하고 있는 자가 신고하는 물품
 - ④ 불성실 신고인이 신고하는 물품
23. 다음 중 잠정가격신고서에 기재할 사항이 아닌 것은? 4
- ① 거래내용
 - ② 가격을 확정할 수 없는 사유
 - ③ 잠정가격의 결정방법
 - ④ 확정가격신고의 연장 여부
24. 합리적인 기준에 의한 과세가격의 결정방법으로 사용할 수 있는 가격은? 4
- ① 우리나라에서 생산된 물품의 국내 판매가격

- ② 수출국의 국내판매가격
- ③ 우리나라와의 국가에 수출하는 물품의 가격
- ④ 국제거래시세에 따른 가격

25. 납세의무자가 신고납부 한 세액에 부족이 있음을 알고 신고납부 한 날부터 6월 이내에 세관장에게 세액의 변경신청을 하는 경우를 무엇이라고 하는가? 3

- ① 세액의 경정
- ② 세액의 수정
- ③ 세액의 보정
- ④ 세액의 정정

26. 경정청구에 대한 다음 설명 중 옳은 것은? 4

- ① 납세의무자가 신고납부한 세액이 과다하거나 부족한 경우에 청구하는 것이다.
- ② 최초 납세신고를 한 날부터 3년 이내에 청구하여야 한다.
- ③ 관세청장에게 청구하여야 한다.
- ④ 청구 기간이 경과하더라도 과세표준 등에 대한 소송의 판결을 받은 경우에는 그 사유가 발생한 것을 안 날부터 2개월 이내에 경정청구를 할 수 있다.

27. 다음 중 부과고지 대상물품에 포함되지 않는 것은? 1

- ① 수입신고전 즉시 반출신고를 한 물품
- ② 여행자 휴대품
- ③ 우편물
- ④ 납세신고가 부적당하다고 인정되어 관세청장이 지정하는 물품
- ⑤ 납세의무자가 부과고지를 요청하는 물품

28. 다음 중 가산세의 일부만 적용되지 않는 경우는? 4

- ① 잠정가격신고를 기초로 세액을 납부한 경우
- ② 가산금 및 중가산금을 징수하지 않는 경우
- ③ 신고납부한 세액의 부족 등에 대해서 납세의무자에게 정당한 사유가 있는 경우
- ④ 수입신고 수리 전 세액심사 대상물품 중 감면대상 및 감면율을 잘못 적용하여 부족세액이 발생한 경우

29. 관세징수권 소멸시효의 기산일에 관한 설명으로 옳지 않은 것은? 4

- ① 수정신고의 경우 수정신고일의 다음날의 다음날
- ② 부과고지하는 관세의 경우 납세고지를 받은 날부터 15일이 경과한 날의 다음날
- ③ 보정신청의 경우 보정신청일의 다음날의 다음날
- ④ 기타 법령에 의해 납부기한이 정해진 경우 납부기한 만료일의 다음날의 다음날

30. 다음 중 관세의 소멸사유로 볼 수 없는 것은? 4

- ① 관세부과의 취소
- ② 관세징수권의 소멸시효 완성
- ③ 관세의 납부나 충당
- ④ 관세부과의 철회

31. 관세법상 수입에 해당하지 않는 것은? 4

- ① 외국물품을 우리나라에서 소비하는 것
- ② 외국물품을 우리나라에 반입하는 것
- ③ 외국물품을 우리나라의 운송수단 안에서 사용하는 것
- ④ 여행자 휴대품을 운송수단 안에서 사용하는 것

32. 다음 중 내국물품이 아닌 것은? 2

- ① 우리나라에 있는 물품으로 외국물품이 아닌 것
- ② 우리나라의 선박이 외국영해에서 채포한 수산물
- ③ 입항전 수입신고가 수리된 물품
- ④ 수입신고수리전 반출승인을 얻어 반출된 물품

33. 다음 중 원칙적 납세의무자에 해당되지 않은 것은? 4

- ① 수입물품의 화주
- ② 대행수입의 경우 그 수입을 위탁한 자
- ③ 송품장에 기재된 수하인
- ④ 수입신고 전에 양도한 경우의 양도인

34. 다음 중 가격신고를 생략할 수 있는 물품에 해당되지 않는 것은? 4

- ① 정부조달물품
- ② 관세 및 내국세가 부과되지 않은 물품
- ③ 수출용 원자재
- ④ 세관장이 관세를 부과하여 징수하는 물품

35. 다음 중 관세의 사전세액심사 대상물품이 아닌 것은? 3

- ① 관세 및 내국세의 감면을 받고자 하는 물품
- ② 관세를 분할 납부 하고자 하는 물품
- ③ 관세를 체납한 전력이 있는 자가 신고하는 물품
- ④ 불성실 신고인이 신고한 물품

36. 가산금과 가산세에 대한 다음 설명 중 옳은 것은? 3

- ① 납부기한이 경과한 날부터 체납된 관세의 5/100에 상당하는 가산금을 징수한다.
- ② 100만원 미만의 체납관세에는 가산금을 적용하지 아니한다.

- ③ 우편물에 대하여는 가산금 규정을 적용하지 않는다.
- ④ 수정신고의 경우와 달리 경정의 경우에는 가산세가 부과되지 아니한다.

37. 다음 중 관세의 분할납부의 경우에만 담보로 사용할 수 있는 것은? 1

- ① 토지
- ② 국채 또는 지방채
- ③ 세관장이 인정하는 유가증권
- ④ 납세보증보험증권

38. 다음 중 담보물의 충당방법이 다른 것은? 3

- ① 국채 또는 지방채
- ② 세관장이 인정하는 유가증권
- ③ 납세보증보험증권
- ④ 토지

39. 다음 중 관세 소멸사유에 해당하지 않는 것은? 1

- ① 결손처분
- ② 관세의 면제
- ③ 관세부과 취소
- ④ 우편물의 반송

40. 관세의 소멸시효에 대한 설명으로 옳지 않은 것은? 2

- ① 관세 징수권이 소멸하는 것이다.
- ② 결손처분이 필요하지 않다.
- ③ 시효의 중단과 정지가 가능하다.
- ④ 시효가 완성되면 권리 행사 가능일로 소급하여 소멸한다.

41. 위약물품의 관세환급 요건에 대한 다음 설명 중 옳지 않은 것은? 4

- ① 수입신고가 수리되고 관세가 납부된 물품이어야 한다.
- ② 계약내용과 상위한 물품이어야 한다.
- ③ 수입신고 당시의 성질, 형상이 변경되지 않은 물품이어야 한다.
- ④ 수입신고일로부터 1년 내에 보세구역에 반입하여야 한다.

42. 다음 중 조건부 감면세에 해당하지 않는 것은? 4

- ① 외교관 면세
- ② 소액물품 등의 면세
- ③ 재수출면세
- ④ 재수입면세

43. 다음 중 사후관리 기간을 잘못 연결한 것은? 1
- ① 내용연수가 5년인 학술연구용 물품 - 3년
 - ② 내용연수가 3년인 물품 - 1년 이내
 - ③ 성격상 다른 용도로 사용될 수 없는 물품 - 수입신고수리일 까지
 - ④ 특정용도에 사용 후 소모되는 원재료 - 사용장소 반입이 확인된 날까지
44. 다음 중 재수출감면세의 감면율을 바르게 연결한 것은? 4
- ① 재수출기간이 6월 이내인 경우 - 80/100
 - ② 재수출기간이 6월 초과 1년 이내인 경우 - 75/100
 - ③ 재수출기간이 1년 초과 2년 이내인 경우 - 60/100
 - ④ 재수출기간이 2년 초과 3년 이내인 경우 - 40/100
45. 다음 중 외교관용 물품 등의 면세에 해당되지 않는 것은? 1
- ① 외국원수와 그 수행원이 사용하는 물품
 - ② 대사관의 업무용품
 - ③ 영사관의 업무용품
 - ④ 외교직원과 그 가족이 사용하는 물품
46. 다음 중 정부용품 등의 면세에 해당하지 않는 것은? 4
- ① 국가원수 경호용 승용자동차
 - ② 방송통신위원회가 수입하는 비상통신용 물품
 - ③ 국가가 수입하는 환경오염 측정 장비
 - ④ 지방자치단체가 수입하는 폐수처리 장비
47. 관세의 분할납부에 대한 설명으로 옳지 않은 것은? 1
- ① 분할납부의 신청은 수입신고시에 신청하여야 한다.
 - ② 세관장은 납부기한별로 납세고지를 하여야 한다.
 - ③ 분할납부 중인 물품을 양도하고자 하는 경우에는 세관장의 승인을 얻어야 한다.
 - ④ 분할납부의 승계를 받게된 자는 세관장에게 신고하여야 한다.
48. 다음 중 조정관세를 부과할 수 있는 경우에 해당하지 않은 것은? 3
- ① 산업구조의 변동 등으로 물품간의 세율이 현저히 불균형하여 시정을 요하는 경우
 - ② 국민보건, 환경보전, 소비자 보호를 위하여 필요한 경우
 - ③ 수입가격이 급등하여 국내가격의 안정을 위하여 필요한 경우
 - ④ 국산 개발된 물품의 보호가 필요한 경우
49. 덤핑방지관세에 대한 설명으로 옳지 않은 것은? 4
- ① 잠정덤핑방지관세는 예비조사 개시 후 60일이 지나야 적용할 수 있다.

- ② 잠정덤핑방지관세의 적용기간은 4개월 이내 이며 6개월까지 연장할 수 있다.
- ③ 확정덤핑방지관세는 본조사 종결 후에만 적용할 수 있다.
- ④ 확정덤핑방지관세의 연장을 위한 재심사요청은 그 효력상실 2개월 전까지 신청하여야 한다.

50. 우리나라와 관세에 관한 조약을 체결하지 않은 국가의 물품에 대하여 기존에 조약을 체결한 국가에게 적용되는 관세 혜택을 부여하는 관세를 무엇이라 하는가? 2

- ① 국제협력관세
- ② 편익관세
- ③ 할당관세
- ④ 조정관세

51. 다음 중 납세자권리헌장에 포함된 내용이 아닌 것은? 4

- ① 납세자의 성실성 추정
- ② 관세조사의 사전통지
- ③ 중복조사의 금지
- ④ 고액상습채납자의 명단공개

52. 다음 중 심사청구를 제기할 수 없는 경우에 해당하지 않는 것은? 1

- ① 관세청장이 결정 또는 처리하였거나 하였어야 할 처분
- ② 심사청구에 대한 처분
- ③ 심판청구에 대한 처분
- ④ 관세법상 통고처분

53. 이의신청에 대한 설명으로 옳은 것은? 5

- ① 이의신청에 대한 결정은 이의신청을 받은 날부터 30일 이내에 결정하여야 한다.
- ② 당해 처분이 있는 날로부터 90일 이내에 제기하여야 한다.
- ③ 이의신청은 심사청구 전단계로 반드시 거쳐야하는 절차이다.
- ④ 이의신청에 대한 심의는 관세청에 두는 관세심사위원회의 심의를 거쳐 결정한다.

54. 외국물품을 보세구역 외(타소)에 장치 할 때 세관장의 허가를 받아야 하는 것은? 2

- ① 수출신고가 수리된 물품
- ② 거대중량 기타 사유로 보세구역에 장치하기 곤란하거나 부적당한 물품
- ③ 재해 기타 부득이한 사유로 임시 장치한 물품
- ④ 검역물품

55. 다음 중 세관장의 허가를 받아야 하는 경우에 해당하지 않는 것은? 2
- ① 보세구역에 장치된 물품에 대해 원형을 변경하거나 해체, 절단 작업을 하는 경우
 - ② 보세구역에 장치된 물품을 부패, 손상 등의 이유로 폐기하는 경우
 - ③ 보세구역에 장치된 물품을 건품으로 반출하고자 하는 경우
 - ④ 보세공장에서 내국물품만을 원료로 생산, 가공하는 경우
56. 운영인의 결격사유에 해당하지 않는 것은? 3
- ① 파산선고를 받고 복권되지 아니한 자
 - ② 관세법 위반으로 징역형의 실형을 선고받고 그 집행이 종료되거나 면제된 후 2년이 경과되지 아니한 자
 - ③ 관세법을 위반하여 징역형의 집행유예를 선고받고 유예기간이 지난 자
 - ④ 밀수출입죄 등에 위반하여 벌금형을 받아 이행한 후 2년이 지나지 않은 자
57. 보세구역의 특허기간과 장치기간에 대한 설명으로 옳지 않은 것은? 2
- ① 보세건설장의 특허기간은 당해 건설공사의 기간을 고려하여 세관장이 정한다.
 - ② 보세창고, 보세공장, 보세판매장,의 특허기간은 10년의 범위 내에서 신청인이 신청한 기간이다.
 - ③ 지정보세구역에 물품을 장치할 수 있는 기간은 6개월 이내에서 세관장이 정한다.
 - ④ 보세창고에 외국물품을 장치하는 기간은 1년의 범위 내에서 관세청장이 정한다.
58. 특허보세구역의 효력상실 사유에 해당하지 않는 것은? 3
- ① 운영인이 특허보세구역을 운영하지 아니하게 된 때
 - ② 운영인이 해산 또는 사망한 때
 - ③ 특허보세구역이 시설미비 등으로 그 목적 달성이 곤란하게 된 때
 - ④ 특허기간이 만료한 때
59. 다음 중 원산지증명서 제출 면제 대상물품에 해당하지 않는 것은? 2
- ① 세관장이 물품의 종류,성질,형상 등에 의하여 원산지를 확인할 수 있는 물품
 - ② 국제협력관세율이 적용되는 물품
 - ③ 과세가격이 15만원 이하인 물품
 - ④ 개인에게 무상송부된 탁송품, 별송품
60. 다음 중 통관의 특례에 해당하지 않는 것은? 1
- ① 검역물품의 특별통관
 - ② 수입신고수리전 반출
 - ③ 수입신고전 물품 반출
 - ④ 전자상거래물품 등의 특별통관

국제금융론 - 김상춘

1. 최근의 국제금융환경변화에 대한 다음의 설명 중 상대적으로 적절하지 않은 것을 고르시오. d
 - a. 금융기관 간의 경쟁이 격화되고 있다
 - b. 국제금융위기의 전염효과가 커지고 있다.
 - c. 국제금융상품의 가격이 더욱 불안해지고 시장의 불확실성이 증대되고 있다.
 - d. 금융이익 대비 국제실물거래의 결제기능으로서의 국제금융의 역할이 더욱 강화되고 있다.
2. 환율제도와 관련된 다음의 설명 중 적절하지 않은 것을 고르시오. a
 - a. 각국 통화와 금과의 교환비율을 기준으로 환율을 유지하려는 제도를 금환본위제라 한다.
 - b. 순수변동환율제도에서는 국제수지가 항상 균형을 이룬다.
 - c. 고정환율제도에서 국제수지불균형이 발생할 수 있다.
 - d. 고정환율제도에서 국제수지 불균형으로 국내 통화량이 영향을 받을 수 있다.
3. 국제수지의 금융계정에 포함되지 않는 거래를 고르시오. d
 - a. 국내 금융투자사의 국제채권시장에서 마이크로소프트 회사채 매입
 - b. 한국은행 금 보유고 증가
 - c. 국내 중소기업의 국제은행시장에서 운영자금 대출
 - d. 국내 투자사의 아마존 주식투자 배당금 수령
4. 경상수지균형이 국제수지균형인 경우 경상수지와 통화공급과의 관계에 대한 다음 설명 중 가장 적절한 것을 고르시오. c
 - a. 태화정책하에서 무역수지 적자는 통화공급량을 증가시킨다.
 - b. 태화정책하에서 개발도상국에 대한 무상원조는 통화공급량에 영향을 미치지 못한다.
 - c. 태화정책하에서 경상수지균형은 통화공급량에 영향을 미치지 못한다.
 - d. 불태화정책하에서 무역수지 흑자는 통화공급량을 증가시킨다.
5. 외환거래시스템에 대한 다음 설명 중 적절하지 않은 것을 고르시오. a
 - a. CHIPS는 외환거래 활성화를 위한 대표적인 통신시스템이다.
 - b. Fed-Wire는 미국은행 간 달러 결제시스템이다.
 - c. 외환결제계좌는 노스트로계좌로 명명된다.
 - d. CLS는 국제은행들 간의 외환동시결제시스템이다.
6. 구매력평가에 대한 다음 설명 중 적절하지 않은 것을 고르시오. c
 - a. 절대적 구매력 평가에서 실질환율은 1로 고정되어 있다.
 - b. 미국 대비 한국의 상대 물가 상승은 원화환율을 평가절하시킨다.
 - c. 상대적 구매력 평가에서 실질환율은 일정하게 변한다.
 - d. 두 통화간의 환율변화율은 두 국가 간의 예상물가변화율 차이와 같다.

7. 다음의 설명 중 적절하지 않은 것을 고르시오.

(원화와 달러간의 환율을 직접표기법으로 표기함) b

- a. 매입환율은 매도환율보다 항상 작다.
- b. 은행간에 달러와 거래되는 통화의 환율을 유로화를 기준으로 표시하는 것을 유럽식표기법이라 한다.
- c. 은행간 외환거래에 적용되는 환율은 기본적으로 전신환율이다.
- d. 실질환율은 두 국가 간의 상대물가수준을 동일한 통화를 기준으로 비교한 것이다.

8. 단기금융시장에 대한 다음 설명 중 적절하지 않은 것을 고르시오. b

- a. 유휴현금 보유의 기회비용을 최소화하여 자금운용의 효율성 제고의 기회를 제공한다.
- b. 상대적으로 고수익을 추구하는 투자자에게 적합한 자금운용기회를 제공한다.
- c. 안정성과 유동성을 중시하는 투자자의 자금운용에 적절하다.
- d. 중앙은행의 통화정책이 수행되는 금융시장이다.

9. 다음 중 국제수지표의 계정항목이 아닌 것을 고르시오. d

- a. 준비자산증감 b. 자본수지 c. 소득수지 d. 국제대차수지

10. 다음 중 국제수지 경상계정에 포함되지 않는 것을 고르시오. d

- a. 서비스 수입 b. 내국인 해외근로의 급여 c. 대외금융부채 이자 d. 대외 금융자산 취득

11. 국민소득계정과 관련하여 경상수지를 개선시키는 요인이 아닌 것을 고르시오. b

- a. 민간저축 증가 b. 민간투자 증가 c. 정부지출 감소 d. 수출 증가

12. 다음의 외환시장에 대한 설명 중 적절하지 않은 것을 고르시오. d

- a. 24시간 시장이다.
- b. 장외거래 중심의 시장이다.
- c. 은행과 은행 간 거래 중심의 시장이다.
- d. 플러스 섬(Plus-sum) 시장이다.

13. 환율결정이론 중 오버슈팅(Overshooting)이론에 대한 설명 중 적절하지 않은 것을 고르시오. c

- a. 통화량 증가에 따라 일시적인 환율의 오버슈팅은 가격의 경직성 때문이다.
- b. 통화량 증가는 장기적으로 물가와 환율을 통화량 증가율과 같은 비율로 증가시킨다.
- c. 단기 환율이 장기 환율 보다 낮을 경우 환율이 하락할 것으로 예상한다.
- d. 일시적인 환율의 오버슈팅 후 장기 수준으로 조정 시 물가 상승을 동반한다.

14. 다음 중 국제수지표의 대변에 기록되지 않는 것을 고르시오. c

- a. 재화의 수출 b. 해외자산의 배당금 수입 c. 해외 이주비 d. 도요타자동차의 한국공장 건설

15. 실질이자율평가에 대한 다음의 설명 중 적절하지 않은 것을 고르시오. b
- a. 국제자본은 실질이자율이 낮은 국가에서 높은 국가로 이동한다.
 - b. 국제자본이동이 불완전한 경에도 국가 간 실질이자율은 항상 동일하게 된다.
 - d. 유위험이자율평가와 상대적 구매력평가가 동시에 만족될 때 실질이자율평가가 성립된다.
 - e. 현실적으로 실질이자율평가가 성립하지 않는 주요 원인은 통화할증(할인)의 존재 때문이다.
16. 절대적 구매력 평가설에서 환율을 결정하는 요인을 고르시오. c
- a. 이자율 b. 화폐유통속도 c. 물가 d. 국민소득
17. 국제금융센터의 요건으로 적절하지 않은 것을 고르시오. d
- a. 정치, 경제, 사회적 안정이 보장되어야 한다.
 - b. 금융전문인력의 공급이 원활하여야 한다.
 - c. 자본유출입과 관련된 규제를 완화하여야 한다.
 - d. 금융위기예방을 위해 안정적인 간접금융 중심의 금융환경을 조성하여야 한다.
18. 역외국제금융센터에 대한 설명 중 적절하지 않은 것을 고르시오. a
- a. 경제활성화를 위한 원활한 조달을 위해 비밀금융거래 중심의 금융센터이다.
 - b. 비거주자로부터 자금을 조달해 비거주자를 대상으로 운영하는 금융중개시장이다.
 - c. 지역의 경제활성화를 목적으로 인위적으로 조성한 금융센터이다.
 - d. 주로 소규모 경제의 국가에서 조성한 금융센터이다.
19. 다음 중 유로커런시시장에서 거래되는 금융상품에 해당하지 않는 것을 고르시오. b
- a. 유로예금, b. 유로채, c. 유로CP, d. NIF
20. 다음의 설명 중 사모펀드에 해당하는 것을 고르시오. a
- a. 소수 투자자의 자금으로 기업의 경영권 인수 등으로 기업의 가치를 높인 후 되팔아 차익을 얻는 목적으로 운용된다.
 - b. 소로스에 의한 더블 이글펀드의 소규모 펀드를 설립하면서 발전하게 된 펀드이다.
 - c. 1990년대 후반 동아시아 금융위기의 주범으로 지목된 펀드이다.
 - d. 투자전략에 따라 거시경제형, 부도기업투자형, 상황투자형, 시장중립형 등으로 분류할 수 있다.
21. 작은 규모의 단기 유희자금을 예금과 비슷한 형태로 모아 기금을 조성한 후 단기금융시장에 투자하고 투자수익을 배당하는 개방투자형기금을 무엇이라 하는가? d
- a. CP b. NIF c. CD. d. MMF

22. 한국은행이 콜금리의 목표수준 유지를 위해 시중의 유동성을 조절하려는 목적에서 발행된 증권을 무엇이라 하는가? b
a. 재무성 증권 b. 통화안정증권 c. 통화연계증권 d. 워런트부증권
23. 원/달러 현물환율이 $1\$=1,000\text{W}$ 이고 3개월 원/달러 선물환율이 $1\$=950\text{W}$ 이다. 선물환할증율 혹은 선물환할인율은 얼마인가? c
a. 20% 선물환할증 b. 5% 선물환할인 c. 20% 선물환할인 d. 5% 선물환할증
24. 다음의 거래 “국통이가 마이크로소프트 주식투자의 배당금으로 100,000달러를 받아 주식배당목적으로 마이크로소프트 주식을 추가 매입하였다.”를 우리나라 국제수지표에 기록할 때 적절한 것을 고르시오. c
a. 경상계정의 본원소득수지계정 대변에 100,000달러, 금융계정 현금계정 차변에 100,000달러 기입
b. 금융계정의 직접투자계정 대변에 100,000달러, 경상계정의 이전소득수지계정 차변에 100,000달러 기입
c. 경상계정 소득수지계정 대변에 100,000달러, 금융계정 증권투자계정 차변에 100,000달러 기입
d. 경상계정 이전소득수지계정 대변에 100,000달러, 금융계정 증권투자계정 차변에 100,000달러 기입
25. 원화 표시 채권 투자의 연 이자율이 5%, 달러화 표시 채권투자의 연 이자율이 3%이고, 원/달러 현물환율이 $1\$=1,200\text{W}$ 이다. 무위험이자율평가가 성립하기 위한 3개월 원/달러 선물환율은 무엇인가? a
a. $1\$=1,206\text{W}$ b. $1\$=1,224\text{W}$ c. $1\$=1,296\text{W}$ c. $1\$=1,194\text{W}$
26. 원화 표시 채권 투자의 연 이자율이 5%, 달러표시 채권투자의 연 이자율이 3%이고, 현물환율이 $1\$=1,200\text{W}$ 이다. 투자자는 1년 후 원/달러환율을 $1\$=1,224\text{W}$ 으로 예상한다. 투자자의 투자행위에 대한 다음 설명 중 적절하지 않은 것을 고르시오. d
a. 원화 표시 채권에 투자한다.
b. 달러화 표시 채권에 투자한다.
c. 원화 표시채권과 달러표시 채권에 적절하게 분배하여 투자한다.
d. 어느 채권에도 투자하지 않는다.
27. 국내명목이자율이 r , 미국명목이자율이 r^* , 원/달러 현물환율(직접표기법)이 s , 원/달러 선물환율이 f 이며, 이들 간에 $1+r < (1+r^*)f/s$ 의 관계가 성립하고 있다. 다음의 설명 중 적절하지 않은 것을 고르시오. b
a. 국내 명목이자율이 상승한다. b. 미국 명목이자율이 상승한다.
c. 현물환율이 상승한다. d. 달러화 수요가 증가한다.

28. 원/달러 예상환율이 s^* , 선물환율이 f 이고 $s^* > f$ 의 관계가 있다. 환투기자의 투기행위에 대한 다음의 설명 중 적절한 것을 고르시오. c
- a. 달러 현물환 매입투기
 - b. 달러 현물환 매도투입
 - c. 달러 선물환 매입투기
 - d. 달러 선물환 매도투기
29. 국내 명목이자율이 5%, 미국 명목이자율이 3%, 국내 통화증가율이 3%, 미국 통화증가율이 2%이다. 국제 자본이동은 자유롭다. 다음의 설명 중 적절한 것을 고르시오. c
- a. 국내 실질이자율이 상승한다. b. 미국 실질이자율은 불변이다.
 - c. 미국 실질이자율이 상승한다. d. 국내이자율은 불변이다.
30. 국내 통화증가율이 3%이며, 미국 통화증가율이 2%이다. 원/달러 환율변화에 대한 다음 설명 중 적절한 것을 고르시오. d
- a. 원화대비 달러화 가치가 변화없다. b. 달러화 대비 원화가치가 상승한다.
 - c. 원화대비 달러화 가치가 하락한다. d. 달러화 대비 원화가치가 하락한다.
31. 한국 빅맥지수를 계산하였더니 1000:1이었다. 그런데 외환시장에서의 원화의 대미 달러환율이 800:1로 결정되어 있다면 다음 중 어떤 추론이 정확한가? a
- a. 달러화는 실질구매력에 비해 저평가되어 있다.
 - b. 원화는 실질구매력에 비해 저평가되어 있다.
 - c. 외환시장의 환율은 1000:1로 상승할 것이다.
 - d. 미국인은 한국에서 미국보다 싸게 빅맥을 먹을 수 있다.
32. 기능별 분류에서 국제자본시장에 해당되지 않는 것을 고르시오. a
- a. 유로커런시 시장 b. 유로채권시장 c. 국제주식시장 d. 외국채권시장
33. 다음 중 유로채에 대한 설명중 적절하지 않은 것을 고르시오. c
- a. 채권의 표시통화로 기채시장 통화이외의 통화를 사용한다.
 - b. 기채시장국의 법률 규제를 받지 않는다.
 - c. 기채시장국의 증권거래소에서 주로 유통이 이루어진다.
 - d. 채권인수단은 2개국이상의 국제은행 및 증권회사로 구성된다.
34. 국제채권시장에 대한 설명 중 적절하지 않은 것을 고르시오. d
- a. 유로채가 외국채에 비해 큰 비중을 차지하고 있다.
 - b. 고정금리채보다 변동금리채의 비중이 크다.
 - c. 통화별로는 유로화가 가장 큰 비중을 차지한다.
 - d. 국내채권시장에 비해 규모가 상대적으로 작다.

35. 다음의 국제금융센터 중 성격이 다른 하나를 고르시오. c
a. 싱가포르, b. 홍콩, c. 런던, d. 룩셈부르크,
36. 다음의 금융상품 중 국제주식시장의 상품이 아닌 것을 고르시오. c
a. 예탁증서, b. 유로주식, c. 재정증권, d. 뮤추얼펀드
37. 국부펀드에 대한 다음의 설명 중 가장 적절하지 않은 것을 고르시오. d
a. 국가가 보유한 공적기금으로 구성된 펀드이다.
b. 재원조달 방법에 따라 상품펀드와 비상품펀드로 나눌 수 있다.
c. 2000년대 이후 국부펀드는 주로 아시아와 중동 국가들을 중심으로 조성되었다.
d. 상품펀드의 재원은 국제수지 흑자로 축적된 외환보유액이나 공적연기금 등으로 조달된다.
38. 다음의 채권상품 중 성격이 다른 하나를 고르시오. b
a. 이중통화채 b. 쿠폰분리채 c. 복합통화채 d. 통화연계채
39. 일정한 조건하에 주식으로 전환할 수 있는 선택권이 부여된 채권을 무엇이라 하는가? c
a. 제로쿠폰채 b. 통화안정채 c. 전환사채 d. 이중통화채
40. 은행의 국제화와 관련된 다음의 설명 중 가장 적절하지 않은 것을 고르시오. a
a. 은행의 해외 에이전시는 현지국 국민의 요구불예금은 수취할 수 있으나 신용공여는 불가능하다.
b. 가장 초보적인 형태의 은행 국제화는 외국은행과 코레스은행관계의 설정이다.
c. 은행의 해외 연락사무소는 은행업무는 수행하지 않는다.
d. 은행의 해외법인은 현지은행과 같은 은행업무를 수행한다.
41. 기업이 단기자금을 조달하기 위해 자기의 신용을 바탕으로 기업이나 투자자에게 할인식으로 판매하는 무담보 단기 약속어음은 무엇인가? c
a. CD b. BA c. CP d. NIF
42. 국제자본이동이 완전할 경우 고정환율제도하에서 국민소득과 이자율에 대한 팽창재정정책의 효과에 대한 다음 설명 중 적절한 것을 고르시오. d
a. 국민소득과 이자율 모두 상승한다. b. 국민소득은 감소하고 이자율은 상승한다.
c. 국민소득과 이자율 모두 하락한다. d. 국민소득은 상승하고 이자율은 하락한다.

43. 국제자본이동이 완전할 경우 고정환율제도하에서 팽창금융정책의 국민소득과 이자율에 대한 효과에 대한 다음 설명 중 적절한 것을 고르시오. b
- a. 국민소득과 이자율 모두 상승한다. b. 국민소득은 감소하고 이자율은 상승한다.
c. 국민소득과 이자율 모두 하락한다. d. 국민소득은 상승하고 이자율은 하락한다.
44. 국제자본이동이 완전할 경우 변동환율제도하에서 팽창재정정책의 국민소득과 이자율에 대한 효과에 대한 다음 설명 중 적절한 것을 고르시오. c
- a. 국민소득과 이자율 모두 상승한다. b. 국민소득은 감소하고 이자율은 상승한다.
c. 국민소득과 이자율 모두 하락한다. d. 국민소득은 상승하고 이자율은 하락한다.
45. 국제자본이동이 완전할 경우 변동환율제도하에서 팽창금융정책의 국민소득과 이자율에 대한 효과에 대한 다음 설명 중 적절한 것을 고르시오. d
- a. 국민소득과 이자율 모두 상승한다. b. 국민소득은 감소하고 이자율은 상승한다.
c. 국민소득과 이자율 모두 하락한다. d. 국민소득은 상승하고 이자율은 하락한다.
46. 환율결정이론 중 먼델-플레밍이론을 따를 경우 달러화 대비 원화환율이 평가절상되는 것을 고르시오. d
- a. 통화량 증가 b. 정부지출 감소 c. 국내물가 상승 d. 국내이자율 증가
47. 환율결정이론 중 포트폴리오-밸런스이론을 따를 경우 달러화 대비 원화가 평가절하되는 경우를 고르시오. b
- a. 미국 증권공급량 증가, b. 미국 이자율 상승, c. 국내 증권공급량 감소, d. 국내이자율 상승
48. 원/달러 현재환율이 $1\$ = 1,100W$ 이며, 한국과 미국의 연 이자율이 각각 5%, 3%이다. 선물환시장이 효율적인 경우 외환딜러가 예측하는 1년 뒤 원/달러 현물환율을 구하시오. c
- a. $1\$ = 1,123W$ b. $1\$ = 1,125W$ c. $1\$ = 1,122W$ d. $1\$ = 1,124W$
49. 국제금융기구와 국제금융시장에 대한 다음의 서술 중 적절하지 않은 것을 고르시오. d
- a. 브레튼우드 체제하에서 회원국의 국제수지 조정이나 환율제도를 관장하기 위해 창설된 국제금융기구가 IMF이다.
b. 브레튼우드 체제하에서 주로 개발도상국의 경제개발을 위한 자금지원을 위해 창설된 국제금융기구가 World Bank이다.
c. 유럽통화제도하에서 회원국들은 조정가능 고정환율제도를 채택하였다.
d. 유로커런시 시장은 금융거래의 거래비용이 크고 예대금리차가 큰 것이 단점이다.
50. 국가간 자본이동이 통제되고 있는 상황에서 현재의 국민소득을 그대로 유지하면서 상품수지만 개선시키기 위해서는 어떤 조건이 이루어져야 하는가? a
- a. 환율 상승과 이자율 상승 b. 환율 상승과 이자율 하락

c. 환율 하락과 이자율 상승 d. 환율 및 이자율 하락

51. 변동환율제도에 대한 다음이 서술 중 적절하지 않은 것을 고르시오. d

- a. 기본적으로 외환의 수요와 공급에 의해 환율이 결정된다.
- b. 관리변동환율제도하에서 국민소득이 증가하면 수입이 증가하여 자국통화의 가치가 하락한다.
- c. 자유변동환율제도하에서는 환투기가 일어날 가능성이 크다.
- d. 자유변동환율제도하에서는 환율변동에 대비하여 중앙은행은 외화를 준비자산으로 보유해야한다.

52. 다음 중 우리나라에서 외환에 대한 수요를 증가시키는 경우는 어느 것인가? a

- a. 원화 가치의 평가절하가 예상되는 경우
- b. 미국으로부터 상업차관을 도입하는 경우
- c. 환율이 상승하는 경우
- d. 국내경기 침체로 수입수요가 감소하는 경우

53. 국제수지 불균형을 직접적으로 조정하는 정책수단이 아닌 것을 고르시오. d

- a. 수입관세 부과 b. 수입할당제 실시 c. 수출보조금 지급 d. 환율조정

54. 국제수지 흑자가 지속되고 있는 경우에 국제수지의 균형을 도모하는 정책이 아닌 것을 고르시오. b

- a. 정부지출 확대 b. 소득세 인상 c. 환율 인하 d. 통화공급 증대

55. 1997년 말에 발생한 우리나라 외환위기의 원인이 아닌 것을 고르시오. d

- a. 누적된 상품수지 적자
- b. 누적된 경상수지 적자
- c. 단기외채 의존도 증가
- d. 누적된 금융수지 적자

56. 세계경제가 불안한 가운데 상대적으로 안정적인 미국에 국제투자자들이 집중적으로 투자하기로 할 경우 미국 경제에 나타는 현상에 대한 서술로 적절한 것을 고르시오. a

- a. 명목이자율이 하락하고 상품수지는 악화된다. b. 명목이자율은 하락하고 상품수지는 개선된다.
- c. 명목이자율은 상승하고 상품수지는 악화된다. d. 명목이자율은 상승하고 상품수지는 개선된다.

57. 국내이자율이 해외이자율보다 상당히 높을 때 자본시장을 급격하게 개방할 경우 국내경제에 나타는 현상에 대한 설명으로 적절한 것을 고르시오. c

- a. 국내통화량 감소 b. 국내이자율 상승 c. 원화평가절상 d. 경제성장률 감소

58. 환율에 대한 다음 서술 중 적절하지 않은 것을 고르시오. d

- a. 국내물가상승률이 해외물가상승률보다 낮으면 환율이 하락한다.
- b. 국내이자율이 하락하면 환율이 상승한다.
- c. 외국인의 국내증권투자가 증가하면 환율이 하락한다.
- d. 향후 환율이 하락할 것으로 예상되면 현재 환율은 상승한다.

59. 유로채시장에 대한 설명 중 적절하지 않은 것을 고르시오. d

- a. 직접금융시장이다. b. 국제자본시장이다. c. 역외금융시장이다. d. 국제여신시장이다.

60. 표면이자 없이 할인형식으로 발행되어 거래되는 중장기 채권을 무엇이라 하는가? a

- a. 제로쿠폰채 b. 복합통화채 c. 유로채 d. 사무라이채

국제대금결제론 - 배정한 교수

문제1. 국제무역환경 등에 대한 설명으로 틀린 것은 ? - 2

- ① 무역거래에서 구체적 거래과정은 대금결제방식에 따라서 차이가 난다고 할 수 있다.
- ② 삼성본사와 삼성 북경지사간 기업내부간의 거래는 국제무역개념에 포함되지 않는다.
- ③ 개별 무역거래는 국제경제질서 내에서 이루어져야 한다.
- ④ 대부분의 국가들은 자국의 대외무역거래를 일정 범위 내에서 관리하고 있다.

문제 2. 무역거래에서 발생하는 위험이 아닌 것은 ? -3

- ① political risk ② credit risk ③ draft risk ④ exchange risk

문제 3. 무역계약을 체결할 때 대금결제방식의 선택이 중요한 이유로서 가장 거리가 먼 것은 ? -3

- ① 선택된 방식에 따라 유동성을 증진시킬 수 있다.
- ② 선택된 방식에 따라 환이전위험을 배제시킬 수도 있다.
- ③ 선택된 방식에 따라 운송위험을 배제시킬 수 있다.
- ④ 선택된 방식에 따라 상대방의 거래이행을 보장 받을 수 있다.

문제 4. 무역거래자들이 계약체결과정에서 추구하는 사항으로서 틀린 것은 ?- 4

- ① 매도인은 수입자 대금지급 전이라도 채권을 담보로 금융수혜를 원한다.
- ② 매수인은 가능한 한 대금지급을 지연하고자 한다.
- ③ 매도인과 매수인은 모두 금융기관 개입에 따른 거래의 편리성을 추구한다.
- ④ 매도인은 가능한 한 늦게 물품이나 서비스의 제공을 추구한다.

문제 5. 환(exchange)의 개념 등에 대한 설명으로 틀린 것은 ? 1

- ① 국제적인 원격지간에 발생한 채권과 채무의 결제수단을 말한다.
- ② 금융기관의 중개를 통하여 채권채무가 결제되는 것이다.
- ③ 채무자가 먼저 위탁하여 결제하는 것을 송금환이라고 한다.
- ④ 수출국의 금융기관에서 결제되어온 수출대금을 수출자에게 결제해줄 때에 매입환이 발생한다.

문제 6. 외국환의 특징에 대한 설명으로 틀린 것은 ? 3

- ① 환율문제가 발생한다.
- ② 대부분의 국가에서 외국환거래는 관리된다.
- ③ 국제결제은행이 외국환거래의 최종적인 결제기관의 기능을 한다.

④ 한 국가의 외국환거래의 결과는 해당국의 국제수지에 반영된다.

문제 7. 송금환과 추심환에 대한 설명으로 틀린 것은 ? 4

- ① 송금환은 순환이다.
- ② 추심환에서 추심의뢰은행이 외국환을 매입하여 추심하는 것을 추심전매입이라고 한다.
- ③ 은행이 접수된 지시에 따라 서류를 지급인도하기 위하여 상업서류나 금융서류를 취급하는 것도 추심에 속한다.
- ④ 추심환은 채무자가 금융기관에 추심을 의뢰함으로 거래가 시작된다.

문제 8. 현재 우리나라의 외국환관리에 대한 설명으로 틀린 것은 ? 1

- ① 외국환관리의 주요한 목적은 국민경제에 영향이 큰 외국환거래를 공정하게 관리하는 것이다.
- ② 관리당국은 필요에 따라서 대외지급에 대하여 허가를 받도록 할 수 있다.
- ③ 현재 자유변동환율제도이지만 환율관리는 우리나라의 주요한 외국환관리수단의 하나이다.
- ④ 국제수지의 균형달성도 외국환관리의 목적 중의 하나이다.

문제 9. 우리나라의 외국환취급기관 및 외국환업무에 대한 설명으로 틀린 것은 ? 2

- ① 일반적으로 우리나라에서 외국환취급기관이 되기 위하여 요건을 갖추어 등록하면 된다.
- ② 현재 우리나라에서 외국환취급기관이 될 수 있는 곳은 금융기관과 공공기관이다.
- ③ 외국환중개회사는 외국환업무를 취급하기 위하여 기획재정부장관의 인가를 받아야 한다.
- ④ 외국환업무취급기관이 업무로서 하는 행위 및 거래는 신고 등을 하지 않아도 된다.

문제 10. 수표에 대한 설명으로 틀린 것은 ? 4

- ① 지급위탁증권이다.
- ② 보통 일람출급이다.
- ③ 보통 무기명식으로 발행된다.
- ④ 보통 추심에 사용된다.

문제 11. 어음에 대한 설명으로 틀린 것은 ? 1

- ① 어음은 발행인이 제3자에게 지급을 위탁하는 것이다.
- ② 지시식어음은 배서와 양도에 의하여 유통된다.
- ③ 어음은 보통 상환청구가능조건으로 발행된다.
- ④ 권리의 행사에 증권의 소지가 반드시 필요하다.

문제 12. 국제무역의 대금결제에 대한 설명으로 틀린 것은 ? 4

- ① 우리나라에서 체결된 물품매매계약에서 대금결제장소와 물품인도장소가 합치되지 않은 경우 대금지급은 매도인의 영업소재지에서 하는 것이 원칙이다.
- ② 대금결제조건 중 CAD조건은 동시지급에 해당한다고 할 수 있다.
- ③ 현재 대부분의 무역계약관행으로 보아 우리나라 수입자는 언제나 환위험을 부담한다고 할 수 있다.
- ④ 수입자는 일반적으로 향후 강세통화로 계약을 체결하는 것이 바람직하다.

문제 13. 송금방식의 종류가 아닌 것은 ? 3

- ① D/D ② M/T ③ D/P ④ T/T

문제 14. 신용장의 개념 등에 대한 설명으로 틀린 것은 ? 3

- ① “credit”이라는 명칭이 없어도 신용장이 될 수 있다.
- ② UCP600상 신용장의 정의에서 ‘honor’의 의미에는 “to accept a bill of exchange ("draft") drawn by the beneficiary and pay at maturity if the credit is available by acceptance.”도 포함된다.
- ③ UCP600상 신용장은 취소가능신용장과 취소불능신용장으로 구분된다.
- ④ 신용장에 의한 결제의무는 해당 신용장에서 요구하는 일치하는 서류가 제시되는 경우에만 이행되는 것이 원칙이다.

문제 15. 신용장의 기능에 대한 설명으로 틀린 것은 ? 2

- ① 일반적으로 신용위험을 배제할 수 있다.
- ② 일반적으로 수입자는 금융기관으로부터 직접 금융을 받을 수 있다.
- ③ 일반적으로 수입자의 거래행이 확정적으로 보장된다.
- ④ 일반적으로 무역거래의 법적 안정성이 높아진다고 할 수 있다.

문제 16. 일반적인 발행되는 신용장내용에 명시적으로 들어가는 항목으로서 가장 거리가 먼 것은 ? 3

- ① Applicant ② Amount ③ Shipment as defined in UCP 600 ④ Drawer

문제 17. 신용장거래의 원칙들에 대한 설명으로 틀린 것은 ? 4

- ① 신용장에 “commodity descriptions are as per contract No.123”라는 내용이 있는 경우에도 서류심사시 당해 계약서는 심사되지 않는다.
- ② 독립성원칙이나 추상성원칙의 근거는 참여 은행들의 책임을 축소함으로 거래에 적극적으로 참여하도록 하기 위함이다.
- ③ 은행은 주의를 다하여 서류를 심사했으나 사기를 적발하지 못하여 지급한 경우에도 책임이 없다.
- ④ 신용장은 제시되는 서류와 관련된 이행을 거래하는 것이다.

문제 18. 신용장거래의 엄밀일치의 원칙에 대한 설명으로 틀린 것은 ? 1

- ① 실질적 내용의 일치를 요구한다.
- ② 요구하는 서류들의 상호간에 모순이 없어야 한다.
- ③ 서류의 종류는 요구하고 있지 않으나 해당 서류의 어떤 조건을 요구하는 경우 서류심사 시 그 조건은 무시된다.
- ④ 서류의 종류에 따라서 요구하는 일치성의 정도가 상이하다.

문제 19 신용장의 한계에 대한 설명으로 가장 거리가 먼 것은 ? 2

- ① 서류를 변조할 수 있다.
- ② 거래과정의 신뢰성이 부족하다.
- ③ 거래에 비교적 많은 시간이 소요된다.
- ④ 거래비용이 비싸다.

문제 20. UCP에 대한 설명으로 틀린 것은 4

- ① UCP는 ICC가 제정했다.
- ② UCP는 신용장거래의 국제적 관행이나 관습, 판결, 중재판정 등에서 확립된 국제규칙을 성문화한 것이다.
- ③ 개정은 새로운 무역관행의 이용촉진의 목적도 있다.
- ④ UCP 600은 2007년 1월 1일부터 발효되었다.

문제 21. UCP 600의 개정 필요성으로 가장 거리가 먼 것은 ? 3

- ① 보험산업의 발전에 따른 거래관행 변화에 대응할 필요성
- ② 불일치한 적용이 발생할 가능성이 있는 용어나 표현을 재검토할 필요성
- ③ 서류상 사기의 빈번한 발생에 대응할 필요성
- ④ 신용장거래가 안정된 국제대금결제방식의 지위를 상실할 위기에 대응할 필요성

문제 22. UCP 600의 주요한 개정내용의 특징에 대한 설명으로 틀린 것은 ? 4

- ① 간소화 ② 명확화 ③ 해석조항 신설 ④ 이행성 확보

문제 23. eUCP에 대한 설명으로 틀린 것은 ? 2

- ① UCP의 보칙이다.
② UCP와 충돌하는 경우 UCP가 우선 적용된다.
③ 총12개조로 구성되어 있다.
④ 기술적 보안이나 표준에 대한 가이드라인을 제공하고 있지 않다.

문제 24. ISBP에 대한 설명으로 틀린 것은 ? 1

- ① 신용장거래의 서류심사 기준으로 ICC가 제정한 UCP의 보칙이다.
② 적용되기 위하여 준거문언이 신용장에 삽입될 필요는 없다.
③ 신용장거래의 일반원칙과 UCP사이의 공백을 충족시키고 있다.
④ 처음 2002년 만들어진 후 2013년에 개정된 새로운 관행이 다시 채택되었다.

문제 25. 신용장거래의 기본 당사자와 가장 거리가 먼 것은 ? 4

- ① issuing bank ② beneficiary ③ confirming bank ④ advising bank

문제 26. 신용장거래의 당사자 등에 대한 설명으로 틀린 것은 ? 1

- ① 지정은행은 발행은행의 수권지시에 따라 수익자가 서류를 제시하면 지시된 대로 의무를 이행하여야 한다.
② 신용장은 그 사용방법이 반드시 표시되어 있어야 한다.
③ 지급은행은 보통 발행은행의 예치환거래은행이 된다.
④ 매입은행이 매입을 행하는 것은 자신의 책임하에 수익자에게 돈을 빌려주는 행위이다.

문제 27. 신용장거래에서 상환은행과 양도은행에 대한 설명으로 틀린 것은 ? 3

- ① 신용장거래에서 상환이란 이행한 지정은행에게 상환하는 것을 말한다.
② 상환은행은 발행은행 또는 발행은행이 지정한 제3의 은행이 될 수 있다.
③ 통지은행은 양도은행이 될 수 있다.
④ 양도신용장에서 양수를 받은 제2수익자는 양도은행에 서류를 제시하여야 한다.

문제 28. 신용장거래에서 통지은행의 지위에 대한 설명으로 틀린 것은 ? 4

- ① 발행은행과는 위임 및 대리 관계를 가진다.
② 발행은행의 통지요청에 대하여 승낙하거나 거절할 수 있다.
③ 수익자와는 어떠한 법률관계도 성립되지 않는다.
④ 통지되는 신용장의 내용에 대한 실질적인 진정성을 확인하기 위한 합리적인

주의의무를 기울여야 한다.

문제 29. 다음의 신용장상의 확약문언과 가장 가까운 신용장의 종류는 ? 1

We hereby agree with the Beneficiary that all Drafts drawn under and/or documents presented hereunder will be duly honored by us provided the terms and conditions of the Credit are complied with and that presentation is made at this office on or before(the expiry date).

- ① 지급신용장 ② 매입신용장 ③ 인수신용장 ④ 확인신용장

문제 30. 내국신용장과 양도가능신용장에 대한 설명으로 틀린 것은 ? 4

- ① 내국신용장의 수익자는 원신용장의 발행은행에 대하여 결제를 청구할 권리가 없다.
② 내국신용장을 'secondary credit'라고도 한다.
③ 'transferable'이라는 문언이 있는 경우에만 양도가능신용장이다.
④ 신용장의 양도는 신용장 액면금액 전부에 대하여 이루어져야 한다.

문제 31. 무역대금결제서류에 대한 설명으로 틀린 것은 ? 3

- ① 수출입통관에도 이용된다.
② 종이서류와 전자기록의 형태가 있다.
③ 보험서류는 임의서류에 속한다.
④ 수출업자가 직접 작성하는 서류도 있다.

문제 32. 무역대금결제서류 중 운송서류에 대한 설명으로 틀린 것은 ? 3

- ① 운송의 종류에 관계없이 운송서류는 물품수령증의 기능을 한다.
② 해상운송서류는 운송계약 증거의 기능을 한다.
③ 해상운송장은 권리증권서 기능을 한다.
④ 복합운송서류는 운송계약 증거의 기능을 한다.

문제 33. 선하증권에 대한 설명으로 틀린 것은 ? 2

- ① 발행형식이 지시식이면 유통된다.
② 반드시 배서와 교부에 의하여도 유통된다.
③ 오늘날도 해상서류로서 많이 사용된다.
④ 법적기재사항과 임의기재사항이 있다.

문제 34. 항공운송서류에 대한 설명으로 틀린 것은 ? 3

- ① 항공운송서류는 일반적으로 유통불가능하다.
② 항공하물운송주선업자도 발행할 수 있다.
③ 항공하물의 탑재를 증명하고 있다.
④ 항공하물운송대리점도 발행할 수 있다.

문제 35. 무역대금결제서류 중 보험서류에 대한 설명으로 틀린 것은 ? 1

- ① cover note는 보험서류로 은행서 인수한다.
- ② insurance certificate는 보험서류로서 은행서 인수한다.
- ③ insurance policy는 원본 보험서류이다.
- ④ insurance declaration은 포괄예증보험증권을 기초로 보험부보를 증명하고 있는 서류로서 은행에서 수리한다.

문제 36. 무역대금결제서류들에 대한 설명으로 가장 틀린 것은 ? 4

- ① 원산지증명서는 선적송장의 부속서류이다.
- ② 포장명세서는 선적송장의 부속서류이다.
- ③ 외화도피나 덤핑 등을 확인하기 위하여 발행되는 서류에는 세관송장과 영사송장이 있다.
- ④ 계약과 일치하는 물품임을 증명하는 기본서류는 원산지증명서이다.

문제 37. 신용장발행실무 등에 대한 설명으로 틀린 것은 ? 3

- ① 우리나라에서 신용장발행을 하면, 수입자와 발행은행간의 거래에 기본적으로 은행여신거래기본약관이 적용된다.
- ② 우리나라에서 수출자도 신용장에 의거하여 대금을 지급받으려면 외국환거래약정서에 서명하여 외국환거래약정을 하여야 한다.
- ③ 우리나라에서 수출자가 내국신용장 발행을 요청하는 경우 외국환거래약정을 할 필요 없다.
- ④ 무역계약에서 대금결제조건이 신용장조건인 경우 신용장발행은 수출자 의무이행의 정지조건이다.

문제 38. 신용장확인 실무에 대한 설명으로 틀린 것은 ? 1

- ① 확인은 발행은행의 지급확약에 대한 보증이다.
- ② 현재 확인은 통지요청시 통지은행에게 요구하는 경우가 일반적이다.
- ③ 발행은행의 부족한 신용상태를 제3의 은행이 커버하기 위한 제도이다.
- ④ 신용장 확인 요청을 받은 은행은 확인을 거절할 수 있다.

문제 39. 신용장 통지실무에 대한 설명으로 틀린 것은 ? 4

- ① 현재 대부분의 신용장통지는 SWIFT에 의하여 통지된다.
- ② 만약 전신통지신용장에 “statement that the mail confirmation is to be the operative L/C instrument”이라는 문언이 있으면, 유효한 신용장이 되지 못한다.
- ③ 신용장이 수익자에게 직접 통지되지 않고 은행을 통하여 이루어지는 것은 신용장의 진정성을 확인하기 위한 목적이 있다.
- ④ 신용장은 통지은행에 통지요청이 도달하면 효력이 발생한다.

문제 40. 신용장의 조건변경과 취소에 대한 설명으로 틀린 것은 ? 3

- ① 발행은행의 신용장 조건변경 및 취소의 통지는 취소불가능하다.
- ② 이미 발행된 확인신용장의 조건을 변경할 때 확인은행의 승낙을 받아야 한다.
- ③ 조건변경의 효력발생시점은 수익자의 승낙통지가 발행은행에 도달할 때이다.
- ④ 수익자가 이미 발행된 신용장의 조건변경통지를 받은 경우 즉시 승낙여부를 통지하지 않고 변경된 신용장조건에 일치하는 서류를 지정은행에 제시하면 승낙이 된다.

문제 41. 신용장 양도실무에 대한 설명으로 틀린 것은 ? 4

- ① “transferable”이라는 문언이 있는 신용장만 양도가능하다.
- ② 신용장의 양도에서 신용장금액의 일부만 양도할 수도 있다.
- ③ 대리점서 일괄주문을 받아 각 수출자들에게 할당하는 경우 양도신용장이 이용될 수 있다.
- ④ 양도가능신용장의 지정은행은 양도요청을 받은 경우 거절할 수 없다.

문제 42. 신용장의 양도조건 등에 대한 설명으로 틀린 것은 ? 1

- ① 양도와 관련된 은행수수료는 원칙적으로 제2수익자가 부담한다.
- ② 양도된 신용장의 조건을 변경할 경우 제2수익자의 동의가 필요하다.
- ③ 양도은행은 양도요청시 동의한 방법과 범위 내에서 양도의무를 진다.
- ④ 신용장 양도는 1회만 허용되는데, 양도환원은 가능하다.

문제 43. 신용장의 양도조건 등에 대한 설명으로 틀린 것은 ? 1

- ① 신용장을 양도할 때 보험부보비율은 원신용장의 비율을 초과할 수 없다.
- ② 양도된 신용장거래에서 제1수익자는 양도지에서 매입이나 지급을 요구할 수 있는 권리가 있다.
- ③ 신용장을 양도할 때 단가는 원신용장의 단가를 초과할 수 없다.
- ④ 양도된 신용장거래에서 제1수익자는 제2수익자가 제시한 송장과 어음을 자신의 것으로 대체할 수도 있다.

문제 44. 신용장거래에서 서류제시에 대한 설명으로 틀린 것은 ? 3

- ① 수익자가 종이서류를 제시하는 경우 서류제시완료통지를 할 필요 없다.
- ② 수익자가 전자기록을 제시하는 경우 서류제시완료통지를 하여야 한다.
- ③ 종이서류를 제시하는 경우 각 서류에 해당 신용장을 확인할 의무는 없으며, 실무적으로도 확인을 요구하는 경우가 거의 없다.
- ④ 전자기록의 수취(received)의 의미는 수신가능한 형태로 수신자의 정보시스템에 들어왔음을 의미하지 수신자가 확인했음을 의미하는 것은 아니다.

문제 45. 신용장거래에서 서류제시 기간에 대한 설명으로 틀린 것은 ? 4

- ① 수익자의 서류제시기간은 신용장의 유효기간과 선적후 서류제시기간 양쪽을 다 충족하여야 한다.

- ② 은행이 영업 중이나 시스템 문제로 전자기록을 수신할 수 없는 경우 영업하지 않는 것으로 간주된다.
- ③ 종이서류의 제시기간이 자동연장 되는 경우 다음 첫 영업일로 연장된다.
- ④ 자동연장된 전자기록의 제시완료 통지는 전자기록으로 하여야 한다.

문제 46. 신용장거래에서 은행의 서류심사실무에 대한 설명으로 틀린 것은 ? 4

- ① 서류심사는 서류만을 근거로 한다.
- ② 서류는 문면상 신용장과 일치하면 된다.
- ③ 서류간의 불일치는 신용장과 불일치로 간주된다.
- ④ 상업송장의 물품명세는 신용장 물품명세와 모순되지 않은 일반용어로 기술될 수 있다.

문제 47. 신용장거래에서 은행의 서류심사실무에 대한 설명으로 틀린 것은 ? 4

- ① 신용장에 제시를 명시하지 않은 서류가 제시된 경우 은행은 심사하지 않고 제시자에게 반환할 수 있다.
- ② 신용장에 조건만 있고 서류 명에 대한 명시가 없는 경우, 그러한 조건은 없는 것으로 간주되어 무시된다.
- ③ 제시된 서류의 발행일자가 신용장 발행일 이전 일 수 있다.
- ④ 제시된 서류상의 수익자의 주소는 신용장상의 수익자의 주소와 같아야 한다.

문제 48. 신용장거래에서 은행의 서류심사 등에 대한 설명으로 틀린 것은 ? 1

- ① 제시된 서류상의 shipper가 신용장상의 수익자와 같아야 한다.
- ② 제시된 전자기록이 손상된 경우 은행은 제시자에 통지하여 재제시를 요구할 수 있다.
- ③ 전자기록을 제시하는 경우 외부시스템에 대한 하이퍼링크로 참조하여 심사하게 할 수도 있다.
- ④ 서류심사기간은 서류접수 다음 날부터 시작하여 최대 5영업일 내로 수리여부의 결과까지 통지하여야 한다.

문제 49. 신용장거래에서 원본서류와 사본서류에 대한 설명으로 틀린 것은 ? 3

- ① 원본서류는 정본으로 작성자의 서명과 날인이 반드시 있어야 한다.
- ② 서류상에 원본이 아니라는 표시가 없는 한, 적절한 스탬프가 찍힌 서류는 원본이 될 수 있다.
- ③ 발행자가 수기로 작성한 서류는 원본으로 간주 될 수 없다.
- ④ 다수의 통수의 서류를 요구하는 경우 원본 1통과 나머지는 사본으로 제시할 수 있다.

문제 50. 대금결제방식으로서 사전송금방식에 대한 설명으로 틀린 것은 ? 4

- ① 무신용장방식 중 추심방식 이외의 방식을 포괄한다.
- ② 수입국의 경제상황이 불안할 경우 주로 이용될 수 있다.

- ③ 일반적으로 송금은 사전송금을 말한다.
- ④ 일반적으로 수출자에게 불리하다고 할 수 있다.

문제 51. 대금결제방식으로서 추심방식에 대한 설명이 틀린 것은 ? 3

- ① 신용장과 같이 역환방식이다.
- ② 수입자의 신용에만 의존한 대금결제방식이다.
- ③ URR No.522가 적용될 수 있다.
- ④ 일반적으로 거래비용이 저렴하다고 할 수 있다.

문제 52. 대금결제방식으로서 추심거래 당사자에 대한 설명으로 틀린 것은 ? 1

- ① 은행에 대금추심을 의뢰하는 자를 applicant라고 한다.
- ② 수출자로부터 추심을 의뢰받은 은행을 remitting bank라고 한다.
- ③ 추심은행을 collecting bank라고 한다.
- ④ 수입자에게 서류를 제시하는 은행을 presenting bank라고 하며, 이는 추심은행에 속한다.

문제 53. 추심통일규칙에 대한 설명으로 틀린 것은 ? 2

- ① 처음으로 ICC가 1956년에 제정했다.
- ② 현재 사용하고 있는 규칙은 2005년에 개정되어 다음 해 1월 1일부터 사용되고 있는 3차 개정본이다.
- ③ 적용하기 위하여 추심지시서에 준거문언이 삽입되어야 한다.
- ④ 분쟁예방을 통하여 무역의 활성화에 기여한다고 할 수 있다.

문제 54. 추심거래업무에서 추심당사자들의 권리와 의무에 대한 설명으로 틀린 것은 ? 2

- ① 추심의뢰인은 추심업무과정에서 외국의 관행과 법률에 따른 모든 의무와 책임을 부담한다.
- ② 추심관계은행은 접수된 서류를 심사하고 통지할 의무를 부담한다.
- ③ 추심관계은행은 접수된 서류의 효력에 대하여 책임을 부담하지 않는다.
- ④ 추심관계은행은 신의성실 및 상당한 주의의무를 부담한다.

문제 55. 추심거래업무 등에 대한 설명으로 틀린 것은 ? 1

- ① 추심의뢰은행이 추심은행을 지정한다.
- ② 추심서류나 추심지시서를 추심의뢰은행이 직접 송부할 수도 있다.
- ③ 수입자에게 추심서류의 제시는 추심은행이 직접 할 수도 있다.
- ④ 무화환추심이든 화환추심이든 추심은행은 지급지 법률이 허용하는 경우만 분할지급을 수락할 수 있다.

문제 56. 대금결제방식으로서 국제팩토링의 기능과 당사자에 대한 설명으로 틀린 것은 ? 3

- ① 모든 국제팩토링이 대금지급보증을 하는 것은 아니다.
- ② 수출자는 국제팩토링을 통하여 운영자금을 조달할 수 있다.
- ③ 수입업자가 국제팩토링에서 클라이언트가 될 수 있다.
- ④ 국제팩토링에서 팩터는 주로 금융기관이 되며, 이들은 관리비용 등을 수익으로 획득한다.

문제 57. 대금결제방식으로서 포페이팅에 대한 설명으로 틀린 것은 ? 4

- ① 국제포페이팅은 무역에서 발생한 외상매출채권을 포페이터가 고정이자율로 매입하는 것이다.
- ② 국제포페이팅거래에서는 일반적으로 보증은행의 보증이 필요하다.
- ③ 국제포페이팅거래에서 거래되는 외상매출채권은 어음화된 것이다.
- ④ 국제포페이팅거래에서 거래되는 외상매출채권은 단기이다.

문제 58. 대금결제방식으로서 국제포페이팅을 이용할 경우 이점에 대한 설명으로 틀린 것은 ? 1

- ① 신용위험은 제거할 수 없으나 정치적 위험은 제거할 수 있다.
- ② 유동성을 개선할 수 있다.
- ③ 채권관리업무로부터 해방된다.
- ④ 거래상대방에 대한 신용조서서비스를 받을 수 있다.

문제 59. 신용장거래에서 선적송장의 수리요건에 대한 설명으로 틀린 것은 ? 2

- ① 발행의뢰인 앞으로 발행되어야 한다.
- ② 서명이 필요하다.
- ③ 신용장금액을 초과하여 발행된 것도 수리가능하다.
- ④ 신용장과 동일한 통화로 표시되어 있어야 한다.

문제 60. 신용장거래에서 복합운송서류의 수리요건에 대한 설명으로 틀린 것은 ? 2

- ① 운송인의 명칭을 표시하고 있어야 한다.
- ② 운송인에 의하여 서명되어야 한다.
- ③ 신용장에 환적을 금지하고 있는 경우, 환적이 행해질 수 있다고 표시하고 있는 서류도 수리가능하다.
- ④ 용선계약에 따른다는 어떠한 표시도 없어야 한다.

국제물류운송론 - 이희용 교수

1. 다음의 설명 중 잘못 된 것을 고르시오. - 3

- ① 물류는 비용절감을 위한 최후의 미개척분야이다.
- ② 기업에서 물류 활동은 마케팅의 절반이며 판매기능을 촉진시킨다.
- ③ 물류활동은 기업의 재고량을 증가시킨다.
- ④ 물류는 알려지지 않은 제3의 이익권이다.

2. 다음 중 물류의 기능 중 물자유통활동의 세부 구성활동이 아닌 것을 고르시오. - 2

- ① 운송활동 ② 전달활동 ③ 하역활동 ④ 보관활동

3. 다음 중 물류의 발전 배경에 대한 설명 가운데 잘못 된 것을 고르시오. - 4

- ① 투자와 생산의 세계화 - 원재료 및 부품공급, 완제품의 소비지로 이동 증대
- ② 마케팅 믹스의 변화 - 마케팅전략의 제품 및 가격 중심에서 유통중심으로의 이동
- ③ 교통통신의 발달 - 운송수단의 대형화 및 고속화
- ④ 소비자 욕구의 다양화 - 대량맞춤에서 대량생산체제로의 소비자 니즈의 이동

4. 다음은 설명 가운데 ‘국민경제적 관점’에서의 물류의 역할이 아닌 것을 고르시오. - 2

- ① 수출입 물류비 절감을 통한 국내 제품의 가격경쟁력 제고
- ② 적기 배송을 통한 고객서비스 수준 향상
- ③ 자원의 효율적 이용을 통한 자원 낭비 감소
- ④ 물류인프라 구축을 통한 국민생활수준 향상

5. 다음 중 ‘기능별 물류’의 세부 기준으로 물류를 구분할 때 잘못 예시된 것을 고르시오. - 3

- ① 운송물류 ② 하역 물류 ③ 판매물류 ④ 정보물류

6. 다음 가운데 ‘국제물류의 특징’에 설명 가운데 잘못 된 것을 고르시오. - 2

- ① 원료조달, 생산가공, 제조판매활동 등에서 생산지와 소비지가 2개국 이상에서 이루어지는 경우
- ② 세부 물류 활동의 주된 활동은 보관활동을 중심으로 하여 운송, 하역, 포장 및 유통 가공 활동이 수행되어짐
- ③ 재화의 이동과 관련하여 국내물류보다 통관 절차 등의 복잡성이 발생함
- ④ 물류활동의 범위와 단계의 증가로 인하여 중개인의 존재가 필수적임

7. 다음 중 국제물류 환경의 변화의 핵심 요인이 아닌 것을 고르시오. - 3

- ① 물류환경 자체의 변화
- ② 경영·경제적 환경의 변화
- ③ 법률 및 제도적 변화
- ④ 소비자 환경의 변화

8. 다음 중 기업의 글로벌 물류 접근방법 중 ‘자원지향물류’에 대한 설명으로 올바르게 설명된 것을 고르시오. - 4

- ① 기업의 글로벌 물류활동에서 공급체인상의 주체자들간의 조정을 중요시 한다.
- ② 기업의 글로벌 물류활동에서 경쟁우위의 원천을 정보관리에 두고 있다.
- ③ 기업의 글로벌 물류활동에서 최종소비자의 반응에 집중하고 있다.
- ④ 기업의 글로벌 물류활동에서 자원활용의 최적화에 집중하고 있다.

9. 다음 가운데 국제물류시스템에 대한 설명으로 잘못 짚지어진 것을 고르시오. - 4

- ① 고전적 시스템 - 상품의 최소빈도, 대량 출하에 적합
- ② 통과 시스템 - 자회사 창고의 보관기능 약화, 통과 기능의 강화
- ③ 직송 시스템 - 상대적으로 높은 출하빈도 발생
- ④ 다국행 창고시스템 - 전 세계적으로 활발하게 사용 및 이용 되고 있음.

10. 다음은 국제물류시스템의 선택 요인 중 경제적 요인에 대한 설명이다. 잘못 설명 된 것을 고르시오. - 3

- ① 제품의 특성
- ② 제품의 종류와 양 -
- ③ 수입국의 법령에 의한 제약
- ④ 주문규모와 고객의 유형

11. 다음 가운데 국제물류 아웃소싱의 목표가 아닌 것을 고르시오. - 4

- ① 핵심역량강화 ② 리스크 분산 ③ 비용절감 ④ 사내 전문지식 및 노하우 축적

12. 물류의 기본적 기능으로 볼 수 없는 것은? 2

- ① 생산과 소비 간의 장소 격차 조정
- ② 생산자와 소비자 간의 소득 격차 조정
- ③ 생산단위와 소비단위의 수량 불일치 조정
- ④ 생산과 소비 시기의 시간 격차 조정
- ⑤ 생산자와 소비자 간의 품질 격차 조정

13. 물류의 영역적 분류에 관한 설명으로 옳은 것은? 4

- ① 조달물류: 생산된 완제품 또는 매입한 상품을 판매창고에 보관하고 소비자에게 전달하는 물류활동
- ② 반품물류: 원자재와 제품의 포장재 및 수배송 용기 등의 폐기물을 처분하기 위한 물류활동
- ③ 사내물류: 물자가 조달처로부터 운송되어 보관창고에 입고되어 생산공정에 투입되기 직전까지의 물류활동
- ④ 회수물류: 제품이나 상품의 판매물류 이후에 발생하는 물류용기의 재사용, 재활용 등을 위한 물류활동

14. ECR(Efficient Consumer Response)의 주요 전략요소에 해당되지 않는 것은? 1

① 효율적인 반품 관리

- ② 효율적인 매장 진열 관리
- ③ 효율적인 재고 보충
- ④ 효율적인 판매 촉진
- ⑤ 효율적인 신제품 도입 및 소개

15. 기업의 통합물류운영관점에서 재고거점 수가 증가할 경우 옳지 않은 것은? 3

- ① 배송비 감소
- ② 재고유지비용 증가

③ 총 물류비용 감소

- ④ 시설투자비 증가

16. 물류서비스에 관한 설명으로 옳지 않은 것은? 1

① 물류서비스와 물류비용 사이에는 상충관계(Trade- Off)가 존재한다.

- ② 서비스 수준의 향상에 따라 총매출이 증가하므로 이익을 최대화하기 위해서 서비스 수준을 높이는 것이 중요하다.
- ③ 물류서비스 향상을 효율적으로 실행하기 위해서는 3S1L원칙과 7R원칙을 고려해야 한다.
- ④ 물류관리자는 이익 창출을 위해 비용 절감과 물류 서비스의 향상에 주력한다.

17. 기업경영상 물류에 대한 관심이 높아지는 요인에 대한 설명으로 옳지 않은 것은? 3

- ① 생산과 판매의 국제화로 물류관리의 복잡성 증대
- ② 수발주 단위의 소량·다빈도화에 대한 대응 필요성 증가
- ③ 저렴하고 양질의 서비스 제공을 위한 운송규제 강화 추세
- ④ 운송보안에 대한 서류 및 절차 강화로 추가비용발생

18. 공급사슬의 활동을 계획, 구매, 제조, 배송, 반품의 범주로 구분하여 활동 주체들의 업무프로세스연계 정도를 분석하는 것은? 2

- ① BSC(Balanced Score Card)
- ② SCOR(Supply Chain Operations Reference)
- ③ TQM(Total Quality Management)
- ④ EVA(Economic Value Added)

19. 수요의 정성적 예측기법으로 전문가들을 한자리에 모으지 않고 일련의 질의서를 통해 각자의 의견을 취합하여 중기 또는 장기 수요의 종합적인 예측결과를 도출해 내는 기법은?5

- ① 델파이법 ② 전문가 의견법 ③ 판매원 의견 통합법 ④ 자료유추법

20. 물류와 생산 및 마케팅의 관계를 설명한 것으로 옳지 않은 것은? 1

① 물류는 마케팅의 4P 중 제품(Product)과 가장 밀접한 관련이 있다.

② 기술혁신으로 품질과 가격 면에서 평균화가 이루어진 상태에서는 고객서비스가 마케팅과 물류에서 중요한 비중을 차지한다.

③ 물류는 포괄적인 마케팅에 포함되면서 물류자체의 마케팅활동을 실천해야 한다.

④ 생산과 물류의 상호작용에 포함되는 요소로는 공장입지, 구매계획, 제품생산계획 등이 있다.

21. 매트릭스형 조직의 특징에 관한 설명으로 옳지 않은 것은? 2

① 항공우주산업과 같은 첨단기술분야에 효과적이다.

② 물류를 하나의 프로그램으로 보고 기업 전체가 물류관리에 참여하는 조직유형이다.

③ 명령, 지시계통인 라인의 흐름이 정제될 수 있다.

④ 물류담당자들이 평상시에는 자기부서에서 근무하다가 필요시 해당부서의 인원들과 함께 문제를 해결하기 위해 구성된 조직이다.

22. 제약이론(TOC)에 관한 설명으로 옳지 않은 것은? 5

① 이스라엘의 골드라티 제안

② SCM에 응용 가능

③ 납기준수율 향상

④ 성과보다는 프로세스 개선이 목표

23. 유통경로의 역할에 대한 설명으로 옳지 않은 것은? 5

① 거래의 효율성 증대

② 제품 구색의 불일치 조정

③ 중간상의 재고부담 감소

④ 상품 및 시장정보 제공

24. 다음은 무엇에 대한 설명인가? 1

소비자의 요구가 개별화됨에 따라 종래의 표준화된 제품을 대량생산해서 판매하던 방식에서 개별 고객의 요구에 맞춰 제조, 납품하는 방식으로 변화하여 유통대상 품목이 많아지고 재고 및 물류관리가 복잡해지고 있다.

① 대량고객화(Mass Customization)

② 공급자재고관리(Vendor Managed Inventory)

③ 시장실험(Test Marketing)

④ 판매시점관리(Point of Sales)

25. 특정상품계열에 대하여 전문점과 같이 다양하고 풍부한 구색을 갖추고 낮은 가격에 판매하는 소매형태는?

① 카테고리 킬러 ② 할인점 ③ 하이퍼마켓 ④ 기업형 슈퍼(SSM)

26. 물류관리의 전략적 중요성에 관한 설명으로 옳지 않은 것은? 3

- ① 기업의 물류관리는 구매, 생산, 영업 등의 활동과 상호 밀접하다.
- ② 다품종 소량시대의 도래로 물류비용이 증가하여 효율적인 물류관리 수단이 필요하다.
- ③ 최근 물류관리의 목표는 부가가치의 창출에서 단순비용절감으로 전환해 가고 있다.
- ④ 물류의 통합이 기업의 경계를 넘어 공급사슬관리전체로 확대됨에 따라 데이터와 프로세스 표준화가 필요하다.

27. 최종 고객으로부터 공급망의 상류로 갈수록 판매예측정보가 왜곡되는 현상(Bullwhip Effect)이 심화되어 가고 있다. 이에 대한 대처방안으로 옳지 않은 것은? 4

- ① 불확실성 최소화
- ② 리드타임 단축
- ③ 전략적 파트너십
- ④ 규모의 경제 추구

28. 최근 글로벌 물류환경변화에 해당되지 않는 것은? 4

- ① 국제물류수요의 증가
- ② 물류기업의 M&A 및 전략적 제휴 확산
- ③ 인터넷, 모바일, RFID 등 IT기술의 급격한 발전
- ④ 기업간 경쟁으로 물류아웃소싱 감소

29. 컨테이너화(Containerization)의 장점이 아닌 것은? 3

- ① 대량 취급 용이로 물류효율 향상
- ② 화물흐름의 신속화
- ③ 컨테이너 회수 및 보관장소 관리 용이
- ④ 복합 및 연계운송의 활성화

30. 물류표준화에 관한 설명으로 옳은 것은? 2

- ① 기업마다 고유한 규격의 물류기기와 설비를 활용해야 한다.
- ② 포장의 표준화를 위해서는 강도표준화에 앞서 치수표준화가 이루어져야 한다.
- ③ 국가차원의 표준화는 개별 기업의 표준화가 정착된 이후에 시행하는 것이 바람직하다.
- ④ 화물이 규격화되어 효율적 일관운송이 어렵다.

31. 물류 아웃소싱(Outsourcing)에 관한 설명으로 옳지 않은 것은? 4

- ① 물류활동을 효율화하기 위해 물류기능을 외부의 전문업체에 위탁하는 것이다.
- ② 기업 핵심정보의 유출가능성이 있으며 사내에 물류전문지식의 축적이 어려울 수 있다.
- ③ 유연성이 있는 고용형태와 급여체계 실현이 가능하다.
- ④ 주요 대상영역은 주문접수 및 처리, 고객서비스관리, 재고관리 분야이다.

32. 출판물 및 문헌정보 유통의 효율화를 위하여 국제적으로 표준화된 방법으로 고유번호를 부여하여 각종 도서의 일정한 위치에 표시하는 것은? 1

- ① ISBN ② SSCC ③ ISDN ④ UCC

33. 공동수배송 도입에 따른 기대효과가 아닌 것은? 5

- ① 차량의 적재효율 향상
② 주변의 교통혼잡 완화
③ 차량의 운행효율 향상
④ 대형화물차에 의한 배송 폐지

34. 녹색물류와 관련된 설명으로 옳지 않은 것은?

- ① 온실가스 배출량을 감소시키는 방안이다.
② QR, ECR과 같은 혁신기법은 환경문제의 주요 해결방안이 된다.
③ 지구온난화 등 환경문제가 세계적으로 대두되면서 물류분야도 대처방안 수립의 중요성이 높아지고있다.
④ 포장상자, 배출가스 등 환경에 미치는 영향을 최소화시키는 방안이다.

35. 물류공동화 추진상의 문제점이 아닌 것은? 1

- ① 물류비 절감에 따른 소비자가의 하락
② 배송 순서 조절의 어려움 발생
③ 물류 서비스 차별화의 한계
④ 매출, 고객명단 등 기업 비밀 노출 우려

36. SCM의 응용기법에 관한 설명으로 옳은 것은?

- ① CRP(Continuous Replenishment Program)는 물류센터에 재고를 보관하지 않고 바로 거래처로 배송하는 것이다.
② CAO(Computer Assisted Ordering)는 소비자의구매형태를 근거로 상품을 그룹화하여 관리하는 것이다.
③ ERP(Enterprise Resource Planning)는 제조-유통업체가 공동으로 생산계획, 수요예측, 재고보충을 구현하는 것이다.
④ VMI(Vendor Managed Inventory)는 공급자가 유통매장의 재고를 주도적으로 관리하는 것이다.

37. 운송수단의 선택에 영향을 미치는 요인으로 옳지않은 것은? 4

- ① 제품의 가치
② 제품의 안전성
③ 운송거리
④ 제품의 품질

38. 선박에 대한 관세, 등록세, 소득세, 도선료, 각종검사료와 세금 및 수수료의 산정 기준이 되며 선박의 크기를 나타낼 때 가장 일반적으로 사용하는선박 톤수는? 1

- ① 총톤수(gross tonnage)
- ② 순톤수(net tonnage)
- ③ 재화중량톤수(dead weight tonnage)
- ④ 배수톤수(displacement tonnage)

39. 화물자동차 적재관리시스템(Vanning Management System)과 관련된 내용이 아닌 것은? 1

- ① 적재계획은 운송화물의 중량과 부피 중 하나를 고려한다.
- ② 다양한 차량을 이용할 수 있을 때에는 가장 적절한 규모의 차량을 이용한다.
- ③ 축중 제한을 초과하지 않도록 전체적인 적재화물의 중량을 통제한다.
- ④ 주문관리시스템(Order Management System)과연동되는 것이 효율적이다.

40. 기존의 도로(공로) 중심의 운송체계를 철도 및 연안운송 등으로 전환하는 것을 뜻하는 용어는?
4

- ① 3PL(3rd Party Logistics)
- ② ITS(Intelligent Transport System)
- ③ 통합물류서비스(Integrated Logistics Service)
- ④ 모달쉬프트(Modal Shift)

41. 해상운송의 효율을 결정하는 요소가 아닌 것은? 4

- ① 화물의 종류
- ② 화물의 중량 및 용적
- ③ 화물의 운송거리
- ④ 화물의 포장디자인

42. 운송수단별 특징에 관한 설명으로 옳은 것은? 4

- ① 항공운송과 파이프라인운송은 화물의 종류에 제약을 받지 않는다.
- ② 철도운송과 도로운송은 중량의 제한을 받지 않는다.
- ③ 항공운송과 도로운송은 장거리운송에 적합하다.
- ④ 도로운송과 항공운송은 소·중량 화물운송에 적합하다.

43.해상운송을 타 운송수단과 비교한 것으로 옳지 않은 것은? 5

- ① 대량화물의 장거리 운송에 적합하다.
- ② 화물의 용적 및 중량에 대한 제한이 적다.
- ③ 항공운송에 비해 운임이 저렴하다.
- ④ 도로운송에 비해 운송의 완결성이 높다.

44. 화물자동차 운임 결정에 영향을 주는 요소에 관한 설명으로 옳지 않은 것은? 2

① 화물의 취급이 어려울수록 운임은 증가한다.

② 밀도가 높은 화물은 동일한 용적을 갖는 적재용기에 많이 적재하게 되어 밀도가 높을수록 단위 무게당 운임은 증가한다.

③ 한 번에 운송되는 화물의 단위가 클수록 대형차량을 이용하게 되며, 이 때 단위 당 부담하는 고정비 및 일반관리비는 감소한다.

④ 적재율이 떨어지면 운송량이 적어져 단위 당 운임은 증가한다.

45. ICD에서의 1일 컨테이너 처리 물량이 20피트형 400개, 40피트형 300개,

10피트형 200개일 때 월 25일간 작업할 경우 연간 컨테이너 처리 물량은 몇 TEU인가?

① 220,000 TEU ② 270,000 TEU ③ 330,000 TEU ④ 550,000 TEU

46. 철도운송 방식에 관한 설명으로 옳지 않은 것은? 3

① 플렉시벤 방식은 COFC의 유형이다.

② COFC가 TOFC보다 보편화되어 있다.

③ 피기백 방식은 COFC의 유형이다.

④ TOFC와 COFC는 트레일러 운송 여부에 따라 구분된다.

47. 파이프나 H형강 등 장척물의 수송이 주목적이며, 폴 트레일러를 연결하여 적재함과 턴테이블이 적재물을 고정시켜 수송하는 것은? 1

① 폴 트레일러 트럭(pole-trailer truck)

② 폴 트레일러 트럭(full-trailer truck)

③ 세미 트레일러 트럭(semi-trailer truck)

④ 모터 트럭(motor truck)

48. 육상운송장비에 관한 설명으로 옳지 않은 것은? 5

① 컨테이너 채시(container chassis)는 세미 트레일러를 컨테이너 운송 전용으로 사용하기 위해 제작한 것이다.

② 스캐레탈(skeletal) 트레일러는 컨테이너 운송을 위해 제작된 트레일러로서 전후단에 컨테이너 고정장치가 부착되어 있으며 20피트용, 40피트용 등의종류가 있다.

③ 폴(full) 트레일러는 트레일러와 트랙터가 완전히분리되어 있다.

④ 모터트럭(motor truck)은 동력부문과 화물적재부문이 분리되어 있는 일반 화물자동차이다.

49. 화물자동차의 운송형태에 관한 설명으로 적합하지 않은 것은? 1

① 집배운송은 주로 대형 트럭을 이용하여 장거리 운송하는 것이다.

② 간선운송은 대량의 화물을 취급하는 물류거점 간에 운송하는 것이다.

③ 자가 운송은 화주가 직접 차량을 구입하고 그 차량을 이용하여 자신의 화물을 운송하는 것이다.

④ 지선운송은 물류거점과 소도시 또는 물류센터, 공장 등까지 운송하는 것이다.

50. 철도운송에 관한 설명으로 옳은 것은? 2

- ① Single wagon train: 한 개의 중간터미널을 거치는 것을 제외하고는 셔틀트레인과 같은 형태의 서비스 방식
- ② 셔틀 트레인: 철도역이나 터미널에서 화차조성비용을 절감하기 위해 화차의 수 및 형태가 고정되어 있는 서비스 방식
- ③ Y-셔틀 트레인: 복수의 중간역 또는 터미널을 거치면서 운행하는 열차서비스 방식
- ④ 블록 트레인: 중·단거리 수송이나 소규모 터미널에서 이용 가능한 소형 열차서비스 방식
- ⑤ 켄거루 방식: 트레일러가 화물열차에 대해 직각으로 후진하여 무개화차에 있는 컨테이너를 바로 적재하는 방식

51. ULD(Unit Load Device)에 관한 설명으로 옳지 않은 것은 ? 2

- ① 신속한 항공기 탑재 및 하역작업으로 항공기의 가동률을 제고한다.
- ② 항공기의 적재 위치별로 내부공간이 달라도 동일한 항공기 내에서는 하나의 형태를 갖는다.
- ③ 항공화물운송에 사용되는 컨테이너, 파렛트, 이글루 등 항공화물 탑재용구의 총칭이다.
- ④ 외면표기(markings)는 IATA의 규정에 의해 ULDDType Code, Maximum Gross Weight, The ActualTare Weight를 반드시 표기하도록 하고 있다.
- ⑤ 항공기 간의 호환여부에 따라 Aircraft ULD와Non-Aircraft ULD로 구분한다.

52. 항공화물운송장(AWB)과 선하증권(B/L)을 비교 설명한 것으로 옳지 않은 것은? 4

- ① 항공화물운송장은 화물수령증이고 선하증권은 권리증권의 성격을 가진다.
- ② 항공화물운송장은 송하인이 작성하는 것이 원칙이고 선하증권은 통상 운송인이 작성한다.
- ③ 항공화물운송장의 발행시기는 화물인도시점이고선하증권은 선적 후에 발행한다.
- ④ 항공화물운송장과 선하증권은 각각 원본 2장을 발행하는 것을 원칙으로 한다.

53. 화물자동차의 운송 효율화 방안과 관련이 없는 것은? 2

- ① 운송물량의 대형화
- ② 상·하차 대기 시간의 연장
- ③ 운송장비의 전용화
- ④ 콘솔(consolidation) 운송시스템의 구축

54. 정기선 운임에 관한 설명으로 옳지 않은 것은? 5

- ① 종가운임: 귀금속 등 고가품의 가격을 기초로 하여 산출되는 운임
- ② 특별운임: 수송조건과는 별개로 해운동맹 측이 비동맹선과 적취 경쟁을 하게 되면 일정조건 하에서정상 효율보다 인하한 특별효율을 적용하는 운임
- ③ 최저운임: 화물의 용적이나 중량이 이미 설정된 운임산출 톤 단위에 미달하는 경우 부과되는 운임
- ④ 등급운임: 화물, 장소 또는 화주에 관계없이 운송거리를 기준으로 일률적으로 부과되는 운임

55. 공동 수배송의 유형에 관한 설명으로 옳지 않은 것은? 5

- ① 배송공동형: 배송은 공동화하고 화물 거점시설까지의 운송은 개별 화주가 행하는 것
- ② 집화·배송공동형: 집화와 배송을 공동화하는 것
- ③ 노선집화 공동형: 노선의 집화망을 공동화하여 화주가 지정한 노선업자에게 화물을 넘기는 것
- ④ 공동수주 공동배송형: 화주가 협동조합을 설립하여 공동수주 및 공동배송을 하는 것

56. 항공운송에 가장 적합한 화물은?4

- ① 대량 화물
- ② 저가 화물
- ③ 원자재 혹은 반제품
- ④ 신속 배송을 요구하는 고가의 화물

57. 파이프라인 운송의 특징에 관한 설명으로 옳지 않은 것은? 4

- ① 다른 운송수단에 비해서 유지비가 저렴하다.
- ② 연속으로 대량운송이 가능하다.
- ③ 컴퓨터 시스템에 의한 자동화가 가능하다.
- ④ 유류 등을 운송하므로 친환경 운송수단이 아니다.

58. 소화물 일관운송의 특징에 해당하지 않는 것은? 3

- ① 소형·소량화물의 운송을 위한 서비스 제공
- ② 운송인의 일관된 책임운송서비스 제공
- ③ 특정 소수의 이용자들이 요청하는 화물 집화 서비스 제공
- ④ 복잡한 도시 내 집배송에 적합한 운송 서비스 제공

59. 국제물류 시장의 발전과 성장에 영향을 준 요인이 아닌 것은? 5

- ① RFID와 같은 물류 기술의 등장
- ② 글로벌소싱의 확대
- ③ 전문물류업자의 출현
- ④ 무역장벽의 강화

60. 최근의 국제물류 환경변화에 관한 설명으로 옳지않은 것은?2

- ① 운송의 효율성을 높이기 위하여 선박이나 항공기가 고속화, 대형화 되는 추세에 있다.
- ② 항공사 간의 제휴는 감소하는 추세에 있다.
- ③ 국제물류업체간 서비스 경쟁이 심화되면서 전략적 제휴를 확대하고 있다.
- ④ 비용절감과 수송시간의 단축을 위하여 주요 거점항만 및 공항을 중심으로 Hub &Spoke 시스템이 구축되고 있다.

글로벌경영학 - 이건희 교수

1. 어느 기업이 다국적기업인지를 결정하는 기준은 () 이다. B
a) 수출 b) 해외직접투자 c) 글로벌 제휴 d) 산업내 무역

2. 글로벌화 (globalization)는 아래 설명한 현상 중 어떤 현상을 발생시키는가? D
a) 서로 다른 국가에서 동질적 수요패턴을 가진 소비자 등장
b) 서로 다른 국가에서 동일한 경쟁기업 간에 경쟁
c) 한 기업이 생산, 마케팅, 연구개발 등의 활동을 여러 국가에서 수행
d) 모두 해당됨

3. 제품수명주기 (product life cycle) 이론에 의하면, 제품의 도입기와 비교할 때 표준화단계에서 생산자동화로 인해 생산방식이 보다 () 집약적이 되기 때문에 혁신적 제품을 시장에 소개하는 선진국들은 제품수명주기 상의 표준화단계에서 무역통계상으로는 해당제품의 ()이 될 가능성이 높다. D
a) 노동-순수출국
b) 노동-순수입국
c) 자본-순수출국
d) 자본-순수입국

4. 의류회사인 Zara의 한국 생산 및 판매담당 자회사가 스페인으로부터 원단을 수입한다고 가정하자. 또한 유로화의 기준환율이 1유로=1,500원에서 1유로=1,200원으로 변동하였다고 가정하자. 다음의 진술 중 이론적으로 타당한 진술을 택하시오. C
a) 원화가치는 절하되었으며 Zara의 한국시장 가격경쟁력은 향상될 것이다
b) 원화가치는 절하되었으며 Zara의 한국시장 가격경쟁력은 악화될 것이다
c) 원화가치는 절상되었으며 Zara의 한국시장 가격경쟁력은 향상될 것이다
d) 원화가치는 절상되었으며 Zara의 한국시장 가격경쟁력은 악화될 것이다

5. 국내시장에서 차별화된 경쟁력을 갖춘 기업이 해외시장 진출 시에, 내부화우위가 상대적으로 부족하다고 판단하면 () 방식을, 현지국 입지우위가 상대적으로 부족하다고 판단하면 () 방식 진출을 선택할 가능성이 높다. B
a) 해외직접투자-수출
b) 라이선싱-수출
c) 수출-라이선싱
d) 수출-해외직접투자

6. 한국을 모국으로 하는 다국적기업이 유럽지역 총괄본부의 본부장으로 미국국적의 경영자를 임명한다면 이 기업은 () 인사관리정책을 택하고 있는 것이다. C

- a) 자국중심주의적 (ethnocentric)
- b) 현지국중심주의적 (polycentric)
- c) 세계중심주의적 (geocentric)
- d) 상호보완적

7. 전략적 무역정책은 보조금 지급 등 정부의 개입이 ()가 중요한 산업에서 자국 기업의 비교우위 획득에 도움이 될 수 있다고 주장한다. B

- a) 범위의 경제 b) 규모의 경제 c) 내부화 우위 d) 전환비용효과

8. Dunning의 절충이론 (OLI 우위이론)에 따르면, 만약 한국의 경산지역에서 생산하는 것이 인도의 방갈로르지역보다 생산원가측면에서 유리하다면 이러한 우위를 ()라고 한다. C

- a) 독점적 우위 b) 내부화 우위 c) 입지 우위 d) 선도진입자 우위

9. 한국이 일본과 비교하여 섬유제품 생산입지로서 비교우위가 있는지 여부는 ()를 기준으로 판단하여야 한다. C

- a) 한계비용 b) 평균비용 c) 기회비용 d) 매몰비용

10. 해외시장에서의 성공적 전략적 제휴를 위한 파트너 선정의 3C에 속하지 않는 조건은 다음 중 무엇인가? D

- a) 파트너 역량 (capability)
- b) 파트너 양립성 (compatibility)
- c) 파트너 몰입성 (commitment)
- d) 파트너 통제 (control)

11. 다음 중 Hofstede의 국가문화 차원에 속하지 않는 것은 다음 중 무엇인가? C

- a) 개인주의 b) 불확실성 회피 c) 단기지향성 d) 남성성

12. 다음 중 인수방식 해외직접투자를 신규설립방식 해외직접투자보다 선호하는 동기에 해당하지 않는 것을 고르시오. D

- a) 제품수명주기 상 성숙기산업에서의 해외시장 진출
- b) 해당기업이 보유하지 못한 경영자원의 획득
- c) 신속한 현지시장 진입
- d) 비용의 공유

13. 국제합작투자의 동기에 해당하진 않는 것을 고르시오. D

- a) 현지국 정부의 해외투자자 소유지분 규제
- b) 파트너와의 위험 및 비용 공유를 통한 위험감소
- c) 경영불확실성에 대응한 유연성 확보
- d) 기업의 독점적 우위 모방회피

14. 해외시장에서의 마케팅믹스 전략 수립에서, 본국과 현지국 간 경제적 차이 (economic distance)가 클수록 () 전략의 현지화 필요성이 크며, 본국과 현지국 간 문화적 차이 (cultural distance)가 클수록 () 전략의 현지화 필요성이 크다. A

- a) 가격 - 광고
- b) 연구개발 - 조달
- c) 재무 - 회계
- d) 브랜드 - 유통

15. 글로벌 규모의 경제의 달성과 현지화 간 상충관계를 고려할 때, () 사업부제 조직구조는 규모의 경제 달성이 경영의 우선순위인 경우, () 사업부제 조직구조는 현지화가 경영의 우선순위인 경우 채택될 가능성이 높다. A

- a) 제품별 - 지역별
- b) 지역별 - 제품별
- c) 기능별 - 매트릭스
- d) 매트릭스 - 기능별

16. 만약 미국이 동남아 국가로부터의 새우 수입만을 금지한다면 해당 동남아 국가들은 수입국인 미국이 () 원칙을 위배한 혐의로 WTO에 제소할 수 있다. C

- a) 기회주의
- b) 상호주의
- c) 최혜국 대우
- d) 보호주의

17. 변동환율제도 하에서 외환시장의 수요공급 변동이 국가 간 이자율 차이에 의해 결정된다는 견해를 ()라고 한다. B

- a) 구매력평가설
- b) 국제피셔효과
- c) 포트폴리오이론
- d) 외부경제효과

18. ()은(는) 해외생산 시 그 나라에서 생산되는 부품 또는 원자재를 일정비율 이상으로 사용해야 한다는 규정이다. B

a) 수출자율규제 b) 현지화비율 규정 c) 수입할당제 d) 상계관세

19. 다음 중 환위험관리에서 다루는 주요 환노출의 유형에 속하지 않는 것은 무엇인가? D

a) 거래적 환노출 b) 경제적 환노출 c) 회계적 환노출 d) 이전적 환노출

20. 절충이론에 따르면 맥도날드가 한국시장 진출시에 해외직접투자 대신 프랜차이징을 선택한다면 이러한 진출방식 결정은 ()가 상대적으로 부족하다고 평가한 결과로 볼 수 있다. C

a) 독점적 우위 b) 입지 우위 c) 내부화 우위 d) 절대우위

21. 정부가 국제무역에 개입을 하고자 할 때 사용되는 무역규제방법 중 다음은 무엇에 관한 설명인가? A

가장 흔히 사용되는 비관세 장벽으로, 어느 나라에 수입할 수 있는 재화의 양을 일률적으로 규제하는 것을 뜻하며, 이를 부과하는 국가가 수입하는 총량을 쉽게 규제할 수 있는 행정상 편의가 있다.

a) 수입할당제(quota)
b) 보조금(subsidies)
c) 수출자율규제(voluntary export restraints)
d) 현지화비율규정(local content)

22. 국제피셔효과(International Fischer Effect)와 관련된 설명으로 옳지 않은 것은? B

a) 한 국가의 명목이자율은 실질이자율과 기대 인플레이션율을 합친 것으로 결정
b) 어느 두 국가 간의 현물환율은 두 나라간 명목이자율의 차이와 똑같은 양으로 서로 같은 방향으로 변화
c) 한국에서 높은 인플레이션이 예상되어 한국의 명목이자율이 높아진다면 원화의 달러화에 대한 가치는 미래 이자율 차이를 고려하여 낮아지게 되는 현상
d) 단기적으로는 각국 간 이자에 대한 세금, 자본시장에 대한 통제에 따라 적용되지 않을 수도 있지만, 장기적 환율 변동을 예견하는 좋은 지표

23. 마이클 포터(M. E. Porter)의 가치사슬 중에 주활동부문(primary activity)에 해당되는 것은? D

a) 연구개발 b) 재무 c) 법률서비스 d) 마케팅

24. BCG(Boston Consulting Group) 매트릭스에 관한 설명으로 옳은 것은? B

- a) 어떤 사업 단위가 개(dog) 위치에 있었다면 이를 스타(star)로 이동하도록 관리하는 것이 바람직하다.
- b) 자금젖소(cash cow) 상황에서는 갖고 있는 제품을 활용하여 매출액을 증대시키고 수익을 증가하는 것이 최선이다.
- c) 물음표(question mark) 상황은 시장이 커질 가능성도 낮고, 수익도 거의 나지 않는 상황이다.
- d) 스타(star) 상황에 필요한 전략은 현상유지 전략이다.

25. 해외시장진입방식을 결정하는 데 있어서 영향을 주는 외부 환경 요소에 해당하지 않는 것은? B

- a) 문화적 환경 b) 기업이 가진 기술 c) 정치적 환경 d) 해당 산업의 특징

26. 기업의 해외직접투자 방법 중, 기업이 100% 단독투자를 선호하고 빠른 속도의 진입을 필요로 할 경우에는 ()이 적합하며, 현지 네트워크 형성에 유리하고 파트너로부터 현지 상황에 대한 정보를 빠르게 습득해야 할 경우에는 ()이 적합하다. A

- a) 인수합병 - 합작투자
- b) 인수합병 - 신설투자
- c) 신설투자 - 합작투자
- d) 신설투자 - 인수합병

27. 전략적 제휴에 관한 설명으로 옳지 않은 것은? C

- a) 전략적 제휴(strategic alliance)는 경쟁관계에 있는 기이 일부 사업 또는 기능별 활동부문에서 경쟁기업과 일시적인 협조관계를 갖는 것을 뜻한다.
- b) 구체적으로는 연구개발 컨소시엄(R&D consortium), 국제기술제휴, 국제생산라이선스, 국제제품스왑 등의 방법이 있다.
- c) 국제기술제휴의 대표적인 방식으로 주문자상표부착생산방식(OEM)이 있다.
- d) 기능별 제휴의 경우에는 기업이 수행하는 여러 활동 중 극히 제한된 일부 기능에서만 일어나기 때문에 많은 경우에는 지분참여를 하지 않고도 가능하다.

28. 글로벌기업의 대표적인 조직구조 유형에 해당하지 않는 것은? D

- a) 사업부제 조직 b) 매트릭스 조직 c) 기능별 조직 d) 라인(직계) 조직

29. 매트릭스 조직구조에 관한 설명으로 옳은 것은? C

- a) 생산, 영업, 총무 등 기능별로 분화된 조직 구조
- b) 1930년대부터 제품별 다각화, 지역별 다각화를 추구하면서 나타나게 된 형태

- c) 기업을 크게 두 가지 차원으로 나누어 조직에 속한 모든 사람들을 제품과 지역 양쪽 조직에 소속하게 만든 조직 형태
- d) 산업혁명 이후 회사의 규모가 커지고 많은 사람들이 같은 조직 내에 함께 일을 해야 될 필요성이 제기되면서 나타난 위계질서적 조직구조

30. 본사와 자회사 간의 관계정립을 위GO 본사가 자회사에 취할 수 있는 통제메커니즘에 해당되지 않는 것은? D

- a) 정보관리 메커니즘
- b) 인적자원관리 메커니즘
- c) 갈등해소 메커니즘
- d) 통합 메커니즘

31. 본사의 자회사에 대한 통제메커니즘을 적용하기 위해 규정하는 자회사의 4가지 유형에 포함되지 않는 것은? A

- a) 연락자 b) 블랙홀 c) 실행자 d) 전략적 리더

32. 현대경제학의 아버지라고 불리는 아담 스미스(Adam Smith)에 의하여 처음 제기된 이론으로, 각국이 생산에 있어서 절대적인 우위를 가진 제품의 생산에 특화하고 이러한 재화를 다른 나라에서 특화되어 생산된 제품과 교환함으로써 전체적인 부의 증대가 가능하다고 보는 것은 ()이며, 데이비드 리카르도(David Ricardo)에 의해 발전된 이론으로, 한 나라가 다른 나라에 대해 모든 재화에 대해 절대 우위 또는 절대 열위에 있다 할지라도 상대적 효율성이 높은 산업에 전문화함으로써 두 국가 모두에게 무역 이익이 발생한다는 것은 ()이다. B

- a) 비교 우위론 - 절대 우위론
- b) 절대 우위론 - 비교 우위론
- c) 경쟁우위 이론 - 비교 우위론
- d) 절대 우위론 - 경쟁우위이론

33. 아래의 해외시장진출방법 중 그 성격이 다른 하나는? D

- a) 라이선스 b) 프랜차이즈 c) 턴키생산 d) 합작투자

34. 다음 중 구상무역에 해당되지 않는 것은? B

- a) 바터(barter)
- b) 판매회사(sales subsidiary) 설립
- c) 오프셋(offset)
- d) 스위치 트레이딩(switch trading)

35. 글로벌 마케팅 믹스 전략에 해당되지 않는 것은? A

- a) 재무 전략 b) 광고 c) 유통 전략 d) 가격 정책

36. 다국적 기업이 환율변동에 따라 기대하지 않은 불확실성에 직면하게 되는데,

() 환노출은 미리 결정된 가격으로 재화나 서비스를 해외에서 구매하는 계약을 체결하거나, 외국환으로 자금을 빌려 주거나 빌리는 계약을 할 때 발생하며, () 환노출은 이미 발생한 다국적기업의 여러 자회사의 경영성과를 수합하여 연결재무제표를 작성할 때 환율 변동으로 인해서 재무제표 상의 경영성과가 달라지는 것을 뜻한다. C

- a) 경제적 - 회계적
b) 회계적 - 경제적
c) 거래적 - 회계적
d) 회계적 - 거래적

37. 환위험에 대한 대책으로 외국화폐의 환율이 평가절하 된다고 기대될 때 외환으로 표시된 수입금을 받을 시기를 앞당기는 전략을 무엇이라고 하는가? D

- a) 래그 전략(lag strategy)
b) 이전 가격(transfer price)
c) 자본 예산(capital budgeting)
d) 리드 전략(lead strategy)

38. 기업의 생산 및 연구개발 활동의 입지선정요인에 해당되지 않는 것은? A

- a) 조직 구조 b) 국가적 요인 c) 기술상 요인 d) 환율 및 보호무역장벽

39. 미래의 다국적기업조직에서 성공할 수 있는 경영자들에게 요구되는 자질로 옳지 않은 것은? C

- a) 전략적인 사고 b) 국제적 사고 c) 조세회피 d) 교섭 능력

40. 다국적 기업이 처한 환경 중 정치적 환경에 적응하는 방법으로 옳지 않은 것은? B

- a) 다국적 기업이 현지 기업이나 정부와 합작투자를 실시하는 등의 방법으로 주식 공유하기
b) 여러 나라에 투자를 분산시키기보다는 한 국가에 집중적으로 투자하기
c) 투자대상국이 다국적기업에 의존하도록 만들기
d) 보험 상품 가입 등으로 위험 회피하기

41. 법관이 법을 해석할 수 있는 힘이 있는 법적시스템은 무엇인가? C

- a) 무슬림법
- b) 시민법(대륙법)
- c) 관습법(영미법)
- d) 신성법

42. 괄호 안에 들어갈 단어가 순서대로 올바르게 조합된 번호를 고르시오. C

“()는 이데올로기 전쟁이 끝났고 자유민주주의가 승리하였다고 주장 하였으나 ()는 서구 자유 민주주의 이상의 광범위한 수용에 기반한 “보편적” 문명화는 존재하지 않는다고 주장하였다.“

- a) Francis Fukuyama, Max Weber
- b) Samuel Huntington, Francis Fukuyama
- c) Francis Fukuyama, Samuel Huntington
- d) Max Weber, John Rawls

43. World Bank의 창설 이유? B

- a) 국제금융시스템의 질서 유지
- b) 저개발 국가의 사회간접자본에 저리로 이자를 빌려주어 경제발전을 증진
- c) 각 국가가 수용해야할 경제정책의 감독
- d) 평화와 안정의 유지

44. 일반적으로 어느 정도의 개인의 경제적 자유는 허용하나, 공산주의의 부상을 막는다는 근거 하에 정치적 자유는 제한하는 전체주의 유형은? C

- a) 부족 전체주의
- b) 신정 전체주의
- c) 우익 전체주의
- d) 공산 전체주의

45. 법전으로 체계화된 상세한 일련의 법률에 기초하며 법관은 오직 법을 적용하는 힘을 가지고만 있는 법체계는? B

- a) 신성법
- b) 시민법(대륙법)
- c) 국제조약
- d) 관습법(영미법)

46. 2가지 이슬람 은행 방식은? A

- a) mudarabah와 murabaha
- b) mudabah와 muabara
- c) mudarabah와 muraba
- d) mudabah와 murabaha

47. 유엔이 국가별 인간 삶의 질을 측정하기 위해 개발한 지표는? D

- a) GNI
- b) GNP
- c) PPP
- d) HDI

48. 다음 중 국제 기구의 예가 아닌 것은? A

- a) 연방준비은행(Federal Reserve Bank)
- b) 국제 통화 기금(International Monetary Fund)
- c) 세계 은행(World Bank)
- d) 국제무역기구(World Trade Organization)

49. 한 집단에서 좋고, 옳고, 바람직하다고 믿는 추상적 아이디어를 무엇이라 부르는가? C

- a) 태도
- b) 규범
- c) 가치
- d) 도덕적 관습

50. 개인이 태어날 때부터 주어진 계층에서 얼마만큼 벗어날 수 있는가의 확장성을 나타내는 단어는 다음 중 무엇인가? C

- a) 사회 계층화
- b) 계급 이동성
- c) 사회적 이동성
- d) 신분 제도

51. 서로 다른 문화의 사회에서 개인에게 어느 정도로 애매하고 불확실한 상황을 받아들이도록 사회화 시키는지를 측정하는 Hofstede의 차원은 무엇인가? B

- a) 개인주의 대 집단주의
- b) 불확실성 회피성향
- c) 남성성 대 여성성
- d) 권력거리

52. 다음의 보기의 영역 중 다국적 기업의 윤리적 문제와 가장 관련이 없는 것은?

D

- a) 고용 관행
- b) 인권
- c) 환경 규제
- d) 무역 규제

53. 다음 중 다국적 기업이 해외사업에서도 모국의 윤리 기준을 따르는 것이 적절한 것이라고 주장하는 윤리에 대한 철학적 접근은 무엇인가? B

- a) 문화 상대주의
- b) 강직한 도덕자
- c) 프리드먼 주의
- d) 안일한 부도덕자

54. 비구어적 의사소통의 중요한 요소가 아닌 것은? A

- a) 언어
- b) 개인 공간
- c) 얼굴 표정
- d) 손동작

55. 괄호 안에 들어갈 알맞은 단어 조합을 선택하시오. D

()는 자유로운 시장 질서, 사기업 설립, 사기업 운영 방식에 대한 법적인 규제를 완화하는 것이고, ()는 정부 소유의 자산을 개인 투자자에게 넘기는 것으로 주로 경매를 통한 국가 자산의 판매를 통해 이루어진다.

- a) 탈규제, 국유화
- b) 법적체제, 국유화
- c) 법적체제, 경제체제
- d) 탈규제, 민영화

56. 국제 커뮤니케이션의 효율성을 저해하는 요인이 아닌 것은? A

- a) 비교문화적 지식(cross-cultural literacy)
- b) 원천효과(source effect)
- c) 노이즈 레벨(noise level)
- d) 문화장벽(cultural barrier)

57. 입지우위, 규모의 경제, 학습효과를 통한 비용절감과 시장구분에 따라 제품을 조정하는 현지화 전략, 기업의 전세계적 네트워크를 통한 기술 및 역량의 이동을 동시에 추구하는 국제경영전략은? D

- a) 표준화전략
- b) 글로벌전략
- c) 틈새전략
- d) 초국가적 전략

58. 고정환율제도가 국제통화체제로 자리잡게 만든 결정적인 계기는 무엇인가? B

- a) 자메이카 협약
- b) 브레튼우즈 협정
- c) IMF의 창설
- d) 비에나 협약

59. 북미자유무역협정(NAFTA) 체결국이 아닌 국가는? B

- a) 미국
- b) 브라질
- c) 멕시코
- d) 캐나다

60. 유럽연합의 정치기구 중 EU의 법률제정을 제안, 시행하고, 회원국들의 EU법 준수를 감시할 의무가 있는 기구로서 벨기에 브뤼셀에 본부를 두고 있는 기구의 명칭은? D

- a) 유럽의회
- b) 사법재판소
- c) 유럽각료이사회
- d) 유럽위원회

- ① 북한으로 보낸 인도적 차원의 구호물품
- ② 외국에서 개최된 박람회에 출품한 물품
- ③ 해외건설업에 종사하는 우리 업자에게 무상으로 송부한 물품
- ④ 산업통상자원부장관이 지정하는 생산자의 수출물품 포장용 골판지 상자의 공급

7. 다음 중 수출실적에 해당하지 않는 것은? 1

- ① 지급액
② 가득액
③ 수출통관액
④ 입금액

8. 다음 중 수출실적의 인정시점이 다른 것은? 2

- ① 용역의 수출
- ② 내국신용장에 의한 국내공급
- ③ 외국인도수출
- ④ 중계무역을 통한 수출

9. 다음의 수출실적을 설명한 내용 중 잘못 된 것은 ? 2

- ① 중계무역은 수출금액(FOB)에서 수입금액(CIF)을 공제한 금액
- ② 원양어회에 의한 수출 중 현지경비 사용분은 외국환은행의 입금액
- ③ 구매확인서에 의한 공급의 경우는 결제액
- ④ 외국인도수출의 경우는 입금액

10. 다음 중 “용역(서비스)”의 수출에 해당하는 것은? 4

- ① 음반회사가 영화 DVD를 수출한 경우
- ② 외국인이 외국에서 비용을 지불하고 음악 mp3 파일을 다운로드 한 경우
- ③ 봉제공장에서 게임 캐릭터 인형을 제작하여 수출한 경우
- ④ 외국관광객이 우리나라에서 비용을 지불하고 오페라 공연을 관람한 경우

11. 산업통상자원부장관이 수출입승인 대상물품에 대한 승인절차와 방법 등을 밝혀 둔 개별적 수출입 계획을 무엇이라 하는가? 2

- ① 통합공고 ② 수출입공고
③ 전략물자수출입고시 ④ 통상진흥시책

12. 수출입 제한 또는 금지절차에 대한 다음 설명 중 옳지 않은 것은? 4

- ① 이해관계인은 산업통상자원부장관에게 특별조치를 신청할 수 있다.
- ② 특별조치 신청이 있는 경우 30일 이내에 그 사실관계에 대한 조사 여부를 결정하고 신청인에게 알려야 한다.
- ③ 산업통상자원부장관은 필요한 경우 해당 교역상대국과 협의 하여야 한다.
- ④ 조사는 신청일로부터 1년 이내에 종료하여야 한다.

13. 무역업 고유번호를 부여하는 기관은? 2

- ① 한국무역위원회장
② 한국무역협회장

- ③ 대한상공회의소의 장
- ④ 관계중앙행정기관의 장

14. 다음 중 수출입 요령 협의기관과 그 업무를 바르게 연결한 것은? 3

- ① 외교부장관 - 무역대금 결제방법에 관한 사항
- ② 국토교통부장관 - 플랜트 수출에 관한 사항
- ③ 농림축산식품부장관 - 수산물 등의 수출입사항
- ④ 문화체육관광부장관 - 화약류의 수출입사항

15. 다음 중 수출입행위의 승인, 무역진흥조치, 조정명령 등을 행하는 기관은? 1

- ① 산업통상자원부장관 ② 시·도지사
- ③ 자유무역지역관리원장 ④ 관계중앙행정기관의 장

16. 다음 중 무역관리 수탁기관에 속하지 않은 것은? 3

- ① 관계 중앙행정기관의 장 ② 한국무역협회장
- ③ 자유무역지역관리원장 ④ 한국기계산업진흥회장

17. 다음 중 수출입승인면제에 해당하지 않는 것은? 3

- ① 외교관 기타 산업통상자원부이 정하는 자가 출국 또는 입국하는 경우에 휴대하거나 세관에 신고하고 송부하는 물품
- ② 외국환거래 없이 수입하는 물품 등으로서 산업통상자원부장관이 정하여 고시하는 기준에 해당하는 물품
- ③ 해외이주자가 해외이주를 위해 반출하는 원자재·시설재 및 장비로서 산업통상자원 부장관이 인정하는 물품
- ④ 산업통상자원부장관이 정하여 고시하는 지역에 수출 수입하는 물품

18. 다음 중 통합공고 적용배제 물품이 아닌 것은? 1

- ① 수출입절차 간소화를 위한 물품
- ② 외화획득용 원료·기재
- ③ 외국인수수입물품
- ④ 선용품

19. 다음 중 특정거래 형태에 해당하지 않은 것은? 4

- ① 산업통상자원부장관이 정하여 고시하는 기준에 해당하는 거래
- ② 수출 또는 수입의 제한을 회피할 우려가 있는 거래
- ③ 산업보호에 지장을 초래할 우려가 있는 거래
- ④ 외국에서 외국으로 물품의 이동이 있고 대금의 지급이 국내에서 이루어지는 거래

20. 다음 중 대응구매와 관련이 적은 것은? 3

- ① 두 개의 계약서가 사용된다.
- ② 환거래가 발생한다.
- ③ 특수신용장이 사용된다.
- ④ 대응수입의무는 제3국에 전가할 수 있다.

21. 다음 중 산업통상자원부장관이 관장하는 물품에 대한 권한 중 기술표준원장에 게 위임된 것이 아닌 것은? 3

- ① 외화획득용 원료·기재의 기준소요량 결정에 관한 권한
- ② 외화획득 이행여부에 대한 사후관리의 권한
- ③ 외화획득용 원료·기재에 대한 사용목적 변경승인에 관한 권한
- ④ 위탁된 외화획득용 원료·기재의 수입승인에 대한 지휘감독의 권한

22. 다음 중 해당 품목을 관장하는 중앙행정기관의 장에게 위탁된 사항이 아닌 것은? 3

- ① 외화획득용 원료·기재의 기준소요량 결정에 관한 권한
- ② 외화획득 이행기간의 결정 및 그 연장에 관한 권한
- ③ 외화획득용 원료·기재의 양도·양수 승인에 대한 권한
- ④ 외화획득용 원료·기재에 대한 사용목적 변경승인에 관한 권한

23. 다음 중 세관장에게 위탁된 사항이 아닌 것은? 1

- ① 원산지 표시방법에 관한 세부사항의 결정
- ② 원산지 증명서의 발급
- ③ 원산지 표시확인
- ④ 원산지 표시와 관련된 과징금 부과

24. 다음 중 연불조건의 플랜트수출의 승인업무를 위탁받은 기관은? 2

- ① 대한상공회의소장
- ② 한국수출입은행장
- ③ 관계중앙행정기관의 장
- ④ 관계행정기관의 장

25. "정부간 수출계약"에 대한 설명으로 옳지 않은 것은? 3

- ① 우리 정부가 외국정부와 체결하는 수출계약이다.
- ② 우리 정부가 국내기업을 대신하거나 국내기업과 함께 계약의 당사자가 된다.
- ③ 방산물자 등을 유상으로 수출하기 위하여 체결하는 것이다.
- ④ 정부간 수출계약의 전담기관은 대한무역투자진흥공사이다.

26. 다음 중 용역의 수출에 해당하지 않는 것은? 2

- ① 용역의 국경을 넘은 이동에 의한 제공
- ② 비거주자의 국내 이동에 의한 제공
- ③ 거주자의 상업적 해외주재에 의한 제공
- ④ 비거주자의 국내 소비에 의한 제공

27. 수출입 당사자 사이에 직접 거래가 형성되고 물품도 직접 이동되지만 수출입 대금이 제3국의 업자를 통하여 결제하도록 하는 결제형태를 무엇이라 하는가?

4

- ① 중계무역
- ② 통과무역
- ③ 중개무역
- ④ 스위치무역

28. 수출입승인의 유효기간에 대한 다음 설명 중 옳지 않은 것은? 4

- ① 원칙적으로 수출입 승인의 유효기간은 1년으로 한다.
- ② 국내 물가안정이나 수급조절을 위하여 1년 미만으로 단축시킬 수 있다.
- ③ 수출입계약 체결 후 물품의 제조·가공에 시간이 필요한 경우는 2년의 범위에서 정할 수 있다.
- ④ 수출·수입이 혼합된 거래로서 승인기관의 장이 인정하는 경우에는 최장 2년 까지 초과하여 설정할 수 있다.

29. 다음 중 수출입 변경신고 대상이 아닌 것은? 3

- ① 승인의 조건
- ② 물품의 용도
- ③ 물품의 수량
- ④ 물품의 원산지

30. 물품 등을 무환으로 수출하여 해당 물품이 판매되는 범위 안에서 대금을 결제하는 계약에 의한 수출을 무엇이라 하는가? 1

- ① 위탁판매 수출
- ② 임대수출
- ③ 연계무역
- ④ 무환수출입

31. 다음 중 대외무역법상 무역의 대상에 포함되지 않는 것은? 4

- ① 기술
- ② 전자적형태의 무체물
- ③ 서비스
- ④ 대외지급수단을 화제한 서류

32. 다음 중 수출입의 제한 또는 금지조치를 취할 수 있는 경우에 해당하지 않는 것은? 2

- ① 우리나라에 천재지변이 발생한 경우
- ② 교역상대국이 대외무역법에서 정한 우리나라의 권익을 인정하지 않은 경우
- ③ 교역상대국이 우리나라의 무역에 대하여 부당하거나 차별적인 조치를 한 경우
- ④ 국제법에서 정한 평화유지등의 의무를 이행하기 위한 경우

33. 다음 중 물품의 이동에 따른 대금결제관리를 담당하는 법에 해당하는 것은? 1

- ① 외국환거래법
- ② 대외무역법
- ③ 관세법
- ④ 불공정무역행위조사 및 산업피해구제에 관한 법률

34. 다음 중 수출입요령 협의기관으로 연결이 바르지 않은 것은? 4

- ① 국토교통부장관 - 건설장비 등의 수출입사항
- ② 문화체육관광부장관 - 영화, 도서 등의 수출입사항
- ③ 보건복지가족부장관 - 의약품, 마약류 등의 수출입사항
- ④ 국방부장관 - 총포, 화약류의 수출입사항

35. 무역업고유번호에 대한 설명으로 옳지 않은 것은? 2

- ① 산업통상자원부장관은 무역업고유번호를 부여할 수 있다.
- ② 우편, 팩시밀리 등의 방법으로 산업통상자원부장관에게 신청하여야 한다.
- ③ 상호, 주소 등의 변경경사항이 발생한 경우 20일 이내에 알려야 한다.
- ④ 합병, 상속 등으로 기존의 무역업고유번호를 유지하고자 하는 경우에도 신청하여야 한다.

36. 다음 중 시·도지사에게 위임된 사항에 해당하는 것은? 3

- ① 외화획득용 원료 기재의 기준소요량 결정에 관한 권한
- ② 외화획득 이행의무자의 사후관리에 관한 권한
- ③ 외화획득 이행기간 연장에 관한 권한
- ④ 외화획득용 원료 기재의 수입승인에 관한 권한

37. 다음 중 원산지 증명서의 발급 권한을 가진 기관은? 3

- ① 외국환은행장
- ② 대한상사중재원장
- ③ 대한상공회의소장
- ④ 한국기계산업진흥회장

38. 다음 중 대외무역법상 수출에 해당하지 않는 것은? 4

- ① 매매, 임대차 등을 원인으로 물품이 국내에서 외국으로 이동하는 것
- ② 유상으로 물품이 외국에서 외국으로 이동하는 것
- ③ 거주자가 비거주자에게 용역을 제공하는 것
- ④ 수출자가 국내에서 외화를 받고 물품은 인도하는 것

39. 다음 중 입금일이 수출실적 인정시점으로 인정되는 경우에 해당하지 않는 것은? 2

- ① 중계무역
- ② 대북한 유상반출
- ③ 외국인도수출
- ④ 박람회 출품 후 현지 매각된 물품

40. 다음 중 통합공고의 적용배제 물품이 아닌 것은? 4

- ① 외화획득용 원료·기재의 수입
- ② 외국인수수입물품
- ③ 선용품
- ④ 위탁판매수출물품

41. 수출할 것을 목적으로 물품 등을 수입하여 보세구역 및 자유무역지역 이외의 국내에 반입하지 아니하고 수출하는 형태의 수출입을 무엇이라 하는가? 3

- ① 위탁판매수출
- ② 통과무역
- ③ 중계무역
- ④ 중개무역

42. 원산지 판정 기준에 대한 설명으로 옳지 않은 것은? 4

- ① 수입물품이 한 국가에서 전부 생산된 경우는 무조건 그 나라가 원산지국이 된다.
- ② 단순가공활동은 어떠한 경우에도 원산지 판정에 영향을 미치지 아니한다.
- ③ 수입물품이 2개국 이상을 거쳐 생산된 경우에는 실질적 변형을 최종적으로 일으킨 국가가 원산지국이 된다.
- ④ 부가가치기준은 주요부품 또는 주요공정기준보다 우선하여 적용된다.

43. 다음 중 원산지 증명서의 제출이 면제되는 경우에 해당하지 않는 것은? 2

- ① 과세가격 15만원 이하의 물품
- ② 견본품(판매, 전시용 물품이 아닐 것)
- ③ 여행자 휴대품
- ④ 재수출 조건부 면세물품 등 일시수입물품

44. 다음 중 외화획득용 제품에 포함되지 않는 것은? 4

- ① 세관장에 등록된 수입물품 공급업자가 수입하는 선용품
- ② 군납업자가 수입하는 군납용품
- ③ 한국관광용품센타가 수입하는 식자재
- ④ 외국인 전용 관광호텔이 수입하는 식자재

45. 국내에서 물품을 매도하는 거래로서 산업통상자원부장관이 정하는 외화획득 범위에 포함되는 것은? 3

- ① 원화를 받고 국내의 보세지역에 물품을 공급하는 경우
- ② 원화를 받고 공장건설에 필요한 물품을 공급하는 경우
- ③ 정부, 지방자치단체 등이 외국으로부터의 차관자금에 의한 국제경쟁입찰에 의하여 원화를 받고 국내에서 유상으로 물품을 공급하는 경우
- ④ 원화를 받고 외항선박에 선용품을 공급하거나 급유하는 경우

46. 용어의 정의를 잘못 연결한 것은? 3

- ① 외화획득용 시설기재 - 외화획득에 제공되는 물품 등을 생산하는데 사용되는 시설, 기계, 장치, 부품, 구성품
- ② 평균손모량 - 외화획득용 물품을 생산하는데 사용되는 원료의 손모량의 평균량
- ③ 소요량 - 외화획득용 제품 1단위를 생산하는데 사용되는 재료의 총량
- ④ 단위자율소요량 - 기준소요량이 고시되지 아니한 품목의 경우에 외화획득용 제품 1단위를 생산하는데 사용된 재료의 양을 기업이 자율적으로 계산한 것

47. 다음 중 구매확인서의 발급을 위해 필요한 서류에 해당하지 않는 것은? 4

- ① 수출계약서
- ② 내국신용장
- ③ 구매확인서
- ④ 소요량증명서

48. 다음 중 외화획득 이행의무자에 해당되지 않는 것은? 4

- ① 외화획득용 원료·기재를 수입한 자
- ② 외화획득용 원료·기재의 수입을 위탁한 자
- ③ 내국신용장에 의하여 외화획득용 원료·기재를 국내에서 수입한 자
- ④ 외화획득용 원료·기재를 양도한 자

49. 외화획득용 원료·기재의 사후관리 대상에서 제외되는 경우에 해당하지 않는 것은? 2

- ① 품목별 외화획득 미이행율이 10% 이하인 경우
- ② 외화획득 이행의무자의 분기별 미이행율이 10% 이하인 경우
- ③ 외화획득 이행의무자의 책임없는 사유로 외화획득을 미이행한 경우로 산업

통상자 원부장관이 인정한 경우

④ 외화획득용 원료·기재가 수입승인 대상에서 제외된 경우

50. 다음 중 자율관리기업 선정을 위하여 필요한 서류에 해당되지 않는 것은 ? 4

① 수출실적증명서

② 자율관리규정

③ 외화획득의무 성실히 이행 확인서

④ 84년 이후 수출유공 포상 증명서

51. 다음 중 전략물자 수출을 위한 다자간 국제수출통제체제에 포함되지 않는 것은? 3

① 핵공급국그룹

② 오스트레일리아그룹

③ 바르셀로나체제

④ 미사일기술통제체제

52. 다음 중 전략물자의 상황허가를 받아야 하는 경우에 해당되지 않는 것은? 1

① 수출물품에 대한 정보나 목적지에 대하여 보안을 요구하는 경우

② 수출하려는 물품 등이 수입국가의 기술수준과 현저한 격차가 있는 경우

③ 최종 사용자가 해당 물품 등이 활용될 분야의 사업경력이 없는 경우

④ 해당 물품의 최종 수하인이 운송업인 경우

53. 전략물자 수출입허가의 신청시에 제출하여야 하는 서류에 해당하지 않는 것은? 4

① 수출계약서, 수출가계약서

② 수입국 정부가 발행하는 수입목적확인서

③ 수출하는 물품 등의 용도와 성능을 표시하는 서류

④ 수출하는 물품 등의 제조자 및 무역거래자에 관한 서류

54. 일괄수주방식에 의한 수출에 대한 설명으로 옳지 않은 것은? 4

① 산업설비와 함께 기술용역이나 시공을 포함한 수출이어야 한다.

② 시공에는 토목공사, 건축공사, 플랜트설치공사 등이 포함된다.

③ 산업설비 제작자가 직접시공하는 플랜트설치공사는 시공에 포함되지 않는다.

④ FOB 기준 50만 달러 이상의 수출이어야 한다.

55. 산업통상자원부장관이 플랜트수출 촉진기관으로 지정한 기관은? 4

① 한국기계산업진흥회

② 한국수출입은행

③ 한국산업은행

④ 한국기계산업진흥회와 한국플랜트산업협회

56. 원산지 오인우려 수입물품의 원산지 표시에 대한 다음 설명 중 옳지 않은 것은? 4

- ① OEM방식에 의해 생산된 수입물품의 원산지가 주문자의 위치와 다른 경우
- ② 물품에 현저하게 표시되어있는 상호, 상표 등이 원산지와 다른 경우
- ③ 원산지 표시를 상품이나 포장의 전면에 하여야 한다.
- ④ 물품의 특성상 전후면의 구별이 어려운 경우에는 소비자가 물품의 구매과정에서 용이하게 발견할 수 있는 곳에 표시하여야 한다.

57. 다음 중 수입물품의 원산지표시 면제대상이 아닌 것은? 2

- ① 수입된 물품의 하자보수용 물품
- ② 연구개발용품
- ③ 재수출 조건부 면세물품 등 일시수입물품
- ④ 우리나라에서 수출된 후 재수입되는 물품

58. 원산지 사전판정에 관한 다음 설명 중 옳은 것은? 4

- ① 원산지 사전판정의 권한은 세관장에게 맡겨져 있다.
- ② 원산지 사전판정의 요청을 받은 경우 30일 이내에 결정하여 통보하여야 한다.
- ③ 세관장의 원산지 결정에 대해 이의제기가 있는 경우 세관장은 접수일에서 15일 이내에 의견서를 첨부하여 산업통상자원부 장관에게 송부하여야 한다.
- ④ 원산지 사전판정에 이의가 있는 경우에는 30일 이내에 이의제기가 가능하다.

59. 수입원료를 사용한 국내생산물품이 세번(HS6단위)이 변경되지 않은 경우 당해 물품의 총제조원가중 수입원료의 수입가격을 공제한 금액이 몇 퍼센트 이상인 경우에 우리나라를 원산지로 볼 수 있는가? 4

- ① 35% 이상
- ② 51% 이상
- ③ 75% 이상
- ④ 85% 이상

60. 수입수량제한조치에 대한 설명으로 옳지 않은 것은? 3

- ① 수입수량제한조치는 조치 시행일 이후에 수입되는 물품에만 적용된다.
- ② 잠정 수입수량제한조치는 최대 200일까지 사용할 수 있다.
- ③ 수입수량제한조치는 어떠한 경우에도 최근 대표적 3년간 평균수입량(기준수량) 이하로 낮출 수 없다.
- ④ 수입수량제한조치의 최대 적용기간은 8년이다.

무역실무 - 배정한 교수, 김승철 교수

1. 무역의 일반적 특성이 아닌 것은 ? 3

- ① 환이전위험이 발생할 수 있다. ② 해상의존도가 심하다.
- ③ 국제무역에 관한 통일법이 없다. ④ 국제상관습이 적용된다.

2. 우리나라 무역과 관련된 설명으로 틀린 것은 ? 2

- ① 우리나라는 원칙적으로 무역을 자유화시키고 있다.
- ② 무역협회의 허가를 받은 자만이 무역을 할 수 있다.
- ③ 수입한 원자재로 물품을 제조하여 수출하는 경우 원자재 수입시 납부한 관세를 환급받을 수 있다.
- ④ 무역에서 적하보험은 해상적하보험이 가장 많다고 할 수 있다.

3. 다음의 내용 중에서 Business Proposal에 들어갈 내용으로 가장 거리가 먼 것은 ? 3

- ① 상대방을 알게 된 경위
- ② 자사 취급품목
- ③ 확정적 구체적 거래조건
- ④ 자사의 credit reference

4. 해외거래처에 대한 신용조사내용 중 3 C's가 아닌 것은 ? 1

- ① Country ② Capital ③ Character ④ Capacity

5. 무역계약의 특징으로서 틀린 것은 ? 1

- ① 요물계약 ② 쌍무계약 ③ 불요식계약 ④ 유상계약

6. 무역계약의 성립에 대한 설명으로 틀린 것은 ? 2

- ① 계약은 당사간의 합의에 의하여 성립된다.
- ② 우리나라 법상 의사표시의 효력발생시점은 원칙적으로 도달주의를 채택하고 있는데, 청약을 우편으로 하는 경우 효력발생시점은 발신주의이다.
- ③ 무역계약의 사실은 증인의 증언에 의하여도 입증될 수 있다.
- ④ CISG에 따르면 무역계약을 우편으로 체결할 때에 피청약자의 승낙의 통지가 우체국 계원에게 인계된 때에 그 효력이 발생되지 않는다.

7. 청약에 대한 설명으로 틀린 것은 ? 1

- ① firm offer에는 반드시 그 유효기간이 명시되어야 한다.
- ② free offer는 법적으로 offer가 아니다.

- ③ 청약은 그 내용이 확정적이어야 한다.
- ④ 미국법에서는 cross offer를 계약이 성립한 것으로 보지 않는다.

8. 청약의 효력소멸에 대한 설명으로 틀린 것은 ? 4

- ① CISG는 원칙적으로 청약의 취소를 인정하기 때문에 청약자가 유효기간이 남아 있는 청약을 취소하면 그 청약은 효력이 소멸된다.
- ② CISG에 따르면 피청약자가 청약을 취소불능이라고 믿는 것이 합리적이고 이를 신뢰하여 행동을 한 경우 청약은 취소될 수 없다.
- ③ CISG에 따르면, 유효기간이 1개월인 4월 10일의 청약에 대하여 피청약자가 4월 15일 청약에 대한 거절통지를 우편으로 발신하고, 그 우편이 16일 청약자에게 도착했다면 16일부터 청약의 효력은 소멸된다.
- ④ 대륙법에 따르면 유효기간이 남아 있더라도 청약자가 취소하면 청약의 효력은 소멸된다.

9. 무역계약의 승낙에 대한 설명으로 틀린 것은 ? 4

- ① 승낙은 청약에 대한 절대적 동의의 의사표시를 말한다.
- ② 청약에 대하여 피청약자가 거절 또는 동의의 어떠한 의사표시를 하지 않더라도 관행에 따라 승낙으로 간주될 수도 있다.
- ③ 승낙은 구두가 아닌 어떠한 행위에 의하여도 할 수 있다.
- ④ 우리나라 법에 따르면 전보로 승낙을 한 경우 청약자에게 도달할 때 계약이 성립한다.

10. 무역계약의 승낙에 대한 설명으로 틀린 것은 ? 4

- ① 승낙기간이란 청약의 유효기간을 의미한다.
- ② 청약에 지정된 회신방법이 정해져 있었는데, 그 보다 빠른 방법으로 승낙을 했는데 예정된 시간보다 늦게 도착한 경우 계약은 성립되지 않는다.
- ③ conditional acceptance는 승낙으로 간주되지 않는다.
- ④ CISG에 따르면 승낙의 발신은 유효기간 내에 이루어졌으나 도착이 늦은 경우라도 계약은 성립된다.

* 다음의 무역계약의 일반거래조건을 읽고 물음에 답하시오.(11-12)

The Seller shall not be responsible for the delay in shipment due to force majeure, including mobilization, war, riots, civil commotion, hostilities, blockade, requisition of vessels, prohibition of export, fires, floods, earthquakes, tempests, and any other contingencies, which prevent shipment within the stipulated period. In the event of any of the aforesaid causes arising, documents proving its occurrence or existence shall be sent by the Seller to the Buyers without delay

11. 상기의 예문에서 불가항력으로 나열된 것이 아닌 사태는 ? 2

- ① 전염병 ② 노동쟁의 ③ 징발 ④ 폭동

12. 상기의 예문내용과 틀린 것은 ? 1

- ① 불가항력사태로 선적이 불가능하게 되면 계약은 소멸된다.
② 불가항력사태의 발생이 예견불가능 했어야 인정된다.
③ 매도인은 그러한 사태의 발생이나 존재를 증명하는 증명서를 전신으로 지체없이 매수인에게 송부하여야 한다.
④ 상기의 예문에 열거된 사태 외의 사태도 불가항력이 될 수 있다.

13. 무역계약의 품질조건에 대한 설명으로 틀린 것은 ? 3

- ① 광산물의 무역계약에서 'Sale on Standard'의 품질결정방법이 주로 이용된다.
② Sale by Sample은 주로 공산품의 거래에 주로 이용된다.
③ 품질조건결정방법에 있어서 FAQ는 'Sale on Standard'방법 중의 하나이며, 냉동생선과 같은 상품의 거래에 주로 이용된다.
④ 소재, 구조, 성능 등이 복잡한 물품의 거래에는 주로 'Sale by specification' 품질결정방법이 주로 이용된다.

14. 품질조건과 수량조건에 대한 설명으로 가장 틀린 것은 ? 2

- ① landed quality terms 에서는 수출자가 수입국에서 양륙할 때까지 물품의 품질을 책임지는 조건이다.
② T.Q, R.T 조건은 shipped quality terms 조건들이다.
③ 국가에 따라서 실제적으로 단위당 수량이 다른 경우가 있다.
④ 일반적으로 M/L Clause는 포장단위로 거래가 이루어지는 상품의 무역거래에서는 필요없다고 할 수 있다.

15. 무역계약의 과부족허용조항에 대한 설명으로 맞는 것은 ? 1

- ① 송금방식으로 대금결제조건을 결정한 무역계약에서 운송도중에 자연적인 중량감소 등이 발생할 가능성이 있는 경우 과부족허용조항을 합의하는 것이 바

람직하다.

- ② 무역계약에서 물품의 수량, 금액, 단가 등에 'about', 'circa', 'approximately' 등의 용어를 사용하면 10%의 과부족이 허용된다.
- ③ 무역계약에서 과부족 용인조항에는 과부족의 선택권자는 주로 매수인이 된다.
- ④ 무역계약에서 과부족허용조항이 없는 경우에도 원칙적으로 5%의 과부족이 허용된다.

16. 무역계약의 선적조건에 대한 설명으로 틀린 것은 ? 4

- ① 'shipment'는 'dispatch'와 'pick up'의 의미도 있다.
- ② 신용장방식의 무역계약의 선적조건에 'prompt shipment'라는 표현이 있는 경우, 은행은 이를 무시한다.
- ③ 선박에 선적된 화물을 중간기착지에서 항공기에 재선적하여 운송하는 경우도 'transshipment'에 해당된다.
- ④ 신용장에 분할선적이 금지하는 문언이나 허용하는 문언이 없는 경우에 분할선적은 허용되지 않는다.

17. 한국의 무역관리제도에 대한 설명으로 틀린 것은 ? 3

- ① 거래형태별 관리도 한다.
- ② 현재 수출입공고상 무역금지품목은 없다.
- ③ 현재의 외국환거래법은 외국환관리에 주요 목적을 두고 있다.
- ④ HS상품분류시스템은 세계 공통 6단위이다.

18. 현행 Incoterms 2010에서 매도인이 적하보험계약을 체결하여야 하는 조건은 ? 3

- ① CPT ② FCA ③ DDP ④ CFR

19. 무역계약의 클레임해결방법으로서의 중재에 대한 설명으로 틀린 것은 ? 1

- ① 무역클레임의 해결방법으로 가장 바람직한 방법은 국제상사중재이다.
- ② 중재합의는 서면으로 이루어져야 한다.
- ③ 중재인은 무역거래에 정통한 전문가로 구성되어 있다고 할 수 있다.
- ④ 중재에도 법이 적용된다.

20. Incoterms 2010에 대한 설명으로 틀린 것은 ? 1

- ① Incoterms가 적용되는 경우 당사자들이 그 내용의 일부를 변경하여 적용할 수 없다.
- ② 무역계약에서 Incoterms를 이용함으로써 무역클레임을 예방하고 정형거래조건의 해석에 관한 불확실성을 제거하여 준다.

- ③ Incoterms는 국제상업회의소에 의하여 1936년에 처음으로 제정되었다.
- ④ 현재 제6차 개정 'Incoterms 2000'에는 13가지의 정형거래조건에 대한 해석규칙을 규정하고 있다.

21. 다음의 Incoterms 조건들 중에서 위험과 비용의 분기점이 다른 것을 모두 고르시오. 2, 4

- ① DDP ② CFR ③ DDU ④ CPT

22. FCA조건에 대한 설명으로 틀린 것은 ? 4

- ① 해상운송에도 이용가능하다.
- ② 인도가 발생하는 장소에 따라서 운송인에게 인도하는 방식이 달라지는 조건이다.
- ③ FCA의 다음에는 수출국 지정 장소가 기록된다.
- ④ 운송계약체결의무는 수출자에게 있다.

23. 다음의 Incoterms 2010 조건들 중 적하보험계약이 체결되는 경우 보험계약자와 피보험자가 같은 조건을 모두 고르시오. 2, 3.

- ① CIF ② CFR ③ FCA ④ CIP

24. Incoterms 2010 중 국제운송계약을 매수인이 체결하는 조건이 아닌 것은? 4

- ① EXW ② FOB ③ FCA ④ DAT

25. Incoterms 2010 중 수입관세 지급의무가 매수인에게 있는 조건을 모두 고르시오. 3

- ① DAT ② DAP ③ DDP ④ CIF

26. 신용장의 기능과 이점에 대한 설명으로 틀린 것은? 2

- ① 신용장은 신용위험 배제기능을 한다.
- ② 일반적으로 신용장거래에서 수입자는 직접적 금융수혜를 받는다.
- ③ 무역계약에서 대금결제조건이 신용장 조건인 경우 수입자는 다른 거래조건들을 자신에게 유리하게 협상할 수도 있다.
- ④ 신용장은 환이전위험을 배제하는 기능을 한다.

27. 신용장에 대한 설명으로 틀린 것은 ? 4

- ① 현행 UCP 600에 따르면 은행만이 신용장을 발행할 수 있다.
- ② 발행은행은 독자적으로 지급의무를 조건부로 부담한다.
- ③ 전자적 신용장도 이용될 수 있다.

④ 지정은행은 수권받은 매입, 지급 또는 인수 행위를 할 의무를 부담한다.

28. 다음 중 구상무역에 이용되는 신용장이 아닌 것은 ? 1

① 전대신용장 ② 동시발행신용장 ③ 기탁신용장 ④ 토마스신용장

29. 신용장통일규칙에 대한 설명으로 틀린 것은 ? 3

- ① 1933년에 처음으로 제정되었다. ② 현재 UCP 규칙은 2007년 7월 1일부터 적용되고 있다.
③ eUCP는 전자신용장에 적용된다.
④ 신용장에 UCP에 대한 준거문언이 없고 eUCP에 대한 준거문언만 있는 경우도 UCP는 적용된다.

30. 해상운송에 대한 설명으로 틀린 것은 ? 4

- ① 화주는 정기선에 의한 국제운송을 할 경우에 운송인과 개품운송계약을 체결한다.
② 부정기선 운임은 당시의 수요와 공급에 의하여 결정된다.
③ 정기선운송은 해운동맹이 결성되어 독과점행위가 발생하기도 한다.
④ 선하증권이 발행될 때 해상운송계약이 체결된다.

31. 무역관리제도에 대한 설명이다. 맞는 것을 고르시오.

- ① 현재 무역업고유번호제도는 임의제도이지 강제성이 없으며 부여권한은 산업자원부장관에게 위임되어 있다.
② 수출입의 제한품목 및 금지품목은 'Positive List System'을 사용한다.
③ 수출입공고상 자동승인품인 경우, 통합공고상에서 제한하고 있는 품목이라도 수출입 승인을 받을 수 있다.
④ 감류 및 을류 등 모든 무역대리업은 폐지되었다.

정답 : 4

32. 다음 중 무역으로 범위에 해당하지 않는 것은?

- ① 국내(외국)에서 외국(국내)으로 물품이 무상으로 이동하는 경우
② 외국에서 외국으로 물품을 무상으로 인도하는 행위
③ 거주자(비거주자)가 비거주자(거주자)에게 전자적형태의 무체물을 정보통신망을 통한 전송 기타 산업통상자원부 장관이 정하는 방법으로 인도(인수)하는 것
④ 거주자(비거주자)의 비거주자(거주자)에 대해 산업통상자원부장관이 정하는 방법으로 제공하는 용역은 용역

정답 : 2

33. 다음 중 대외무역법에 따른 수출로 인정되는 것은?

- ① 국내 A사가 일본 B기업과 매매계약을 체결하고 일본 B기업의 국내지점에게 물품을 인도한 경우
- ② 국내에서 직접 발한 제품을 홍콩소재 관계회사 A사에게 생산을 위탁하고 생산제품을 일본고객에게 현지인도하고 이를 위해 홍콩의 A사에게 생산에 필요한 원재료의 일부를 공급하는 경우
- ③ 중국에서 원료를 구매하여 국내로 반입하지 않고 베트남으로 송부한 후, 베트남에서 완제품을 생산, 이를 미국으로 무상인도하는 경우
- ④ 우리나라 보세구역내의 보세공장으로부터 수출 신고하여 보세구역으로 장치한 경우

정답 : 2

34. HS (Harmonized System)에 관한 설명이다. 옳은 것을 고르시오.

- ① HS코드의 구조는 전세계적으로 10단위로서 한국은 HSK를 준용하고 있다.
- ② SITC는 산업통상자원부에서 무역동향을 파악하기 위하여 준용하는 상품분류체계이다.
- ③ 한·아세안 FTA 협정의 원산지 기준을 충족하기 위해 부가가치 기준에서 한국 내에서 창출된 부가가치가 해당 제품가격의 40% 이상, HS 세번 변경기준에서는 HS 코드 4단위에서 세번 변경이 일어나야 한다.
- ④ 전세계의 무역업자가 가격산정 근간이 되는 상품분류 체계이다.

정답 : 3

35. 신용조사 평가기준에 대한 내용이다. 틀리게 짝지어진 것을 고르시오.

- ① Capital : 생산능력 ② Collateral: 담보능력
- ③ Condition : 거래통화 ④ Bank Reference : 은행조회

정답 : 1

36. 다음 중 무역통계 활용을 위해 접속해야 하는 사이트가 아닌 것은?

- ① www.kita.net ② www.customs.go.kr ③ www.kotra.or.kr ④ www.mosf.go.kr

정답 : 4번 (기획재정부)

37. 다음의 내용에 해당하는 청약의 유형을 고르시오.

Your price is too high. We can accept the offer at US\$20 per set CIF NewYork

- ① free offer ② firm offer ③ counter offer ④ conditional offer

정답 : 3

38. 불확정 청약에 대한 설명 중 틀린 것은?

- ① 유효기간이 설정되어 있지 않은 것이 일반적이다.

- ② 상대방의 승낙만으로 매매계약이 성립하지 않고 승낙에 대한 청약자의 최종확인이 있어야 매매계약이 성립한다.
- ③ offer subject to being unsold가 대표적인 불확정청약중 하나다.
- ④ 청약자는 피청약자의 동의나 사전통고없이 언제든지 임의로 조건을 변경, 철회할 수 없다.

정답 : 4

39. “This offer is subject to our market fluctuation”과 같은 청약에서 계약의 성립 시기를 올바르게 설명한 것은?

- ① 청약자의 청약에 대해 피청약자가 승낙하면 계약이 성립된다.
- ② 청약자의 청약이 피청약자에게 도달하면 계약이 성립된다.
- ③ 피청약자의 청약이 청약자에게 유효기간내에 도달하면 계약이 성립된다.
- ④ 피청약자의 승낙을 청약자가 확인하면 계약이 성립된다.

정답 : 4

40. 무역계약시 목재나 냉동어류에 대한 품질결정기준으로 삼는 조건은?

- ① FAQ ② USQ ③ GMQ ④ CQD

정답 : 3

41. 다음의 국제물품매매계약의 법적 성격을 고려할 때 그 연결이 타당하지 않은 것은?

- ① consensual contract-계약의 성립 ② bilateral contract-채무의 부담
- ③ remunerative contract-채무의 이행 ④ informal contract-계약의 이행

정답 : 4

42. 동일거래선과 정기적으로 물품매매계약을 체결할 경우 적절한 계약은?

- ① case by case contract ② exclusive contract
- ③ agency agreement ④ master contract

정답 : 4

43. 다음은 품질의 결정방법이다. 그 연결이 잘못된 것은?

- ① sales by sample-toys ② sales by specification-rail car
- ③ sales by standard-tractor ④ sales by trade mark-Nikon Camera

정답 : 3

44. 일반적으로 청약의 효력사멸사유에 해당되지 않는 것은?

- ① 거절 ② 반대청약 ③ 시간의 경과 ④ 청약의 확인

정답 : 4

45. “ We offer you firm subject to your reply reaching us by April 30”과 같은
청약의 효력발생시기는?

- ① 발신주의 ② 도달주의 ③ 의사주의 ④ 요지주의

정답 : 2

46. 다음 중 성격이 다른 하나는?

- ① shipped quality term ② R.T ③ T.Q ④ S.D

정답 : 2

47. More or less clause 를 적용하기에 적합한 품목은?

- ① 석탄 ② 휴대폰 ③ 반도체 ④ 사과

정답 : 1

48. 중계 및 중개무역에 대한 설명이다. 맞는 것을 고르시오

- ① 중계무역 : 수수료차이가 목적
② 중개무역 : 수출업자는 매매계약의 당사자
③ 중계무역 : 최종수입국에 원산지 증명제공 불필요
④ 중개무역 : 대외무역법상 규정하지 않고 있는 무역형태

정답 : 4

49. 다음 중 성격이 다른 하나는?

- ① compensation trade ② switch trade
③ product buy back agreement ④ counter purchase

정답 : 2 (간접무역, 그 외는 연계무역해당)

50. 매매계약조건과 관련한 내용이다. 틀린 것을 고르시오.

- ① R.T 는 공산품으로서 표준품에 의한 매매(sales by standard)로 품질을 결정한다.
② 선박, 철도, 의료기구 등은 명세서매매(sales by specification)이 적합하다.
③ T.Q조건의 경우 품질의 입증책임은 매도인에게 있다.
④ 공산품 매매에 보편적으로 사용되는 것은 견본매매(sales by sample)이다.

정답 : 1

51. 과일을 수출시 품질을 결정하는 적절한 방식은?

- ① FAQ ② GMQ ③ R.T. ④ USQ

정답 : 1

52. 하인의 내용 중 반드시 표시해야 하는 부분이 아닌 것은?

- ① Main Mark ② Weight Mark ③ Port Mark ④ Case Number

정답 : 2

53. sale by trade mark와 관련 있는 것은?

- ① 선박 ② 과일 ③ Nike 신발 ④ 인형

정답 : 3

54. Back to Back L/C와 관련있는 무역형태는?

- ① 물물교환 ② 구상무역 ③ 대응구매 ④ 중개무역

정답 : 2

55. ()는 매도인이 그의 영업구내 또는 기타지정장소(예컨대, 작업장, 공장,창고 등)에서 물품을 매수인의 처분하에 두는 때에 매도인이 인도한 것으로 되는 것을 의미한다.

- ① 공장인도 ② 운송인인도 ③ 운송비지급인도 ④ 도착터미널인도

정답 : 1

56. <도착장소인도조건>에서 매도인은 해당되는 경우에 물품의 수출통관을 하여야한다. 당사자간에 매도인이 물품을 수입통관하고 수입관세를 부담하며 수입통관절차를 수행하도록 원하는 때에는()이(가) 사용되어야 한다.

- ① 관세지급인도 ② 선측인도 ③ 도착터미널인도 ④ 운임포함인도

정답 : 1

57. 환어음이 다른 운송서류와 함께 발행되면 ()이라고 하며, 반면 운송서류가 첨부되지 않고 환어음 단독으로도 결제가 가능할 경우에는 무담보어음(clean bill of exchange)이라고 한다.

- ① 매입제한 어음 ② 비운송어음 ③ 화환어음 ④ 상업어음

정답 : 3

58. 환어음의 결제방식중 30d/d가 의미하는 것은?

- ① sight draft ② 일람후 정기출급 ③ 일부후 정기출급 ④ 확정일 정기출급

정답 : 3

59. “신용장 거래에 있어서 모든 관계 당사자들은 서류상의 거래를 하는 것이지 그러한 서류들과 관련된 상품, 용역 그리고 또는 기타계약 이행상의 거래를 하는 것은 아니다”와 관련 있는 것은?

- ① 신용장의 독립성 ② 신용장의 추상성
- ③ 신용장의 엄격일치의 원칙 ④ 신용장의 상당일치의 원칙

정답 : 2

60. 신용장의 'transferable' 용어와 관련된 신용장은?

- ① 양도가능 신용장 ② 매입제한 신용장 ③ 상환청구 가능 신용장 ④ 일람출급신용장

정답 : 1

정답: 3

5. 다음 설명과 관련이 있는 것은?

A temporary government order to prevent the arrival or departure of ship, especially in times of war; also a temporary prohibition of trade by authority.

- ① embargo ② disposal risk
- ③ forgery ④ deviation

정답: 1

[문제 6-15] 다음 영어문장을 우리말로 옮길 때 가장 적합하게 해석된 것을 고르시오

6. Their account with us is on quarterly settlement terms.

- ① 당사와 동사의 계정은 연 (3개월마다) 4회 결제하는 조건으로 지급되었다.
- ② 당사와 동사의 계정은 연 (4개월마다) 3회 결제하는 조건으로 지급되었다.
- ③ 당사와 동사의 계정은 3개월에 걸쳐 결제조건으로 지급되었다.
- ④ 당사와 동사의 계정은 4개월에 걸쳐 결제조건으로 지급되었다.

정답: 1

7. Many thanks for your order of July 23, which will be shipped by "MAYFLOWER" due to leave Busan on August 5.

- ① 7월 23일 부산을 출발하여 8월 5일에 도착예정인 "MAYFLOWER"호 편에 주문품을 선적해 드리겠습니다. .
- ② 귀사의 주문에 매우 감사드리며 7월 23일에 부산을 떠나 8월 5일 도착예정인 "MAYFLOWER"호 편에 주문품을 선적해 드리겠습니다.
- ③ 7월 23일자 귀사의 주문에 매우 감사드리며 8월 5일 도착예정으로 부산을 출발하는 "MAYFLOWER"호 편에 주문품을 선적해 드리겠습니다.
- ④ 7월 23일자 귀사의 주문에 매우 감사드리며 8월 5일 부산을 출발할 예정인 "MAYFLOWER"호 편에 주문품을 선적해 드리겠습니다.

정답: 4

8. We have acquired the premises at the above address for new retail store to be opened on 1st september.

- ① 9월 1일에 새로운 소매점을 개설하기 위해서는 상기의 주소로 약속을 해 주시기 바랍니다.
- ② 당사는 상기 주소에 장소를 마련하여 9월 1일부터 새로운 소매점을 개설할 예정입니다.
- ③ 당사는 상기 주소에 9월 1일부터 새로운 소매점을 개설할 약속을 드립니다.
- ④ 9월 1일에 새로운 소매점을 개설할 예정이라면 상기의 주소에 있는 장소를 이용하여 주십시오.

정답: 2

9. From all list prices we allow a trade discount of 20% on orders received on or before May 31.

- ① 모든 정가대로 20% 주문량을 줄여서 주문을 해 주신다면 5월 31일까지 받으실 수 있습니다.
- ② 모든 정가에서 20% 할인하여 주문을 해 주신다면 5월 31일까지 받으실 수 있습니다.
- ③ 모든 정가대로 5월 31일까지 접수되는 주문에 대해서는 주문량의 20%을 줄입니다.
- ④ 모든 정가에서 5월 31일까지 접수되는 주문에 대해서는 20%의 거래 할인을 해드립니다.

정답: 4

10. We should be grateful for your opinion of their ability to meet commitments of this size.

- ① 동사가 주문량을 처리할 수 있는지에 대한 귀사의 견해를 알려 주시면 감사하겠습니다.
- ② 동사가 주문한 제품의 사이즈를 제공해 줄 수 있는지에 대한 귀사의 견해를 알려 주시면 감사하겠습니다.
- ③ 동사가 제품 사이즈의 불량률 어느 정도 해결할 수 있는지에 대한 귀사의 견해를 알려 주시면 감사하겠습니다.
- ④ 동사가 이 정도 금액을 감당할 능력이 있는지에 대한 귀사의 견해를 알려 주시면 감사하겠습니다.

정답: 4

11. We are prepared to give you a 12% allowance to compensate you for the defects in the goods shipped.

- ① 당사는 선적된 물품에서의 결함에 대해서 귀사에게 주문량의 12%를 더하여 다음 거래에서 제공하고자 합니다.
- ② 당사는 선적된 물품에서의 결함에 대하여 귀사에게 보상하기 위하여 12%의 할인을 귀사에게 제공하고자 합니다.
- ③ 당사는 선적된 물품에서의 결함 가운데 12%에 한하여 귀사에게 변상할 준비가 되어 있습니다.
- ④ 당사는 선적된 물품에서의 결함에 대해서 귀사에게 주문량의 12%를 변상할 준비가 되어 있습니다.

정답: 2

12. We are pleased to offer you firm the goods subject to your reply reaching us by May 3.

- ① 5월 3일까지 도착하는 회의의 주제를 확정하여 귀사에 전달 할 수 있게 되어 기쁩니다.
- ② 귀사의 회답이 5월 3일까지 당사에 도착하는 것을 조건으로 그 제품을 제공하게 되어 기쁩니다.
- ③ 귀사의 회답이 5월 3일까지 당사에 도착하는 것을 조건으로 그 제품을 귀사에 확정청약하게 되어 기쁩니다.
- ④ 5월 3일까지 당사에게 도착하게 될 회답에 따라서 귀사에게 그 제품을 제공하게 되어 기쁩니다.

정답: 3

13. Please do not ignore the fact that our new line of products is far superior to existing lines.

- ① 이번 신제품은 종전의 제품에 비해 월등히 우수하다는 사실을 잊지 말아 주십시오.
- ② 이번 신제품이 종전의 제품에 비해 훨씬 못하다는 사실을 잊지 말아 주십시오.
- ③ 이번 신제품의 생산라인이 종전의 제품의 생산라인보다 긴 공정을 거쳐 생산한다는 사실을 잊지 말아 주십시오.
- ④ 이번 신제품의 생산라인이 종전 제품의 생산라인보다 훨씬 우수한 생산라인을 거쳐 생산한다는 사실을 잊지 말아 주십시오.

정답: 1

14. Therefore, we reluctantly have to announce a 10% increase in all C.I.F. rates as of April 1.

- ① 따라서 본의 아니게 4월 1일자의 CIF 가격에 한하여 10% 인상하게 되었음을 알려드립니다.
- ② 따라서 4월 1일자와 같이 CIF 가격을 10% 인상하게 되었음을 알려드리게 되어 유감입니다.
- ③ 따라서 본의 아니게 4월 1일을 기준해서 CIF 가격을 일률적으로 10% 인상하게 되었음을 알려드립니다.
- ④ 따라서 본의 아니게 4월 1일까지 CIF 가격을 일률적으로 10% 인상하게 되었음을 알려드립니다.

정답: 3

- ① 일람후 60일 출급으로 당사에 제시되는 환율에 의한 결제조건을 제안합니다.
- ② 일람후 60일 출급으로 당사 앞으로 발행되는 환어음에 의한 결제조건을 제안합니다.
- ③ 일부후 60일 출급으로 당사에 제시되는 환율에 의한 결제조건을 제안합니다.
- ④ 일부후 60일 출급으로 당사 앞으로 발행되는 환어음에 의한 결제조건을 제안합니다.

16. 다음이 의미하는 수로써 적절한 것은?

① 16,237.00 ② -542,120
③ 851,300 ④ 145,120

[17-21] 다음 문장을 읽고 물음에 적절한 답을 고르시오.

(1) Business :

(2) (a) :

(3) Offer & Acceptance :

(4) Shipment :

Shipment is to be made within the time stipulated in each contract, except in ①circumstances beyond the Seller's control. ②The date of bill of lading shall be taken as conclusive proof the date of shipment.

① It is a part of business proposal.

③ It is a part of letter requesting the Sellers to dispatch goods.

정답 : 2

① 수출업자가 운임과 보험료를 포함한 상품의 가격을 수입업자에게 청구하는 가격 조건이다.

③ 보험료는 수출업자가 부담하지만 보험사고 발생시 보험금은 수입업자가 받는다.

정답 : 4

① force majeure

③ blockades

정답 : 4

① 환어음의 일자는 선적일자의 최종적인 증거로 간주한다.

③ 환어음의 일자는 선적일자의 최종적인 증거로 간주한다.

정답 : 2

① ①-a-Prices ② ②-b-Bill of Lading

③ ①-Insurance ②-Bill of Lading

정답 : 2

22. 다음 문장에서 tale quale 의 품질조건에 적합하지 못한 내용은?

- ① Expression used particularly in the grain trade, agreement to which means that the buyer will accept the cargo in the condition in which it arrives without question as to quality or soundness.
- ② The terms are subject to a satisfactory certificate of quality at the port of shipment.
- ③ Usually these terms are acceptable only where grain is carried in dry cargo vessels and not in tankers.
- ④ It is a kind of landed quality terms.

정답: 4

23. 다음의 신용장 당사자 용어 가운데 우리말로 잘못 옮겨 진 것은?

- ① applicant: 개설의뢰인 ② seller: 매도인
- ③ beneficiary: 수익자 ④ consignee: 송하인

정답: 4

24. We allow a trade discount of 35% and a further special discount of 5%, making 40% in all, on orders received on or before 31st May.

- ① 5월 31일 전에 도착한 주문에 대해서는 35%의 거래할인을 해드리고 5월 31일 당일에 도착하는 주문에 대해서는 5%의 특별할인 모두 40%의 할인을 해드립니다.
- ② 5월 31일 이전에 도착한 주문에 대해서는 35%의 거래할인, 5%의 특별할인 모두 40%의 할인을 해드립니다.
- ③ 5월 31일을 전후해서 도착한 주문에 대해서는 35%의 거래할인, 5%의 특별할인 모두 40%의 할인을 해드립니다.
- ④ 5월 31일 당일에 도착한 주문에 대해서는 35%의 거래할인을 해드리고 5월 31일 전에 도착하는 주문에 대해서는 5%의 특별할인 모두 40%의 할인을 해드립니다.

정답: 2

25. 무역서신의 구성요소 가운데 파일의 보관이나 후일의 업무처리를 도모하기 위하여 번호를 붙이는 것으로 지역별 품목별로 정리해 놓으면 나중에 신속하게 업무를 처리할 수 있도록 해 주는 요소에 해당하는 것은?

- ① Complimentary close ② Identification marks
- ③ Carbon copy notation ④ Reference Number

정답: 4

26. 다음은 무역클레임의 해결방안 가운데 중재에 관한 설명이다. ()에 적절한 영어단어는?

An agreement for taking and abiding by the judgement of selected persons in some disputed matter, instead of carrying it to established tribunals of justice. And the () shall be binding upon both parties concerned. The process by which parties to a dispute submit their differences to the judgement of an impartial third person or group selected by mutual consent.

- ① judgement ② award ③ mediation ④ litigation

정답: 2

[문제 27-6] 우리말을 영문으로 옮길 때 가장 적절한 것을 고르시오

27. 그 서한은 수표가 동봉되었다.

- ① The letter was accompanied with draft.
② The letter was accompanied with check.
③ The letter was accompanied in draft.
④ The letter was accompanied in check.

정답: 2

28. 이 선적 분은 당사 주문의 마지막 부분 보충분입니다.

- ① This shipment is a compliment to our last series of orders.
② This shipment is a compliment for our last series of orders.
③ This shipment is a complement to our last series of orders.
④ This shipment is a complement for our last series of orders.

정답: 3

29. 그 적송품을 위하여 전과 동일한 부보금액과 조건으로 상기 보험증권을 갱신하고 싶습니다.

- ① We wish to renew the above insurance policy for the same amount and on the same terms as before to cover the consignment.
② We wish to renew the above insurance note for the same amount and on the same terms as before for the consignment.
③ We wish to remain the above insurance note for the same premium and on the same terms as before to cover the shipment.
④ We wish to remain the above insurance policy for the same premium and on the same terms as before for the shipment.

정답: 1

30. 외국환과 관련된 문제에 대처하기 위한 귀사의 지불연기 요청에 따를 수 없음을 유감으로 생각합니다.

- ① We regret not to be able to follow your request to extend payment to treat your foreign exchange related problems.
- ② We regret not to be able to accommodate your request to extend payment to cope with your foreign exchange problems.
- ③ We regret not being able to accommodate your request to extend payment to cope with your foreign exchange related problems.
- ④ We regret not being able to follow your request to extend payment to treat your foreign exchange problems.

정답: 3

31. 귀사의 어려운 사정을 감안하여 당사에서는 9월 1일부터 전 모델의 FOB 가격을 8% 인하하도록 합의했습니다.

- ① Concerning your difficult situation we agree with reducing the F.O.B. prices of all models by 8% effective September 1.
- ② In recognition of your difficult situation we agree with reducing the F.O.B. prices of all models with 8% effective September 1.
- ③ Concerning your difficult situation we agree to reduce the F.O.B. prices of all models with 8% from September 1.
- ④ In recognition of your difficult situation we agree to reduce the F.O.B. prices of all models by 8% effective September 1.

정답: 4

32. 동사의 신용상태에 관한 귀사의 의견을 극비로 통지해 주시면 감사하겠습니다.

- ① Please inform us in confidence your opinion about their financial standing.
- ② Please inform us in confidence your opinion about their credit status.
- ③ Please inform us secretly your opinion about their financial standing.
- ④ Please inform us secretly your opinion about their credit status.

정답: 1

33. 다음 중 선화증권(Bill of Lading)과 상관없는 내용은?

- ① This is a document of title to the goods shipped on board.
- ② This is widely used in international trade, partly since they are convenient vehicles to collect debts from traders abroad.
- ③ This is a document of title, without which delivery of the goods cannot normally be obtained.

- ④ This is the main document used in shipping and may be clean which explains whether the goods were taken on board in perfect condition.

정답: 2

34. 다음 무역용어 중 그 내용이 틀리게 설명된 것은?

- ① jettison: casting property overboard to lighten the vessel in time of peril.
② delay in delivery: a ship departs from its intended course with the intention of returning to that course and completing the planned voyage.
③ delivery order: a document from the owner, or holder of the goods requesting the release of goods held under warrant.
④ forgery: the false making or altering of a writing with the intent to defraud.

정답: 2

35. 다음 중 선화증권(Bill of Lading)과 상관없는 내용은?

- ① This is a document of title to the goods shipped on board.
② This is the main document used in shipping and may be clean which explains whether the goods were taken on board in perfect condition.
③ This is a document of title, without which delivery of the goods cannot normally be obtained.
④ This is widely used in international trade, partly since they are convenient vehicles to collect debts from traders abroad.

정답: 4

36. 다음에 들어갈 단어들에 대해 올바르게 나열한 것은?

In writing your() it must be arranged in the order of attention-()-desire-action, so called AIDA.

- ① credit inquiry-information ② circular letter-interest
③ sales letter-information ④ credit inquiry-interest

정답 : 2

37. 다음 문장들의 순서를 올바르게 나열한 것은?

- (a) The name of the firm is Joon & Co. operated by Joon Kim.
(b) I was first introduced to Mr. Kim by the editor of the "Semiconductor Newsletter" for whom I am writing articles on the Korean market.
(c) I am writing today to tell you briefly about a Korean firm which produces a product that may be of interest to you.

(d) Detailed information can be found in the enclosed press package.

- ① (c)-(a)-(d)-(b) ② (c)-(b)-(d)-(a)
③ (b)-(d)-(a)-(c) ④ (b)-(c)-(d)-(a)

정답 : 1

38. 다음 우리말 설명을 영어로 옮길 때 가장 적절한 내용은?

• 포장 : ㉠내항성 목상자에 10개의 박스가 포함
• 보험 : ㉡분손담보조건과 전쟁위험담보조건으로 부보
• 지급 : 동意的한 바와 같이 ㉢취소불능신용장에 의거 일람출급환어음에 의함.
• Packing : A (㉣) wooden case containers 10 boxes
• Insurance : To insure on (㉤) and war risk
• Payment : (㉥) as agreed

- ① durable-FPA-a sight draft under an revocable L/C
② durable-WA-a demand draft under an irrevocable L/C
③ seaworthy-FPA-a sight draft under an revocable L/C
④ seaworthy-WA-a sight draft under an irrevocable L/C

정답 : 4

39. 다음 중 신용장거래방식에서 수익자(beneficiary)와 상관없는 내용은?

- ① This means a person who under the terms of a letter of credit is entitled to have its complying presentation honored.
② The term includes a person to whom drawing rights have been transferred under a transferable letter of credit.
③ The term includes a person who requests an issuer to issue a letter of credit on behalf of another if the person making the request undertakes an obligation to reimburse the issuer.
④ This means a person or firm in whose favor the credit is opened(established).

정답: 3

40. 다음 중 추정전손(constructive total loss)을 설명하고 있는 것은?

- ① The loss arises when the vessel or cargo is in such a situation that the cost of salvaging and repairing her would exceed her value when repaired.
② The loss means a loss which is not a total loss, and towards which there is no liability upon the other interests involved in the adventure to contribute.

- ③ Where the subject-matter insured is destroyed, or so damaged as to cease to be a thing of the kind insured, or where the assured is irretrievably deprived thereof, there is a total loss.
- ④ The loss is a partial loss of the subject-matter insured, caused by a peril insured against, and which is not a general average loss.

정답: 1

41. You will be dealing with an old-established company that owes its success to the satisfaction given to scores of thousands of its customers.

- ① 귀사는 수많은 고객들에게 만족감을 안겨 주기 위하여 현재 대단한 성과를 내고 있는 전통있는 회사와 거래를 해야 할 것입니다.
- ② 귀사는 현재 성공을 한 전통있는 회사와 거래하게 된다면 수많은 고객들로부터 만족스러운 찬사를 듣게 될 것입니다.
- ③ 귀사는 전통있는 회사와 거래를 해야 할 것입니다. 이것이야말로 성공을 보장받을 수 있고 수많은 고객들에게 만족감을 안겨 줄 수 있을 것입니다.
- ④ 수많은 고객들에게 만족감을 안겨 주었기 때문에 오늘날 성공을 하게 된 전통있는 회사와 귀사는 거래를 하게 될 것입니다.

정답: 4

42. 다음 우리말을 영문으로 옮길 때 무역영어로써 부적절한 표현은?

[당사는 귀사의 새로운 노트북에 관심이 있으며 카탈로그와 가격목록을 가질 수 있다면 좋겠습니다.]

- ① We are interested in your new notebook and shall be pleased to have a catalogue and price list.
- ② We are interested in your new notebook and shall be willing to have a catalogue and price list.
- ③ We are interested in your new notebook and shall be prepared to have a catalogue and price list.
- ④ We are interested in your new notebook and would like to have a catalogue and price list.

정답: 4

43. 다음 우리말을 영문으로 옮길 때 무역영어로써 부적절한 표현은?

[서울상공회의소를 통해 귀사를 알게 되었습니다.]

- ① We are indebted to Seoul Chamber of Commerce for your name.
- ② We owe your name to Seoul Chamber of Commerce.
- ③ We know your name by Seoul Chamber of Commerce.

④ We have learned your name from Seoul Chamber of Commerce.

정답: 3

44. 다음 우리말을 영문으로 옮길 때 무역영어로써 부적절한 표현은?

[당사의 컴퓨터 제품의 판매가 한국에서 소량에 지나지 않아 시장을 확장하고자 합니다. 그래서 귀사가 당사의 대표적인 선정품에 대해서 위탁매매거래를 허용하는 것을 제의하고자 이 서신을 보냅니다.]

① We are anxious to extend the market for our computers

② which at present enjoy only a limited sale in Korea.

③ We are therefore writing to suggest that you allow us to send

④ a representative selection of our manufactures 'on consignment'.

정답: 1

[45-46] 다음 문장의 밑줄 친 내용과 바꾸어 쓸 수 없는 것은?

45. Owing to the large increase in the volume of our trade with Korea we have decided to open a branch in Seoul with Mr. Kim in charge.

① because of

② in account to

③ on account of

④ due to

정답: 2

46. Thank you for your prompt remittance of the balance to our account.

① We appreciate

② Many thanks for

③ We obliged to you for

④ We have received with

정답: 4

47. 다음 중 체선료(demurrage)와 상관없는 내용은?

① Amount of money paid to the shipowner by the charterer, shipper or receiver, as the case may be, for failing to complete loading and/or discharging within the time allowed in the voyage charter party.

② The money paid to the shipowner if the charterer delays the sailing of the vessel.

③ Money paid to the shipowner in compensation for delay of a vessel beyond the period allowed in a charter party when loading or discharging.

④ The money paid to the charterer if the charterer saves time of loading.

정답: 4

[48-50] 다음 중 그 의미나 관계가 부적절하게 연결된 것을 고르시오.

48.

- ① 보험자: insurer
- ② 피보험이익: insurable interest
- ③ 보험금액: insurable value
- ④ 전손: total loss

정답: 3

49.

- ① 선적 및 양하비용을 하주가 부담: FIO
- ② 선적비용을 하주가 부담: FI
- ③ 양하비용을 하주가 부담: FO
- ④ 선적 및 양하비용을 선주가 부담: Local Rate

정답: 4

50.

- ① 중량톤(weight ton): dead weight tonnage
- ② 중량톤(weight ton): displacement tonnage
- ③ 중량톤(weight ton): light displacement tonnage
- ④ 중량톤(weight ton): gross tonnage

정답: 4

51. We believe the company to be trustworthy and reliable, though we are bound to say that they have not always settled their accounts with us on time.

- ① 당사는 동사가 신용있고 믿을 만하다고 생각되지만 언제나 동사는 당사에 제때에 결제해 주지 않았음을 말씀드릴 수밖에 없습니다.
- ② 당사는 동사가 신용있고 믿을 만하다고 생각되지만 언제나 동사는 당사에 제때에 계좌를 설정해 주지 않았음을 말씀드릴 수밖에 없습니다.
- ③ 언제나 동사는 당사에 제때에 계좌를 설정해 주지 않았음을 염두에 두지 마시고 동사를 신용있고 믿을 만하다고 판단하셔도 됩니다.
- ④ 언제나 동사는 당사에 제때에 결제해 주지 않았음을 염두에 두지 마시고 동사를 신용있고 믿을 만하다고 판단하셔도 됩니다.

정답: 1

52. 11. We have been asked by Korea Co. to supply goods to the value of £1,000 against their first order on open account terms.

- ① 코리아사가 당사에 상호계산조건하에 첫 주문으로 천 파운드만큼의 상품을

제공해 줄 것을 요청해 왔습니다.

- ② 코리아사가 당사에 물물교환조건하에 첫 주문에 대한 결제로써 천 파운드만큼의 상품을 제공해 줄 것을 요청해 왔습니다.
- ③ 코리아사가 당사에 무상공급조건하에 첫 주문으로 천 파운드만큼의 상품을 제공해 줄 것을 요청해 왔습니다.
- ④ 코리아사가 당사에게서 제공 받은 천 파운드어치의 첫 주문에 대한 결제를 무상으로 처리해 줄 것을 요청해 왔습니다.

정답: 1

53. For quantities of not less than two gross of each type our prices CIF Manchester are from \$200 per dozen for the A type to \$150 per dozen for the B type.

- ① 매 타입별로 288개 이상의 수량에 대한 CIF 맨체스터 가격은 A 타입은 12개당 200달러이고 B 타입은 12개당 150달러입니다.
- ② 매 타입별로 대 포장(12개당) 2개 이상의 수량에 대한 CIF 맨체스터 가격은 A 타입은 12개당 200달러이고 B 타입은 12개당 150달러입니다.
- ③ 총 288개 이상의 수량에 대한 CIF 맨체스터 가격으로 12개당 200달러이고 288개 미만의 수량에 대해서는 12개당 150달러입니다.
- ④ 대 포장(12개당) 2개 이상의 수량에 대한 CIF 맨체스터 가격으로 12개당 200달러이고 대용량 1개의 수량에 대해서는 12개당 150달러입니다.

정답: 1

54. According to our records, the total volume of their exports for the past year stands at moderate ten figure proportions in Won currency.

- ① 당사 기록에 의하면 동사의 작년 총 수출량은 30~40억원대에 이릅니다.
- ② 당사 기록에 의하면 동사의 작년 총 수출량은 50억원대에 이릅니다.
- ③ 당사 기록에 의하면 동사의 작년 총 수출량은 300~400억대에 이릅니다.
- ④ 당사 기록에 의하면 동사의 작년 총 수출량은 500억대에 이릅니다.

정답: 1

55. Although the above firms are of good reputé, we do not assume any responsibility for their credit. They will supply you with references upon your request.

- ① 상기의 회사들은 호평을 받고 있지만 당사는 그들의 신용에 대해서는 알아내지 못했습니다. 그들이 직접 이에 대해 설명할 것입니다.
- ② 상기의 회사들은 호평을 받고 있지만 당사는 그들의 신용에 대해서는 아는 바가 없습니다. 필요하시다면 그들에게 직접 조회를 요청하십시오.

- ③ 상기의 회사들은 호평을 받고 있지만 당사는 그들의 신용에 대한 책임은 지지 않겠습니다. 필요하시다면 그들이 신용조회처를 제공해 줄 것입니다.
- ④ 상기의 회사들은 당사의 책임에서 벗어나 그들의 신용을 높여오고 있습니다. 필요하시다면 그들에게 신용을 부탁하면 제공해 줄 것입니다.

정답: 3

56. We should treat as strictly confidential any advice you give us and be only too pleased to perform a similar service for you should the opportunity ever arise.

- ① 당사가 귀사에게 주는 정보에 대해서는 절대 비밀로 해주시고 다음부터는 절대 신용조회를 해드릴 수 없음을 알려드립니다.
- ② 당사는 귀사가 제공해 주는 정보에 대해서는 절대 비밀로 해야 하기 때문에 기회가 오더라도 귀사를 위한 유사한 서비스는 기쁘게 처리할 수 없습니다.
- ③ 당사는 기회가 오더라도 귀사가 제공해 주는 정보에 대해서는 절대 비밀로 할 것이며 귀사를 위한 유사한 서비스는 기쁘게 처리해 드리겠습니다.
- ④ 당사는 귀사가 제공해 주는 정보에 대해서는 절대 비밀로 할 것이며 다음 기회에 귀사가 신용조회를 요청하시면 당사는 더할 나위 없이 기쁘게 처리해 드릴 것입니다.

정답: 4

57. Please understand that the increase at this time can not help but depress sales considerably. It will also hurt our image with our customers, who may just choose to switch suppliers.

- ① 이 시기의 가격인상은 상당히 숙고해야 합니다. 뿐만 아니라, 당사가 공급처를 바꿈으로서 고객들이 당사의 이미지를 나쁘게 볼 것입니다.
- ② 이 시기의 가격인상은 매출고에 상당한 악영향을 미친다는 것을 이해해 주시기 바랍니다. 뿐만 아니라, 당사의 이미지가 손상되어 당사에게 공급을 하지 않을 것입니다.
- ③ 이 시기의 가격인상은 상당히 숙고해야 합니다. 뿐만 아니라, 당사의 이미지가 손상되어 당사에게 공급을 하지 않을 것입니다.
- ④ 이 시기의 가격인상은 매출고에 상당한 악영향을 미친다는 것을 이해해 주시기 바랍니다. 뿐만 아니라, 당사의 이미지가 손상되어 고객들이 공급처를 바꾸어 버릴지도 모릅니다.

정답: 4

58. The purpose of this report is to make it easier for your service department to keep us informed of product problems and customer complaints. This will facilitate correction of these problems on our side.

- ① 이 보고서의 목적은 귀사의 서비스 부서에서 제품에 관한 문제와 고객의 불평을 당사에 알리는데 있어서의 수고를 덜고자 하기 위함입니다. 그러나 당사는 이 문제들을 시정할 수 없습니다.
- ② 이 보고서의 목적은 귀사의 서비스 부서에서 제품에 관한 문제와 고객의 불평을 당사에 알리는데 있어서의 수고를 덜고자 하기 위함입니다. 당사는 이 문제들을 시정하는 것이 용이해질 겁니다.
- ③ 이 보고서의 목적은 귀사의 서비스 부서를 위하여 제품에 관한 문제와 고객의 불평을 알리고자 하고 이를 빨리 해결해야 합니다. 그러나 당사는 이 문제들을 시정할 수 없습니다.
- ④ 이 보고서의 목적은 귀사의 서비스 부서를 위하여 제품에 관한 문제와 고객의 불평을 알리고자 하고 이를 빨리 해결해야 합니다. 그러나 당사는 이 문제들을 수용할 수 없습니다.

정답: 2

59. The amount concerned was forwarded to your account in the Chase Manhattan Bank by telegraphic transfer today.

- ① 의심스러운 금액이 오늘 체이스맨하탄 은행의 귀구좌에 전신환으로 불입되었습니다.
- ② 그 금액을 오늘 체이스맨하탄 은행의 귀구좌에 전신환으로 불입하였습니다.
- ③ 의심스러운 금액이 오늘 체이스맨하탄 은행의 귀구좌에 전신환으로 잘못 전달되었습니다.
- ④ 그 금액을 오늘 체이스맨하탄 은행의 귀구좌에 전신환으로 전달을 시도했는데 실패했습니다.

정답 : 2

60. 다음은 선화증권에 관련되는 용어들이다. 잘못 해석된 것은?

- ① endorsement: 배서 ② shipper: 선사
- ③ seaworthiness: 감항능력 ④ foul B/L: 사고부 선화증권

정답: 2

미시경제학 - 여택동 교수

1. 미시경제학의 범주에 포함되지 않는 것은?

- ① FTA 발효이후 오렌지 수입개방에 따른 참외가격의 하락
- ② 대졸인력 추가 고용을 위한 기업의 의사결정
- ③ 청년인력의 실업률 증가
- ④ 교복가격의 담합행위

2. 다음 중 기회비용의 개념을 설명하고 있지 않은 것은?

- ① 공공재의 생산증대는 사재화의 생산을 위한 자원 감소를 의미한다.
- ② 소비재 생산에 투입된 요소는 자본재 생산에는 이용할 수 없음을 뜻한다.
- ③ 한 필지의 논에 보리를 경작하면 밀을 경작할 수 없다.
- ④ 대학 재학의 기회비용은 등록금과 교재비를 합한 금액이다.

3. 다음 중 기회비용의 개념을 설명하고 있지 않은 것은?

- ① 택지공급을 늘리면 농지나 그린벨트의 면적이 줄어든다.
- ② 성장경제하에서는 자본재와 소비재를 동시에 더 많이 생산할 수 있다.
- ③ 주말에 등산을 가면 낚시하러 못 간다.
- ④ 골프장을 많이 만들면 택지나 농지의 면적이 줄어든다.

4. 다음 중 기회비용의 개념을 설명하고 있지 않은 것은?

- ① 농구에 더 많은 시간을 소모하면 공부할 시간이 더욱 적어진다
- ② 대학교육비용에는 대학재학동안 얻을 수 있었던 소득도 포함되어야 한다.
- ③ 현대자동차가 아산만공장에 50조원의 신규투자를 하였다.
- ④ 자원이 잠수함개발 사업에 전용된다면 후생복지서비스 제공은 감소되어야 한다.

5. 김자선씨는 작년에 구입한 3천만 상당의 미니밴을 장애인복지시설에 기증하였다. 현재 이 미니밴의 시가가 2천만이 되었다면 자선씨가 행한 기부행위의 기회비용은?

- | | |
|-------------|--------|
| ① 3천만원 | ② 2천만원 |
| ③ 3천만원-감가상각 | ④ 0원 |

※ (문제 6-7) 아래는 수요과 공급을 변화시키는 요인들이다.

A. 오렌지의 수입개방	B. One Food Diet 열풍
C. 돼지고기 가격의 하락	D. 소비자의 소득 증가
E. 조류독감의 확산	F. 농지 가격의 상승

6. 닭고기 수요를 감소시키는 요인은?

- ① F ② C와 D ③ C와 E ④ E와 F

7. 포도의 수요를 증가시키는 요인은?

- ① B ② A와 D ③ B와 D ④ D와 F

8. 냉장고에 대한 수요곡선과 공급곡선이 둘 다 우측으로 이동할 때의 결과로 옳은 것은?

- ① 가격은 하락하고 거래량은 증가 또는 감소
 ② 거래량은 증가하고 가격은 상승
 ③ 거래량은 증가하고 가격은 증가, 불변 또는 감소
 ④ 거래량은 감소하고 가격은 증가, 불변 또는 감소

9. 수요와 공급에 대한 다음 설명 중 가장 옳지 않은 것은?

- ① 어떤 상품의 대한 수요가 증가하고 공급이 감소하면 균형가격은 증가한다.
 ② 공급의 변화는 공급곡선 자체의 이동을 의미한다.
 ③ 커피값이 오르면 대체재인 녹차의 수요는 증가한다.
 ④ 소득이 증가하면 상품의 수요곡선은 항상 오른쪽으로 이동한다.

10. 다음 중 국산영화에 대한 수요곡선을 이동시키는 요인이 아닌 것은?

- ① 국산영화에 대한 국민들의 열정적 사랑 ② 멀티플렉스 영화관의 건립 증가
 ③ 전반적인 소득 증대 ④ 여가시간의 증가

11. 어떤 나라에서 외국 근로자들의 입국 및 취업을 자유화시키는 법을 통과시켰다. 이에 따른 노동시장의 변화는?

- ① 노동자의 공급이 증가하고 임금은 상승한다.
 ② 노동자의 공급이 증가하고 임금은 하락한다.
 ③ 노동자의 수요가 증가하고 임금은 하락한다.
 ④ 노동자의 공급이 증가하나 임금은 불변이다.

12. 다음 물품세에 관한 서술 중 옳지 않은 것은?

- ① 물품세가 부과되면 사회적 잉여는 줄어든다.

- ③ 임대주택의 가격이 안정되고 주택난이 완화된다.
- ④ 이상의 모든 답

19. 정부가 아파트의 전세금을 제한했을 때 나타나는 현상은?

- ① 장기적으로 임대아파트의 초과수요가 심해진다.
- ② 아파트시장으로 자원을 더 많이 유인할 수 있다.
- ③ 임대아파트의 공급 부족이 단기적으로 완화된다.
- ④ 아파트부족을 해결할 수 있다.

20. 다음 중 최고가격(가격상한)제 실시의 결과에 해당되지 않은 것은?

- ① 암시장이 형성된다.
- ② 품질의 저하로 실제적인 가격의 인상이 나타난다.
- ③ 해당 재화의 구매를 위해 소비자들이 긴 줄을 형성해 기다리게 된다.
- ④ 장기적으로 공급의 증대를 유도할 수 있다.

21. 어떤 산업에만 최저임금법이 시행되었다고 할 때 일어날 수 있는 일을 설명한 것 중에서 가장 옳은 것은?

- ① 그 산업에서의 실업자가 감소한다.
- ② 그 산업에서의 노동에 대한 수요가 증가한다.
- ③ 기술수준이 낮은 노동자가 취업하기가 어려워진다.
- ④ 고급인력에 대한 선호가 낮아진다.

22. 통계청 조사에 따르면 초고속인터넷서비스에 대한 수요의 가격탄력성(절대값)은 0.5이고, 소득탄력성은 2.0이라 한다. 초고속인터넷서비스의 요금이 4% 상승하고 수요자의 소득이 1% 증가하는 경우 초고속인터넷서비스의 수요는 얼마나 변화하는가?

- ① 2% 감소한다.
- ② 1% 감소한다.
- ③ 변하지 않는다.
- ④ 1% 증가한다.

23. 다음 중 무차별곡선이 우하향하는 이유로 가장 적당한 것은?

- ① 소비자가 다양성을 추구하기 때문이다.
- ② 두 재화 소비가 동시에 증가해야 효용이 증가하기 때문이다.
- ③ 두 재화가 대체관계에 있기 때문이다.
- ④ 한 재화 소비량이 증가할 때, 다른 재화의 소비량이 감소해야만 동일한 효용이 유지될 수 있기 때문이다.

24. 다음 중 X재와 Y재의 균형소비량을 구하는 데 필요한 정보가 아닌 것은?

- ① X재와 Y재의 가격 ② X재와 Y재의 산출량
③ 소비자의 소득 ④ 소비자의 X재와 Y재에 대한 선호도

25. 소비자균형에 관한 다음 설명 중 옳지 않은 것은?

- ① 소비자균형에서 각 재화의 한계효용이 일치하여야 한다.
- ② 소비자균형에서 재화간의 한계대체율은 가격비율과 일치하여야 한다.
- ③ 소비자균형이란 소비자가 예산제약하에서 효용을 극대화한 상태이다.
- ④ 상대가격이 변하면, 재화 소비를 잘 조정하여야 소비자균형이 달성된다.

26. X재(Pizza)의 가격이 6,000원이고 Y재(맥주)의 가격이 4,000원이다. 용만이는 X재 1단위와 Y재 2단위에서 동일한 효용을 느낀다고 한다. 용만이 소비는 어떻게 변하는 것이 바람직할까?

- ① X재 소비를 줄이고 Y재 소비를 늘린다.
- ② X재 소비를 늘리고 Y재 소비를 줄인다.
- ③ 두 재화 소비를 모두 늘린다.
- ④ 두 재화 소비를 모두 줄인다.

27. 쌀과 빵만을 소비하는 소비자가 있다고 하자. 이 소비자는 쌀 2컵과 빵 1개를 완전대체재라고 생각하고 있다. 쌀 1컵의 가격이 200원이고 빵 1개의 가격이 300원일 경우 이 소비자의 균형상태는 다음 중 어느 것인가?

- ① 쌀과 빵의 구입에 소득의 반을 각각 사용한다.
- ② 소득의 전부를 쌀의 구입에만 사용한다.
- ③ 소득의 전부를 빵의 구입에만 사용한다.
- ④ 쌀과 빵의 구입에 소득의 60%, 40%를 각각 사용한다.

28. 일반적으로 어떤 재화의 가격이 하락할 때 그 재화의 수요가 증가하는 것은 어떠한 이유 때문인가?

- ① 한계효용체감의 법칙 ② 대체효과
③ 소득효과와 대체효과 ④ 저렴한 것을 선호하는 생활습관

29. $\frac{MU_x}{P_x} < \frac{MU_y}{P_y}$ 일 때, 소비자는 어떻게 해야 효용을 극대화 할 수 있는가?

- ① X재를 덜 사고 Y재를 더 사야 한다.
- ② Y재를 덜 사고 X재를 더 사야 한다.
- ③ P_x 가 하락할 때를 기다려 Y재를 더 사야 한다.
- ④ P_y 가 하락할 때를 기다려 X재를 더 사야 한다.

30. 소비자의 균형점을 잘못 설명한 것은?

- ① 한계대체율과 상대가격이 같은 점
- ② 한계효용의 비율과 가격의 비율이 일치하는 점
- ③ 재화 1원어치의 한계효용이 모두 같은 점
- ④ 무차별곡선과 예산선의 교차점

31. 소비자의 효용이 최대가 되면 자원배분의 효율성이 최대가 된다. 다음 중 소비자의 효용이 최대가 되는 경우는?

- ① 예산범위 내에서 어느 한 재화를 최대한 소비하는 경우
- ② 화폐 1단위당 한계효용이 같아지도록 각 재화를 소비할 때
- ③ 가격이 가장 낮은 재화만 소비할 때
- ④ 각 재화를 동일한 수량만큼 골고루 소비할 때

32. 쇠고기의 가격 $P_x=6$ 이고 돼지고기의 가격 $P_y=3$ 이다. 어떤 소비자의 쇠고기와 돼지고기에 대한 주관적인 한계대체율(돼지고기량으로 표시한 쇠고기 1단위의 주관적 가치)은 $MRS_{xy}=2.5$ 이다. 이 소비자의 소비행태는 어떻게 될 것인가?

- ① 쇠고기의 소비를 증가시키고 돼지고기의 소비를 줄인다.
- ② 쇠고기의 소비를 줄이고 돼지고기의 소비를 증가시킨다.
- ③ 쇠고기와 돼지고기의 소비를 모두 증가시킨다.
- ④ 쇠고기와 돼지고기의 소비를 모두 감소시킨다.

33. 최천재씨는 총소득 10,000원으로 pizza와 맥주를 소비하며, 그에 대한 효용이 다음 표와 같다고 하자. 효용극대화를 위해 여씨는 어떻게 소비를 바꾸겠는가?

	가격	구입량	총효용	한계효용
pizza	200	30	2,000	200
맥주	100	40	3,000	150

- ① 총효용이 극대화되므로 현재가 최적소비선택이다.
- ② pizza 소비를 줄이고, 맥주 소비를 늘린다.
- ③ pizza 소비를 늘리고, 맥주 소비를 줄인다.
- ④ 모든 소득을 pizza 구입에만 지출한다.

34. X재의 가격은 3,000원이고 Y재의 가격은 2,000원이다, 만약 현재 소비자균형 상태에 있다면 X재의 한계효용이 30단위라면, Y재의 한계효용은 얼마인가?

- ① 20단위 ② 30단위 ③ 60단위 ④ 0

35. 정부가 영세민의 식비를 보조해주기로 결정하였을 때 현금보조가 아니라 식료품을 할인해주는 가격보조의 방법을 취했다면 이러한 결정의 근거는 무엇인가?

- ① 식료품업자의 로비의 결과이다.
- ② 소비자의 선택의 폭을 넓히기 위한 것이다.
- ③ 가격보조시 영세민들의 효용이 더 커진다.
- ④ 식료품 소비를 증가시키기 위한 목적이다.

36. 경제학에서 생산기간을 단기와 장기로 구별하는 기준은?

- ① 보통 1년 미만이면 단기이고, 그 이상을 장기로 구분한다.
- ② 모든 투입요소가 고정이면 단기이고, 일부 요소만 고정이면 장기이다.
- ③ 최초의 고정비용 외에 새로운 고정비용이 추가될 때부터 장기이다.
- ④ 고정요소가 존재하면 단기이고, 모든 투입요소가 가변적이면 장기이다.

37. 경제학에서 단기와 장기의 기본적인 차이는?

- ① 장기에는 수확체감의 법칙이 성립하지만 단기에는 성립하지 않는다.
- ② 단기보다 장기에 가변비용이 기업의 의사결정에 더 중요하다.
- ③ 단기에는 모든 투입물이 고정적이지만, 장기에는 모두가 가변적이다.
- ④ 장기에는 모든 투입물이 가변적이지만 단기에는 적어도 하나가 고정적이다.

38. 산출량은 불변이면서 노동에 대한 자본의 비율이 증가하면?

- ① 노동의 한계생산물이 증가한다. ② 노동의 한계생산물이 감소한다.
- ③ 자본의 한계생산물이 증가한다. ④ 자본의 한계생산물이 불변이다.

39. 처음 열 사람의 노동자가 생산에 참여할 때 1인당 평균생산량은 20단위였다. 노동자를 한 사람 더 고용하여 생산하는 1인당 평균생산량은 19단위로 줄어 들었다. 이 경우 노동의 한계생산량은 얼마인가?

- ① 19단위 ② 1단위 ③ 9단위 ④ -9단위

40. 수확체감의 법칙 아래서 가변요소의 투입을 한 단위 더 증가시키면?

- ① 총생산물은 반드시 증가한다. ② 평균생산물은 반드시 감소한다.
- ③ 한계생산물은 반드시 감소하고 평균생산물은 반드시 증가한다.
- ④ 한계생산물은 반드시 감소하지만 평균생산물은 증가할 수도 감소할 수도 있다.

41. 등량곡선에 대한 설명으로 옳지 않은 것은?

- ① 등량곡선은 원점에 대하여 볼록하다.
- ② 원점에서 멀리 떨어질수록 더 많은 생산량을 생산한다.
- ③ 등량곡선이 우하향하므로 한계기술대체율이 체감한다.

④ 두 생산요소가 완전 보완적이면 등량곡선은 L자형태이다.

42. 등량곡선이 원점을 향해 볼록한 이유는?

- ① 한계생산 체감의 법칙
- ② 한계기술대체율 체감의 법칙
- ③ 한계효용 체감의 법칙
- ④ 한계대체율 체감의 법칙

43. 한계기술대체율이 체감한다는 것은?

- ① 요소의 대체가 갈수록 어려워짐을 의미한다.
- ② 요소의 대체가 갈수록 쉬워짐을 의미한다.
- ③ 임금이 자본사용료보다 높음을 의미한다.
- ④ 자본사용료가 임금보다 높음을 의미한다.

44. 레온티에프 생산함수에 대한 등량곡선의 형태는?

- ① 수직선이다.
- ② 수평선이다.
- ③ L자형의 모양이다.
- ④ 원점에 대해 오목하다.

45. 생산자균형점에 대한 서술로서 가장 옳지 못한 것은?

- ① 등량곡선과 등비용선이 접한다.
- ② 한계생산의 비율과 요소가격의 비율이 같다.
- ③ 한계기술대체율과 요소가격의 비율이 같다.
- ④ 한계전환율과 한계기술대체율이 같다.

46. $\frac{MP_L}{M_K} > \frac{w}{r}$ 일 때, 생산자는 어떻게 해야 이윤을 극대화 할 수 있는가?

- ① 노동을 덜 고용하고 자본을 더 많이 고용한다.
- ② 노동을 더 많이 고용하고 자본을 덜 고용한다.
- ③ 노동과 자본의 고용을 모두 늘린다.
- ④ 자본 투입은 원래대로 유지하고 노동 투입만 늘린다.

47. 어떤 생산자가 매일 50단위의 제품을 만들기 위해 공장을 가동하고 있다. 평균
가변비용은 10, 한계비용은 20, 그리고 평균총비용은 15라고 한다. 이 공장의
총고정비용은?

- ① 750
- ② 500
- ③ 350
- ④ 250

48. 산출물이 증가함에 따라 평균총비용이 상승하는 현상은?

- ① 규모의 경제
- ② 규모에 대한 수익불변

③ 규모의 비경제

④ 범위의 경제

※ (문제 49-51)완전경쟁시장에서 김밥을 판매하고 있는 김밥천국(株)의 비용이 다음의 표와 같이 나타났다.

생산량	0	1	2	3	4	5	6	7	8	9	10	11	12
총비용	192	300	420	550	690	840	1000	1180	1360	1560	1790	2040	2350

49. 3단위를 생산할 경우 평균고정비용(AFC)은 얼마인가?

- ① 550 ② 192 ③ 183.3 ④ 64

50. 8단위를 생산할 때 평균가변비용(AVC)은 얼마인가?

- ① 1360 ② 180 ③ 170 ④ 146

51. 김밥가격이 $P=200$ 으로 주어진 경우 이윤극대화를 추구하는 이 기업은 얼마만큼 생산하겠는가?

- ① 9 ② 10 ③ 0(조업 중단) ④ 가능한 많이 생산한다.

52. 김창업씨는 월 200만원 받던 직장에서 250만원을 줄 터이니 계속 있어달라는 사장의 부탁을 거절하고 제과점을 하나 차렸다. 한달 수입이 1,500만원이고, 가게세가 한 달 300만원, 밀가루, 설탕 등 원재료비가 한달에 400만원, 종업원 2인에 대한 월급이 1인당 150만원이라 하자. 이 경우 김창업씨의 경제적 이윤은 한 달에 얼마인가?

- ① 0원 ② 250만원 ③ 300만원 ④ 500만원

53. 만화책 1,000단위를 생산하고 있는 완전경쟁기업의 총비용이 100만원이다. 이 중 총고정비용이 40만원이고 만화책의 가격이 700원이라면, 이 기업은 어떻게 행동하여야 하는가?

- ① 단기이윤이 음(-)이므로, 즉각 생산을 중단할 것이다
 ② 단기이윤이 양(+)이므로, 생산을 계속할 것이다.
 ③ 단기이윤이 음(-)이지만, 단기적으로는 생산을 계속할 것이다.
 ④ 단기이윤이 0(zero)이지만, 단기적으로는 생산을 계속할 것이다.

54. 단기에 있어서 기업의 공급곡선에 관하여 서술한 것 중 옳은 것은?

- ① 기업의 한계비용곡선 전부가 공급곡선이다.
 ② 기업의 한계비용곡선 중 평균총비용 위의 위치한 부분만이 공급곡선이다.
 ③ 기업의 한계비용곡선 중 평균고정비용 위의 위치한 부분만이 공급곡선이다.

④ 기업의 한계비용곡선 중 평균가변비용 위의 위치한 부분만이 공급곡선이다.

55. 완전경쟁기업이 독점이 될 경우 균형가격과 산출량은 어떻게 변하는가?

- ① 가격은 상승, 산출량은 증가 ② 가격은 상승, 산출량은 감소
- ③ 가격은 하락, 산출량은 증가 ④ 가격은 하락, 산출량은 감소

56. 독점이 생성되는 이유가 아닌 경우는?

- ① 규모의 경제 ② 원료의 배타적 소유권.
- ③ 특정상품 및 제법의 특허권 ④ 잠재경쟁의 존재

57. 독점에 대한 다음 설명 중 옳지 않은 것은?

- ① 완전 경쟁의 경우보다 생산량이 적다
- ② 독점은 시장경제의 효율성을 저해한다.
- ③ 독점기업은 R&D 기술투자를 거의 하지 않는다.
- ④ 독점기업은 한계수입과 한계비용이 일치하는 수준에서 산출량을 결정한다.

58. 독점시장에 관련한 서술 중 옳지 않은 것은?

- ① 시장진입이 제한된 시장일수록 독점력이 높아지는 경향이 있다.
- ② 기격탄력성이 클수록 독점도는 상대적으로 커진다.
- ③ 완전경쟁시장에서 가격과 한계비용이 같으므로 독점도는 영(0)이다.
- ④ 독점시장에서 가격과 한계비용의 차가 클수록 독점도는 커진다.

59. 다음 중 독점적 경쟁의 특징으로 볼 수 없는 것은?

- ① 다수의 공급자가 이질적인 제품을 공급한다.
- ② 시장에 신규기업의 진입이 허용된다.
- ③ 비가격경쟁이 존재한다.
- ④ 판매자는 시장지배력을 갖고 있지 않다.

60. 다음 중 가격차별이 성립될 수 없는 경우는?

- ① 시장이 분할되어야 한다. ② 판매자가 독점력이 약할 경우
- ③ 수요의 가격탄력도가 시장별로 달라야 한다.
- ④ 한 시장에서 구입한 것을 다른 시장에 판매할 수 없어야 한다.

보험론 - 이근창 교수

1. 다음 중 생명보험 표준약관상 계약의 무효사유에 해당하는 경우가 아닌 것은? 정답 (4)

- ① 타인의 사망을 보험금 지급사유로 하는 계약에서 계약을 체결할 때까지 피보험자의 서면에 의한 동의를 얻지 아니한 경우
- ② 만 15세 미만자, 심신상실자 또는 심신박약자의 사망을 보험금 지급사유로 한 경우
- ③ 계약체결시 계약에서 정한 피보험자의 나이에 미달되었거나 초과되었을 경우
- ④ 계약자, 피보험자 또는 보험수익자가 보험금 청구에 관한 서류에 고의로 사실과 다른 것을 기재하였거나 그 서류 또는 증거를 위조 또는 변조한 경우

2. 다음 중 보험계약자가 보험수익자를 지정하지 아니한 상태에서 보험사고 발생시 보험금의 종류별로 보험수익자를 잘못 짝지은 것은? 정답 (3)

- ① 의료비 - 피보험자
- ② 사망보험금 - 피보험자의 상속인
- ③ 후유장해보험금 - 피보험자의 상속인
- ④ 입원보험금 - 피보험자

3. 다음 중 고의로 인한 보험사고의 면책요건에 해당하지 않는 것은? 정답 (4)

- ① 상당인과관계의 존재 ② 보험계약자의 행위
- ③ 피보험자의 행위 ④ 피보험자 가족의 행위

4. 자동차보험 사고로 인하여 다른 이익을 받을 경우 이를 제하고 보험금을 지급하는 것을 설명하는 것은? 정답 (1)

- ① 손익 상계 ② 동승자 감액
- ③ 기왕증 감액 ④ 과실 상계

5. 다음 중 상해보험에서 보상하는 손해에 해당하지 않는 것은? 정답 (2)

- ① 보행 중 개에 물려 광견병에 걸린 경우
- ② 통상적인 기후에 의한 계속적이고 자연적인 인과관계로서 일사병에 걸린 경우
- ③ 유독가스를 우연하게 일시에 흡수하여 중독된 경우
- ④ 공사장 주변을 지나던 중 돌발적인 폭파작업에 의하여 소음성 난청이 발생한 경우

6. 다음 중 손인(peril)에 해당하는 것은? 정답 (2)

- ① 악천후 ② 지진 ③ 어두운 계단 ④ 흡연

7. 다음 중 손실발생 시 피보험자의 부담이 없을 수 있는 것은? 정답 (1)

- ① 프랜차이즈 공제(franchise deductible)
- ② 건강보험의 공동보험조항
- ③ 정액공제(straight deductible)
- ④ 총액공제(aggregate deductible)

8. 다음 중 홍수다발지역이며 피해규모도 큰 경우에 일반적으로 가장 적합한 위험관리방법은? 정답 (1)

- ① 위험회피 ② 손실예방 ③ 손실감소 ④ 위험전가

9. 다음 중 피보험자의 손실통제를 제고하는 효과가 가장 큰 것은? 정답 (4)

- ① 중복보험 ② 초과보험 ③ 단체보험 ④ 일부보험

10. 보험사기에 대한 설명으로 가장 적절하지 못한 것은? 정답 (2)

- ① 사회전반적인 관용적 태도가 한 가지 원인이다.
- ② 우연한 사고와는 관계가 없다.
- ③ 적발 시 처벌을 강화하면 줄일 수 있다.
- ④ 조사활동을 강화하면 줄일 수 있다.

11. 자동차보험에서 대물배상의 지급 기준으로 옳지 않은 것은? 정답 (2)

- ① 수리비 ② 감가상각비
- ③ 대차료 ④ 휴차료

12. 다음 중 보험자에 의한 보험계약의 해지사유에 해당하지 않는 것은? 정답 (2)

- ① 계속보험료 미납 ② 손해방지의무 위반
- ③ 고지의무 위반 ④ 위험변경·증가 통지의무 위반

13. 다음 중 보험요율산정원칙에 해당하지 않는 것은? 정답 (3)

- ① 충분성 ② 비과도성 ③ 투명성 ④ 공평한 차별성

14. 순보험료의 본질적 특성과 가장 거리가 먼 것은? 정답 (3)

- ① 미래의 예측에 근거한다.
- ② 보험자의 통제가 불가능한 부분이 많다.
- ③ 규모의 경제성이 크다.

④ 일반적으로 집단평균원가개념이 적용된다.

15. 배상책임보험에서 담보하는 손해가 아닌 것은? 정답 (2)

- ① 피보험자가 제3자에 대하여 법률상 손해배상책임을 짐으로써 입은 손해
- ② 피보험자가 사고발생통지를 지연하여 증가된 손해
- ③ 피보험자가 제3자의 소송에 대하여 방어활동을 함으로써 소요된 비용
- ④ 피보험자의 협조의무 이행에 따른 비용

16. 다음 중 기대손실(expected loss)을 감소시키는 위험관리 방법은? 정답 (3)

- ① 보험 ② 위험보유 ③ 손실통제 ④ 위험분산

17. 다음 중 도덕적 위태(moral hazard)의 경감 또는 예방과 가장 관련이 깊은 것은?
정답 (3)

- ① 전부보험
- ② 대체비용보험(replacement cost insurance)
- ③ 일부보험
- ④ 중복보험

18. 다음 중 실손보상의 원칙(이득금지의 원칙)에서 이득의 기준이 되는 것은? 정답 (3)

- ① 보험금액 ② 보험가입금액 ③ 보험가액 ④ 보상한도금액

19. 보험계약자가 보험계약을 해지하는 것은 아래의 위험관리방법 중 어디에 해당하는가?
정답 (1)

- ① 위험보유 ② 손실통제 ③ 위험회피 ④ 위험이전

20. 언더라이팅(underwriting)에 대한 설명으로 가장 거리가 먼 것은? 정답 (1)

- ① 자산운용처럼 외부 전문기관에 위임하는 것이 일반적이다.
- ② 보험을 악용하여 이익을 보려는 보험범죄를 방지할 수 있다.
- ③ 미래손실의 발생가능성이 유사한 리스크 계층을 구성·분류하여 인수 리스크에 적절한 보험료를 책정할 수 있다.
- ④ 보험자가 보험가입을 신청한 리스크를 선택하고 분류하는 일련의 심사과정을 말한다.

21. 간접손해에 대한 설명으로 가장 적절하지 못한 것은? 정답 (3)

- ① 담보위험의 직접적인 원인에 의하여 발생한 손해로 볼 수 없는 손해이다.
- ② 보험의 목적이나 피해물에 발생한 손해의 결과로서 2차적으로 발생한 손해이다.
- ③ 상실수익은 간접손해에 포함되지 않는다.
- ④ 결과적 손해로도 지칭된다.

22. 다음 중 책임준비금에 포함되지 않는 것은? 정답 (1)

- ① 비상위험준비금
- ② 미경과보험료적립금
- ③ 계약자배당준비금
- ④ 장기저축성 보험료적립금

23. 다음 중 보험공제(insurance deductible)의 효과에 해당하지 않는 것은? 정답 (3)

- ① 소액보상청구 방지 ② 보험료 절감
- ③ 보험자 파산 방지 ④ 손실통제동기 강화

24. 다음 중 실손보상의 원칙(the principle of indemnity)의 예외에 해당되는 것과 거리가 먼 것은? 정답 (2)

- ① 대체가액보험 ② 일부보험
- ③ 사망보험 ④ 기평가보험

25. 다음 중 타보험조항(other insurance clause)의 효과로 가장 거리가 먼 것은? 정답 (3)

- ① 도덕적 위태 감소
- ② 실손보상의 원칙 유지
- ③ 피보험이익의 원칙 유지
- ④ 보험자간 손해분담

26. 약관교부 및 설명의무에 대한 설명으로 틀린 것은? 정답 (4)

- ① 회사는 보험계약 청약시 계약자에게 약관의 중요내용을 설명한다.
- ② 회사는 청약 후 지체 없이 약관 및 계약자 보관용 청약서를 제공한다.
- ③ 회사가 약관 및 계약자 보관용 청약서를 광기록매체(CD), 전자우편 등으로 제공할 경우 계약자의 동의가 필요하다.
- ④ 약관교부 및 설명의무 위반시 계약자는 계약 성립 후 5개월 이내에 계약을 취소할 수 있다.

- ① 도덕적 위태의 가능성이 크다.
- ② 보험자 담보능력을 넘어설 수 있다.
- ③ 대수의 법칙 적용이 어렵다.
- ④ 손실에 대한 예측가능성이 낮다.

정답 (1)

- ① 피보험자의 손실통제활동을 유도한다.
- ② 피보험자 책임이 없는 손해로 인한 보험료 인상을 방지 한다.
- ③ 이중보상을 방지한다.
- ④ 과실 책임이 있는 자에게 배상책임을 지운다.

정답 (1)

- ① 수지상등의 원칙
- ② 피보험이익의 원칙
- ③ 실손보상의 원칙
- ④ 대위변제의 원칙

정답 (3)

① 생명보험에서 피보험이익은 손실발생 시에 존재 하여야 한다.

② 손해보험의 경우 피보험이익의 문제는 발생하지 않는다.

③ 피보험이익은 보험사고에 대하여 피보험자가 갖는 경제적 이해관계를 말한다.

④ 피보험이익은 보험의 목적을 의미한다.

① 80만원 ② 50만원 ③ 30만원 ④ 0원

32. 피보험자 “갑”은 자신이 소유하고 있는 건물(가액 : 5억5천만원)을 A, B, C 3개 보험 회사에 각각 보험 가입금액 1억원, 3억원, 2억원의 화재보험계약에 가입하였고, 3건의 보험계약 모두에서 담보하는 화재사고로 인하여 전손이 발생하였다. 동 사고에 대하여 균일부담(contributions by equal shares)방식에 의하면 A, B, C 보험자의 보상금액은 각각 얼마인가? 정답 (2)

	A	B	C
①	1억원	3억원	1.5억원
②	1억원	2.5억원	2억원
③	0.5억원	3억원	2억원
④	1.5억원	2억원	2억원

33. 다음 중 순수위험(pure risk)에 대한 설명으로 옳지 않은 것은? 정답 (1)

- ① 손실의 가능성과 함께 이익의 가능성도 내포된 위험으로 정의된다.
- ② 일반적으로 대수의 법칙을 쉽게 적용할 수 있어 손실의 정도를 미리 예측할 수 있다.
- ③ 순수위험은 없던 위험을 인위적으로 새로이 만들어 냄으로써 존재하게 된 것이 아니라 위험자체가 이미 존재해 있는 위험을 말한다.
- ④ 순수위험은 일반적으로 인적위험, 재산위험, 배상책임위험으로 분류된다.

34. 다음 중 손해보험에 공통적으로 적용되는 보험자의 법정면책사유에 해당하지 않는 것은? 정답 (3)

- ① 보험계약자 등의 고의·중과실로 인하여 발생한 사고로 인한 손해
- ② 전쟁 기타 변란으로 인하여 발생한 사고로 인한 손해
- ③ 천재지변으로 인한 손해
- ④ 보험목적의 성질, 하자 또는 자연소모로 인한 손해

35. 다음 중 재보험의 기능에 대한 설명으로 옳지 않은 것은? 정답 (3)

- ① 보험수익의 안정성 유지 ② 인수능력의 증대
- ③ 보험사고의 경감 ④ 재난적 사고의 보장

36. 다음 중 국민연금 가입자 구분으로 옳지 않은 것은? 정답 (1)

- ① 기초연금 가입자 ② 사업장 가입자
- ③ 지역 가입자 ④ 임의 가입자

37. 다음 중 공적연금에 대한 설명으로 옳지 않은 것은? 정답 (3)

- ① 공적연금은 강제가입이 원칙이지만 임의가입도 있다.
- ② 공적연금 급여를 받기 위해서는 객관적 여건이 충족되어야 한다.
- ③ 공적연금에는 소득재분배 기능이 없다.
- ④ 연금 급여수준을 평가할 때 가장 많이 사용되는 지표는 소득대체율이다.

38. 다음 상품분류 중 분류기준이 다른 하나는? 정답 (4)

- ① 생존보험 ② 사망보험
- ③ 생사혼합보험 ④ 보장성보험

39. 다음에서 설명하는 법칙(또는 원칙)은? 정답 (2)

주사위를 10번 던져 주사위 눈 “1”이 나올 확률은 1/6이 아니지만, 10000번 던진다면 그 확률은 거의 1/6에 근접한다.

- ① 수지상등의 원칙 ② 대수의 법칙
- ③ 충분성의 원칙 ④ 평균값의 정리

40. 보험의 대상이 되는 이상적인 위험에 관한 설명으로 옳지 않은 것은? 정답 (3)

- ① 다수의 동질적 위험이 존재하여야 한다.
- ② 손실의 발생은 우연적이고 고의성이 없어야 한다.
- ③ 손실은 확정적이고 측정이 가능해야 한다.
- ④ 손실은 거대위험이어야만 한다.

41. 다음 표에서 설명하는 생명보험계약의 특성은? 정답 (2)

보험계약은 계약자의 청약이 있고 이를 보험회사가 승낙하면 계약이 성립된다. 즉, 당사자 쌍방의 의사합치가 있으면 성립하고 그 계약의 성립요건으로 특별한 요식행위를 요구하지 않는다.

- ① 유상, 쌍무계약성 ② 불요식 낙성계약성
- ③ 부합계약성 ④ 선의계약성

42. 국민연금의 소득재분배 기능 중 옳지 않은 것은? 정답 (2)

- ① 세대 내 소득재분배 ② 가구 내 소득재분배
- ③ 세대 간 소득재분배 ④ 소득 계층 간 소득재분배

43. 해지된 보험계약을 해지 전의 상태로 회복시켜주는 제도를 무엇이라 하는가? 정답 (4)

- ① 계약심사제도 ② 청약철회제도
③ 약관대출제도 ④ 계약부활제도

44. 대차대조표일 현재 유지되고 있는 계약에 대하여 장래의 보험금 등의 지급을 위해 적립하여야 하는 금액을 무엇이라 하는가? 정답 (3)

- ① 미경과보험료적립금 ② 지급준비금
③ 보험료적립금 ④ 계약자배당준비금

45. 배당보험에 대한 일반적인 설명으로 적당하지 않은 것은? 정답 (3)

- ① 무배당보험에 비하여 높은 예정위험률을 적용한다.
② 무배당보험에 비하여 높은 예정사업비율을 적용한다.
③ 무배당보험에 비하여 높은 보험료산출이율(예정이율)을 적용한다.
④ 무배당보험에 비하여 보험료 수준이 높다.

46. 다음은 보험업감독규정의 책임준비금 계정에 대한 설명이다. 아래의 (가)와 (나)에 들어갈 용어로 가장 적합한 것은? 정답 (1)

(가)은 회계연도말 이전에 납입기일이 도래한 보험료 중 차기이후의 기간에 해당하는 보험료로서 보험료 및 책임준비금 산출방법서에 의하여 계산한 금액으로 한다.
(나)은 매회계연도말 현재 보험금 등의 지급사유가 발생한 계약에 대하여 지급하여야 하거나 지급하여야 할 것으로 추정되는 금액 중 아직 지급하지 아니한 금액을 말한다.

- ① 가 - 미경과보험료적립금, 나 - 지급준비금
② 가 - 보험료적립금, 나 - 지급준비금
③ 가 - 미경과보험료적립금, 나 - 보증준비금
④ 가 - 보험료적립금, 나 - 보증준비금

47. 보험회사가 계약전 알릴의무 위반으로 계약을 해지할 수 없는 경우로 괄호 안에 알맞은 기간을 차례로 나열한 것은? 정답 (1)

- 회사가 그 사실을 알게 된 날로부터 ()개월 지난 경우
○ 보장개시일로부터 보험금지급사유가 발생하지 않고 ()년이 지났을 때(무진단 계약의 경우)
○ 계약을 체결한 날로부터 ()년이 지난 경우

- ① 1-2-3 ② 1-1-2 ③ 1-2-2 ④ 2-1-3

48. 국민연금에서 지급하는 노령연금 중 수령연령이 60세에 미달된 1세 마다 수령액을 6%씩 감액해 지급하는 연금은? 정답 (3)

- ① 완전노령연금 ② 감액노령연금
③ 조기노령연금 ④ 재직자노령연금

49. 보험기간 중 보험계약의 변경에 관한 설명으로 옳바르지 않은 것은? 정답 (1)

- ① 보험계약자는 보험수익자를 변경할 수 있으며 이 경우 회사의 승낙이 필요하다.
② 보험가입금액의 감액은 계약의 일부해지와 동일하므로 해지환급금을 지급한다.
③ 보험계약자가 보험종목의 변경요청시 회사는 사업방법서에서 정한 바에 따른다.
④ 보험계약자가 보험수익자를 변경할 경우 피보험자의 서면에 의한 동의가 필요하다.

50. 다음 중 생명보험에 관한 설명으로 적합하지 않은 것은? 정답 (4)

- ① 사람의 생사(生死)에 관한 보험사고가 발생할 경우 보험금이 지급된다.
② 보험회사가 지급하는 보험금이 미리 정해져 있는 정액보험이다.
③ 손해보험에 비하여 상대적으로 보험기간이 장기이다.
④ 약관에서 정하지 않는 보험사고로 사망시 일반적으로 책임준비금을 지급하고 계약은 소멸된다.

51. 생명보험 표준약관상 “계약자, 피보험자 또는 보험수익자가 고의로 보험금 지급사유를 발생시킨 사실을 알았을 경우” 회사는 그 사실을 안 날로부터 일정기간 이내에 중대사유로 인한 계약을 해지할 수 있다. 이때 회사가 지급하는 것은? 정답 (2)

- ① 이미 납입한 보험료 ② 해지환급금
③ 책임준비금 ④ 지급금액 없음

52. 다음은 보험수익자 지정에 관한 내용이다. 바르게 짝지어진 것은 ? 정답 (3)

생명보험 계약에서 계약자가 보험수익자를 지정하지 않은 때에는 보험수익자를 만기보험금의 경우는 (가)로 하고, 장해보험금 및 입원급여금은 (나)로 한다.

	(가)	(나)
①	계약자	계약자
②	피보험자	피보험자
③	계약자	피보험자
④	피보험자	계약자

53. 다음 중 보험약관을 해석하는 기준으로 적합하지 않은 것은? 정답 (2)

- ① 보험회사는 신의성실의 원칙에 따라 공정하게 약관을 해석하여야 한다.
- ② 보험회사는 보험계약자별 위험특성을 고려하여 약관을 해석하여야 한다.
- ③ 보험회사는 약관의 뜻이 명백하지 않은 경우에는 보험계약자에게 유리하게 해석하여야 한다.
- ④ 보험회사는 보험금을 지급하지 않는 사유 등 보험계약자나 피보험자에게 불리하거나 부담을 주는 내용은 확대하여 해석하지 않아야 한다.

54. 보험계약에서 사용하는 용어의 정의에 관한 설명으로 옳지 않은 것은? 정답 (4)

- ① 계약자 : 회사와 계약을 체결하고 보험료를 납입할 의무를 지는 사람
- ② 보험수익자 : 보험금 지급사유가 발생하는 때에 회사에 보험금을 청구하여 받을 수 있는 사람
- ③ 보험증권 : 계약의 성립과 그 내용을 증명하기 위하여 회사가 계약자에게 드리는 증서
- ④ 진단계약 : 계약을 체결하기 위하여 계약자가 건강진단을 받아야 하는 계약

55. 다음 중 보험의사회적순기능으로 적합하지 않은 것은? 정답 (4)

- ① 손실로부터 경제적 회복 촉진
- ② 보장을 통한 불안의 감소
- ③ 안전의식 고취를 통한 손실의 사전적 예방
- ④ 개인 및 기업의 도덕적 해이 증가

56. 다음 보험계약대출에 관한 설명으로 옳지 않은 것은? 정답 (3)

- ① 계약자는 계약의 해지환급금 범위 내에서 회사가 정한 방법에 따라 대출을 받을 수 있다.
- ② 계약자는 보험계약대출금과 보험계약대출이자를 언제든지 상환할 수 있다.
- ③ 회사는 보험수익자에게 보험계약대출 사실을 통지할 수 없다.
- ④ 회사는 보험료의 납입이 연체되어 계약이 해지되는 때에는 즉시 해지환급금에서 보험계약대출의 원금과 이자를 차감한다.

57. 계약심사 또는 계약선택이라고 하는 언더라이팅의 효과로 보기 어려운 것은? 정답 (4)

- ① 계약자간 형평성 유지
- ② 선의의 계약자 보호
- ③ 위험을 차익 관리를 통한 보험사 경영의 안정성 확보
- ④ 역선택 유발

58. 공제조직과 보험주식회사를 비교한 다음 설명들 중 옳바르지 않은 것은? 정답 (4)

- ① 보험주식회사의 소유주는 주주이지만, 공제조직의 소유주는 회원 또는 조합원이다.
- ② 보험주식회사는 영리를 추구하지만, 공제조직은 영리를 추구하지 않는 비영리 조직이다.
- ③ 보험주식회사의 최고 의사결정기관은 주주총회이지만, 공제조직은 조합원총회이다.
- ④ 보험주식회사와 공제조직 모두 금융감독당국의 감독을 받는다.

59. 다음은 표준약관상 “계약전 알릴 의무 위반의 효과”에 관한 내용이다. ()에 들어갈 용어로 가장 적합한 것은? 정답 (3)

회사는 계약자 또는 피보험자가 계약 전 알릴 의무에도 불구하고 고의 또는 중대한 과실로 중요한 사항에 대하여 사실과 다르게 알린 경우에는 회사가 별도로 정하는 방법에 따라 계약을 해지하거나 보장을 제한할 수 있다. 그러나 다음 각각의 경우에 해당되는 때에는 계약을 해지하거나 보장을 제한할 수 없다.

- 회사가 그 사실을 안 날부터 (가) 이상 지났을 때
- 계약체결일부터 (나) 이 지났을 때

- ① 가 - 15일, 나 - 1년 ② 가 - 15일, 나 - 2년
- ③ 가 - 1개월, 나 - 3년 ④ 가 - 1개월, 나 - 5년

60. 다음 중 국민연금법에서 정한 급여의 종류가 아닌 것은? 정답 (4)

- ① 노령연금 ② 장애연금
- ③ 유족연금 ④ 확정연금

세계지역경제 - 손상범 교수

1. 세계경제통합의 과정에서 생산요소의 국가 간 이동에 해당되지 않는 것은 무엇인가? (4)
1) 자본 2) 기술 3)인력 4)토지
2. 미국주도의 ‘환태평양 경제동반자협정(TPP)’에 맞서려하는 중국 주도의 메가 FTA 명칭은? (2)
1) Pacific Alliance 2) RECEP 3) ALBA 4)Mercosur
3. 워싱턴 컨센서스가 표방하는 내용이 아닌 것은 무엇인가? (4)
1) 규제철폐 2) 자유화 3) 민영화 4) 고정환율제
4. 중국의 개혁개방에 있어서 중요한 획을 그은 사건으로서, 1992년 1월 덩샤오핑이 주요 개방도시를 시찰하며 담화문을 발표한 이 사건의 명칭을 무엇이라고 하는가? (3)
1) 반우파투쟁 2)문화대혁명 3)남순강화 4) 대약진운동
5. 중국의 개혁개방 초기 국제시장을 매개로 농업과 중공업의 순환관계를 이루겠다는 구상으로 발표한 이론은 무엇인가? (2)
1) 선부론 2) 국제대순환론 3) 안행형이론 4)흑묘백묘론
6. 중국의 주요 국유상업 은행이 아닌 것은?(4)
1) 중국공상은행 2) 교통은행 3) 중국은행 4) 초상은행
7. 중국이 첨단산업 육성정책으로 지원하고 있는 소위 '3T 산업'에 해당되지 않는 것은?(3)
1) 정보통신 2) 생명공학 3) 석유화학 4) 신소재
8. 중국 남부 주장하구의 광저우, 홍콩, 마카오를 연결하는 삼각지대를 가리키는 중국의 주요 클러스터의 명칭은 무엇인가? (1)
1) 주장 클러스터 2)장강 클러스터 3) 환발해만 클러스터 4) 북해개발구
9. 중국주식 시장의 약칭으로서, 홍콩시장에 상장된 중국기업을 지칭하는 것은 무엇인가?(3)
1) A주 2)B주 3)H주 4)REDCHIP

10. 중국의 자본자유화 진전이 더딘 원인이라고 보기 힘든 것은 무엇인가? (4)
 1) 환율의 신축성 미흡 2) 과도한 금융규제 3) 사회적 제도 미성숙 4) 평가절상 압력
11. 일본의 수입비율이 낮은 이유는 생산체계를 보완하는 필수불가결한 요소만 수입을 하고 거의 대부분의 산업을 포함하는 이 구조 때문이라고 지적한다. ‘고지마’가 지적한 이 산업구조를 무엇이라고 하는가? (2)
 1) 수출주도형 산업구조 2) 플세트형 산업구조 3) 중화학공업 산업구조 4) 소비주도형 산업구조
12. 성과주의가 도입되고 있는 다른 아시아 국가들과 구분되는 일본의 기본적인 고용문화는 무엇인가? (2)
 1) 임금피크제 2) 종신고용제 3)탄력근무제 4) 청년인턴제
13. 1990년대 중반, 대만정부는 중국대륙으로의 진출에 제동을 가하기 위하여 동남아로의 진출을 장려하였다. 이를 무엇이라고 부르는가? (1)
 1) 남향정책 2) ECFA 3) 소삼통 4) 동북공정
14. 대만이 1980년대 컴퓨터산업을 급속도로 발전시킬 수 있었던 바탕이 된 것은 무엇인가? (1)
 1) 신축적 분업체계 2) 남향정책 3) 삼불정책 4) 소삼통
15. 중국과 대만 양안간에 2008년부터 허용된 삼통(三通)에 포함되지 않는 것은 무엇인가? (4)
 1) 항공 2) 해운 3) 우편 4)취업
16. 중국이 2000년대 들어서면서 走出去(Going Out) 중점 사업에 해당되지 않는 분야는? (4)
 1) 에너지 2) 광업 3)건설 4)회토류
17. 경제통합체를 형성하는 과정에서 공동시장 단계와 완전경제 통합단계의 중간에 위치하는 정책의 상호조정이 필요한 단계를 무엇이라고 하는가?
 1) 관세동맹 2) 자유무역지대 3)경제동맹 4) 포괄적동반자관계
18. 안보동맹의 성격으로 1967년 출범한 아세안의 초기 회원이 아닌 국가는? (4)
 1) 싱가포르 2) 말레이시아 3) 태국 4) 라오스

19. 아세안은 1995년 이 국가를 가입시키는 것을 계기로 큰 전환을 맞이하게 된다.
이 나라는? (3)

1) 미얀마 2) 라오스 3) 베트남 4) 캄보디아

20. 아세안 국가에게 있어서 당초 이 나라를 견제하는 것이 결성의 목적이었으나,
이 나라의 가입이 중국의 팽창주의를 견제할 수 있는 방법이 되었다. 이 나라는 어디인가?(1)

1) 베트남 2) 라오스 3) 미얀마 4) 캄보디아

21. 아세안 공업프로젝트 시행의 목적이 아닌 것은? (1)

1) 자원개발 가속화 2) 중복투자 방지 3) 규모의 경제확대 4) 분업체제 확립

22. 아세안 공업프로젝트 (AIP)에 있어서 공장 위치국이 60% 지분, 기타 3개
회원국이 13%를 소유하는데 여기서 고정적으로 1%의 지분을 가지는 국가는
어느 곳인가? (1)

1) 싱가포르 2)말레이시아 3) 태국 4) 베트남

23. ASEAN 회원국은 역내 무역촉진과 관세인하와 비관세 장벽을 완화하기 위해
자유무역의 첫 단계로 마닐라에서 맺은 관세상호 인하 협정의 약칭은 무엇인가?
(1)

1) PTA 2) AIC 3) AIJV 4) TGA

24. 일명 성장의 삼각지대로 불리는 TGA에는 세 국가의 지역이 교차하는 지리적
특성을 가졌다. 이 세 국가에 포함되지 않는 것은 무엇인가? (2)

1) 싱가포르 2) 브루나이 3) 말레이시아 4)인도네시아

25. 싱가포르 선언을 통해 1992년 아세안 6개국이 자유무역지대를 선포한 것을
무엇이라고 하는가? (4)

1) TGA 2) AIC 3) RCEP 4) AFTA

26. AFTA 결성 이후, 회원국의 분업생산 구도를 나타낸 것 중 옳지 않은 것을
고르시오(3)

1) 싱가포르- 전자상거래 2) 말레이시아- 고무 3) 필리핀- 어업 4) 태국- 항공

27. 아세안 경제공동체의 창설 목표가 아닌 것은 ? (4)

1) 단일생산기지화 단일시장 구축 2) 균형적인 경제발전
3) 경쟁력 높은 경제지대 육성 4) 노동집약적 산업으로 특화

28. 아세안은 내외 협력을 강화하기 위하여 아세안 + 3 의 형태를 발전시켰다.

이 3국에 해당되지 않는 곳은? (4)

1) 중국 2) 일본 3) 한국 4) 미국

29. 아세안의 후발 4개국에 해당되지 않는 것은? (4)

1) 라오스 2) 미얀마 3) 캄보디아 4) 브루나이

30. 메콩강 유역 개발 계획 (GMS)은 여러나라의 이해관계와 얽혀있다. 이 유역에 해당되는 국가가 아닌 것은? (1)

1) 말레이시아 2) 태국 3)라오스 4) 베트남

31. 한국이 ASEAN 국가 중에 투자를 집중하고 있는 CLMV에 해당되지 않는 국가는? (4)

1) 베트남 2) 라오스 3) 미얀마 4) 브루나이

32. 중국의 아세안 국가 진출전략 중 가장 우선하는 목표는 무엇인가? (4)

1) 내수시장 확대 2) 부품벨트 구축 3) 정치적인 개입 4) 자원분야 진출

33. CMIM의 공동 의장국을 맡는 3국이 아닌 것은? (4)

1) 중국 2) 일본 3) 한국 4) 홍콩

34. CMI(치앙마이 이니셔티브)의 한계를 극복하기 위해 출범한 CMIM에서 스왑계획에 참여하는 주체가 아닌 것은 ? (1)

1) 호주 2) 홍콩 3) 중국 4) 일본

35. 동아시아 정상회의(EAS)는 아세안+ 3 국가에 신규로 3국이 추가된 형태이다. 추가 3국에 해당되지 않는 것은? (4)

1) 인도 2) 호주 3) 뉴질랜드 4) 터키

36. 역내 포괄적 경제동반자 협정이라고 불리는 이 것은 아세안 10개국과 한중일, 호주와 뉴질랜드 그리고 인도를 포함한 16개 국가로 구성되어 있다. 이 지역협력 구도를 무엇이라고 부르는가? (2)

1) NAFTA 2)RCEP 3)ALBA 4)TPP

37. 국제통상용어는 아니지만 미국이 다른 나라와 정상무역관계를 맺는 것을 일컫는 용어로서 베트남과 미국의 무역관계 정상화에 있어서 분수령이 된 이것을 무엇이라고 부르는가?(2)

1) CER 2) PNTR 3) DOIMOI 4) PTA

38. 말레이시아의 ‘부미푸트라’ 정책은 궁극적으로 어떤 목적을 가지고 실시된 것인가?(4)

1) 싱가포르와의 관계개선 2) 소수민족 보호 3) 이슬람교의 확대 4) 화교세력 견제

39. 서남아시아 대부분의 국가들이 신속한 산업화와 고용창출을 위하여 이 정책을 지원하게 되었고, 국내산업 보호에 주안점을 두었다. 이 것은 무엇인가? (2)

1) 인적자원 수입 2) 수입대체 3) 수출주도형 구조전환 4) 자본재 수입 장려

40. SAFTA 7개국에 해당되지 않는 국가는? (3)

1) 몰디브 2) 파키스탄 3) 터키 4) 부탄

41. 인도 투자환경의 걸림돌이 되는 요소에 해당되지 않는 것은? (4)

1) 정부의 규제 2) 노동시장의 비 탄력성 3) 전력문제 4) NRI

42. 최근 인도의 제조업 육성 정책의 슬로건은 무엇인가? (2)

1) Made in India 2) Make in India 3) Made by India 4) Mode la India

43. 연간 2천편 이상의 영화를 제작하는 영화 대국으로서의 인도를 가리키는 별칭은 무엇인가? (2)

1) 할리우드 2) 볼리우드 3) 놀리우드 4) 마살라

44. 인도 최대의 항구도시이자 금융의 중심, 경제의 심장부로 불리는 도시는 어디인가? (1)

1) 뭄바이 2) 델리 3) 캘커타 4) 첸나이

45. 낙후지역이지만 영국 식민시대의 수도로서 영국풍의 건물과 지성과 문화의 도시로 불리는 인도의 4대 도시 중 하나인 이곳은? (3)

1) 뭄바이 2)델리 3) 캘커타 4) 첸나이

46. 인도의 주류 지배인종인 아리안보다 타밀족의 세력이 강한 인도의 남부도시로서 식민시절 마드라스라고 불리던 이 곳은 현대자동차 등 한국 업체의 진출이 두드러진 특징을 가지고 있다 이곳은 어디인가? (4)

1) 뭄바이 2) 델리 3) 캘커타 4) 첸나이

47. 한국이 맺고 있는 동맹관계에서 중요도가 가장 큰 개념에 해당되는 것은 무엇인가? (1)

- 1) 포괄적 전략적 동맹관계 2) 전략적 협력 동반자 관계
- 3) 전략적 동반자 관계 4) 전면적 협력 동반자 관계

48. 한국이 전략적 동반자 관계를 맺고 있는 국가가 아닌 것은? (4)

- 1) 인도 2) 멕시코 3) 러시아 4) 일본

49. 북한이 1984년 이후 국가적으로 중요한 핵심공장을 모기업으로 삼고 업종과 지역에 따라 유사 공장을 주변에 배치한 이 개념을 무엇이라 부르는가? (2)

- 1) 기업집단 2) 연합기업소 3) 집단농장 4) 기업소조

50. 북한은 1996년 폭우와 홍수 등 천재지변으로 인해 농업생산이 최악의 상태에 치닫자 김정일이 군을 앞세워 국가를 끌고 나간 시기를 뜻하는 개념은 무엇인가? (2)

- 1) 대약진 운동 2) 고난의 행군 3) 통일전선 4) 통미봉남 전략

51. 북한은 핵무기개발 등의 벼랑끝 전술을 통해 미국과의 직접적인 대화를 추구하고 있고 이 과정에서 한국의 참여를 배제하고 있다. 이 전략의 명칭은 무엇인가? (4)

- 1) 3통정책 2) 천리마운동 3) 고난의 행군 4) 통미봉남 전략

52. 북한이 여러 차례에 걸쳐 화폐개혁을 단행하는 이유에 해당되지 않는 것은? (4)

- 1) 장마당에서 유통되는 지하자금 회수 2) 인플레이션 해소
- 3) 시장에 대한 국가의 지배력 확보 4) 배급체제와 유통체제 보수

53. NIEs라 불리는 1980년대 신흥공업국가 혹은 지역에 해당되지 않는 곳은? (2)

- 1) 싱가포르 2) 브루나이 3) 한국 4) 홍콩

54. 일본을 선두로 하여 신흥공업국으로 이전, 그 뒤에 동남아시아로 산업이전을 이룬다는 1970년대 고지마의 주장을 이론화 한 것은? (2)

- 1) 수련형 모델 2) 안행형 모델 3) 절충이론 4) 유치산업 보호론

55. 중국의 급속한 부상으로 안행형 모델이 무너지면서 등장한 중국 중심의 새로운 동아시아 발전 이론은 무엇인가? (1)

- 1) 수련형 모델 2) 절충이론 3) 유치산업 보호론 4) 수입대체론

56. 아시아 인프라투자은행(AIIB)의 주요 지분을 가진 국가가 아닌 것은? (4)

1) 인도 2) 러시아 3) 한국 4) 네덜란드

57. 중국의 자본으로 건설을 계획하고 있는 태국의 ‘크라 운하’에 이해관계에 얽힌 국가로 볼 수 없는 것은 ? (3)

1) 미국 2) 싱가포르 3) 베트남 4) 일본

58. 동남아시아의 국가 중에서 중국과의 자유무역 협정, 미국주도의 TPP, 중국주도의 RCEP 등에 모두 가입하여 향후 MEGA FTA의 허브로 성장할 가능성을 가진 나라는? (1)

1) 베트남 2) 필리핀 3) 인도네시아 4) 태국

59. 중국 부실대출의 구조적인 문제에 있어서 이해관계자에 해당되지 않는 것은? (3)

1) 정부 2) 국유은행 3) 공회 4) 국유기업

60. 중국은 노동절을 비롯한 각종 연휴를 통해 ‘휴일경제’를 드라이브 하고 있다, 이의 주요 목적은 무엇인가? (2)

1) 인플레이션 억제 2) 내수 경기 진작 3) 노동비용 절감 4) 국유경제 민영화

재무론 - 조재훈 교수

1. 영남이는 자신이 홀로 투자하여 중고책판매점을 개업하였으며 판매점을 직접 운영하고 있다. 영남이의 사업은 아래의 분류 중 어디에 해당하는가?

A. 개인회사

- B. 유한회사
- C. 주식회사
- D. 합명회사

2. 회사의 소유자와 경영인 간에 이해관계에 대한 분쟁을 일으킬 수 있는 것을 지칭하는 용어는?

- A. 조직적 문제
- B. 구조적문제
- C. 형태적 문제

D. 대리인 문제

3. 영남이가 브로커 회사로부터 국내의 증권을 분석하는 임무를 수행한다면, 아래의 보기 중 영남이가 관여하고 있는 재무의 영역으로서 가장 적절한 것은?

- A. 국제 재무

B. 투자

- C. 기업재무
- D. 자본관리

4. 자본예산이 포함하는 평가(evaluation)의 대상으로서 아래의 보기 중 가장 적절한 것은?

- B. 미래현금흐름의 크기와 시기만
- C. 미래현금흐름의 시기와 불확실성 만
- D. 미래현금흐름의 불확실성과 크기 만

E. 미래현금흐름의 불확실성, 크기, 시기 모두

5. 운전자본관리가 포함하는 것으로서 아래의 보기 중 가장 적절한 것은?

- A. 어떤 프로젝트를 채택할 것인지에 대한 결정
- B. 새로운 설비를 구입할 것인지 또는 기존의 설비를 수리하여 사용할 것인지에 대한 결정

C. 어떤 고객에게 신용판매를 허용할 것인지에 대한 결정

- D. 신규주식을 얼마나 발행할 것인지

6. 아래의 보기 중 개인회사에 가장 부합하는 내용은?

- A. 회사의 수명은 무한대이다.
- B. 다른 사람에게 회사의 양도가 상대적으로 용이하다.
- C. 회사의 소유자는 회사의 부채에 대한 유한책임을 진다.
- E. 추가적인 자본의 투입은 회사 소유자의 개인자산에 의존한다.**

7. 아래의 보기중 유한책임사원의 장점에 해당하는 것은?

- A. 이익에 대한 세금의 면제
- B. 매일매일의 회사 경영의 통제
- C. 최대손실이 투자한 금액으로 제한**
- D. 손실을 발생시킬 수 있는 투자에 대한 무한 수익.

8. 주식회사에 투자한 주주에 대한 설명으로 가장 적절한 것은?

- A. 기업의 부채에 대하여 비례적으로 책임을 진다.
- B. 모든 손실로부터 보호된다.
- C. 주식회사의 정관을 수정할 수 있는 자격이 있다.**
- D. 주식회사는 소유와 경영이 분리되므로 회사경영에 통제권이 전혀 없다.

9. 재무관리의 기본적인 목적으로서, 재무관리를 통하여 최대화 해야 하는 대상으로서 아래의 보기 중 가장 적절한 것을 고르시오.

- A. 현재 이익
- B. 시장 점유율
- C. 주식가치**
- D. 총매출 성장

10. 개인회사의 경우 재무관리의 기본적 목적으로 가장 적절한 것은?

- A. 당기순이익의 최대화
- B. 회사 시장가치의 최대화**
- C. 장기부채의 최소화
- D. 고정비용 의존도의 최소화

11. 아래의 보기 중에서 당기순이익을 감소시키지만 영업현금흐름에는 영향을 미치지 않는 것은? (단 세금은 없는 것으로 가정)

- A. 직접비용
- B. 간접비용
- C. 비현금계정**
- D. 변동비용

12. 영업현금흐름의 정의로서 가장 적절한 것은?

A. 일정기간 동안의 순이익

B. 일상의 생산과 판매활동으로부터 얻는 현금흐름

C. 회사의 운영에 따른 차이

D. 순운전자본의 변동 분

13. 아래의 보기 중 무형의 고정자산을 고르시오.

A. 재고자산

B. 설비

C. 저작권

D. 매출채권

14. 아래의 보기 중 순운전자본에 해당하는 것은?

A. 6년 간 사용 가능한 새로 구입한 장비

B. 장기부채의 이자

C. 10년 만기 채권

D. 원료 공급자와 체결한 구매계약

15. 아래의 보기 중 자기자본을 감소시키는 것을 고르시오.

A. 매입채권의 증가

B. 매출채권의 증가

C. 순운전자본의 증가

D. 준비유동자산의 증가

16. 유동성이 매우 높은 자산에 해당하는 것으로서 가장 적절한 설명은?

A. 대차대조표의 오른쪽에 기입한다.

B. 일반적으로 높은 수익률을 제공한다.

C. 자산의 가치에 매우 가까운 가격으로 쉽게 매도할 수 있다.

D. 모든 무형자산을 포함한다.

17. 아래의 보기 중 고정자산에 대한 설명으로 가장 적절한 것은?

A. 고정자산의 시장가치는 오늘 기준 시장에서의 판매가격의 기댓값이다.

B. 고정자산의 시장가치는 회계처리방법에 영향을 받는다.

C. 고정자산의 시장가치는 최초 매입비용에서 감가상각을 차감한 것이다.

D. 고정자산의 장부가치는 시장가치에서 감가상각의 합계를 차감한 것이다.

18. 수익성이 높은 회사에서 감가상각이 미치는 영향을 설명한 것 중 가장 적절한 것은?

- A. 당기순이익 증가
- B. 순비유동자산 증가
- C. 순운전자본 감소
- D. 세금 감소**

19. 손익계산서에 대한 아래의 설명 중 가장 올바른 것을 고르시오.

- A. 감가상각은 세금에 영향을 미치지 않는다.
- B. 이자는 비현금항목이다.
- C. 법인세비용차감전순이익은 양수이다.
- D. 당기순이익은 배당금 또는 유보이익으로 구분된다.**

20. 아래의 보기 중 법인세를 납부하는 회사의 자산에서의 현금흐름을 증가시키는 것으로서 가장 적절한 것은?

- A. 순자본지출의 증가
- B. 채권자에의 현금흐름의 감소
- C. 감가상각의 증가**
- D. 순운전자본의 변동의 증가

21. 아래의 보기 중 추가적인 외부자금의 도입없이 회사가 이룰 수 있는 최대성장률을 의미하는 것은? Which one of the following is the maximum growth rate that a firm can achieve without any additional external financing?

- A. 듀퐁 비율
- B. 외부성장률
- C. 지속가능성장률
- D. 내부성장률**

22. 재무관리자가 판단해야 하는 항목 중에서 공통형 재무제표가 도움을 주는 것으로서 가장 적절한 것은?

- A. 비용이 판매보다 빠르게 또는 느리게 증가하는가
- B. 자산의 구성비가 변화하고 있는가**
- C. 회사의 매출의 절대값이 얼마나 증가하였는가
- D. 배당금이 변화하는 비율이 얼마인가

23. 어떤 회사의 유동비율은 1.4 이고 당좌비율은 0.9 이다. 이 정보로부터 알 수 있는 결과로서 가장 적절한 것은?

- A. 유동자산의 절반 이상이 재고자산이다.
- B. 재고자산보다 현금자산이 많다.
- C. 유동부채가 유동자산보다 크다.
- E. 순운전자본은 양수이다.**

24. 자본승수와 같은 것을 아래 보기에서 고르시오.

- A. 1 더하기 부채비율**
- B. 1 더하기 총자산회전율
- C. 총부채 나누기 총자본
- D. 총자본 나누기 총자산

25. 아래의 보기 중 매출이익률을 증가시키는 것으로 가장 적절한 것은?

- A. 이자지급의 증가
- B. 고정비용의 증가
- C. 감가상각비의 증가
- D. 법인세율의 감소**

26. New Century Products 주식회사는 작년에 설립되었다. 이 회사의 전망은 매우 밝으나 현재 당기순손실을 경험하고 있다 (당기순이익 < 0). 이 회사의 미래를 예측하기 위하여 사용할 수 있는 가장 적절한 방법을 아래의 보기 중에서 고르시오.

- A. 주가매출액 비율**
- B. 장부가치 대비 시장가치 비율
- C. 매출이익률
- D. ROE

27. Donovan Brothers, Inc. 주식회사는 내부성장률을 증가시키려 한다. 아래의 항목 중 어떤 것을 감소시키면 내부성장률을 증가시킬 수 있는가?

- A. 자산이익률
- B. 당기순이익
- C. 유보율
- D. 배당성향**

28. 작년도 Russell's Hardware 주식회사의 재고자산은 \$218,000, 자기자본은 \$421,800, 총자산은 \$647,700, 그리고 매출액은 \$587,200 이었다. 공통형 재무제표 기준으로 재고자산의 비율은 얼마인가?

- A. 26.81 %
- B. 33.66 %**
- C. 37.12 %
- D. 49.09 %

29. 작년도 Foreign Travel Services 주식회사의 당기순이익은 \$48,400, 총자산은 \$219,000, 자기자본은 \$154,800, 그리고 매출액은 \$311,700 이었다. 공통형 재무제표 기준의 당기순이익의 비율은 얼마인가?

- A. 9.00 %
- B. 13.90 %
- C. 15.53 %**
- D. 22.10 %

30. 작년도 Healthy Foods 주식회사의 총자산은 \$129,800, 순비유동자산은 \$71,500, 장기부채는 \$52,000, 그리고 총부채는 \$78,700 이었다. 재고자산이 \$31,800 이라면 유동비율은 얼마인가?

- A. 0.46
- B. 0.84
- C. 1.18
- D. 2.18**

31. 영남이의 정기예금계좌의 올해 초 잔고는 \$6,270 이다. 이 금액은 작년도 초에 정기예금계좌에 투자한 \$6,000와 작년도에 부리된 이자 \$270의 합계이다. 올해 한해 동안 영남이의 정기예금계좌는 작년도와 동일한 이자율을 적용받아 또 다시 \$282.15 의 이자가 부리되었다. \$282.15를 가장 잘 설명하는 것을 아래의 보기에서 고르시오.

- A. 단리이자
- B. 이자의 이자
- C. 복합이자
- D. 복리이자**

32. 미래 현금흐름의 현재가치를 계산하기 위해 사용되는 이자율을 지칭하는 용어로서 가장 적절한 것은?

- A. 우대금리
- B. 유동금리
- C. 할인율**
- D. 단리

33. 영남이는 \$16,000 금액을 오늘 은행에서 빌려 3년 뒤에 상환할 예정이다. 상환방법은 3년 뒤 만기에 한번에 모두 갚을 예정일 때 영남이에게 가장 유리한 이자율을 고르시오.

- A. 8 % 단리**
- B. 8 % 복리
- C. 8.5 % 단리
- D. 8.5 p% 복리

34. 영남이는 매년 6.5% 수익률을 제공하는 프로젝트에 오늘 \$2,000를 투자하였다. 이 투자에서 발생하는 모든 이자가 재투자 된다고 가정할 때 아래의 보기 중 가장 올바른 것은?

- A. 영남이는 매년 동일한 이자를 부리받는다.
- B. 만약 수익률이 6.5% 보다 큰 다른 프로젝트가 있다면 영남이는 \$2,000 보다 적은 금액을 투자하여 동일한 미래가치를 실현할 수 있다.**
- C. 영남이가 2년 차에 받게 되는 이자는 $\$2,000 \times 0.065 \times 2$ 이다.
- E. 영남이는 단리이자로 부리 받는 이자를 지급받는다.

35. 영남이는 현재 \$1,000 현금을 보유하고 있다. 영남이가 자신의 재산을 2배로 늘리기 위해 가장 적합한 방법을 아래 보기에서 고르시오.

- A. 3년간 복리 6%로 투자
- B. 5년간 복리 12%로 투자
- C. 9년간 복리 7%로 투자
- D. 9년간 복리 8%로 투자**

36. 영남이는 현재 \$2,158를 정기예금 계좌에 보유중이다. 이 계좌를 계속유지하여 결국 \$4,000 가 되려면 몇 년을 기다려야 하는가? 단, 이자율은 연 2.1% 복리를 가정하시오.

- A. 26.68 년
- B. 29.69 년**
- C. 32.13 년

D. 33.33 년

37. 영남이는 현재 보유하고 있는 \$1,100를 투자하여 5년 뒤에 3배로 만들려 한다. 영남이는 요구해야하는 최소한의 이자율은 얼마인가?

A. 연복리 18.08 %

B. 연복리 19.90 %

C. 연복리 22.15 %

D. 연복리 24.57 %

38. 영남의류(주)는 다음과 같은 계약을 체결하였다. 이 계약에 의하면 60만 달러는 오늘, 80만 달러는 1년 뒤에, 그리고 80만 달러는 2년 뒤에 지급하도록 되어 있다. 이 계약의 현재가치는 얼마인가? 단, 수익률은 연복리 7.2%를 가정하시오.

A. \$2,038,616.67

B. \$2,042,414.79

C. \$2,108,001.32

D. \$2,124,339.07

39. 영남철강(주)가 추진하는 프로젝트는 1년도 말에 \$11,000, 2년 도 말에는 \$24,000, 3년도 말에는 \$36,000의 현금흐름을 발생시킬 것으로 예상된다. 이 프로젝트의 할인율이 14%라고 할 때 현재가치를 계산하시오.

A. \$40,331.89

B. \$46,564.28

C. \$52,415.32

D. \$54,868.15

40. 영남이는 향후 7년 동안 매년도 말에 \$5,000를 지급받는 투자를 고려 중이다. 이러한 계약을 체결하기 위해 지금 영남이가 지불해야할 금액은 얼마인가? 이 때 영남이는 매년 12%의 수익률을 요구한다.

A. \$17,899.08

B. \$18,023.88

C. \$20,186.75

D. \$22,818.78

41. 영남이가 30년 뒤에 \$25,000를 확보하려면 지금 얼마를 정기예금 계좌에 투자해야 하는가? 단, 매년 수익률 6%를 가정하시오.

A. \$331,288.67

B. \$333,333.33

C. \$340,025.00

D. \$344,120.78

42. 영남이는 4년 동안 매달 \$235 만큼의 여유자금 발생한다. 영남이가 새 차를 구입하기 위해 은행에서 대출을 받을 계획이며 대출 이자는 연 7.5% 일 때, 영남이가 대출받을 수 있는 금액은 얼마인가?

A. \$9,672.48

B. \$9,734.95

C. \$9,899.60

D. \$10,022.15

43. 영남이는 은행에서 학자금 대출을 받을 예정이며 영남이가 2년 동안 매달 대출 상환을 위한 여유자금은 \$65 이다. APR 이 15.7% 일 때, 영남이가 받을 수 있는 대출금은 얼마인가?

A. \$1,288.90

B. \$1,300.00

C. \$1,331.42

D. \$1,350.00

44. 영남광산(주)는 새로운 장비를 구입할 예정이다. 이 장비를 구입한 대금은 7년 동안 매 분기 분할상환할 예정이며 이자율은 연복리 8%이다. 원금균등분할상환 금액은 매달 \$29,600 일 때 이 장비의 현재가치는 얼마인가?

A. \$621,380.92

B. \$629,925.66

C. \$687,418.22

D. \$774,311.28

45. 영남이는 4년 뒤에 \$25,000 이 필요하다. 현재 적용 가능한 이자율은 표시이자율 월 0.2% 이다. 이러한 목적을 달성하기 위해 영남이가 매달 말에 저축해야 하는 균등금액을 구하시오.

A. \$496.75

B. \$497.03

C. \$497.75

D. \$501.03

46. 아래의 보기 중 채권의 원금이 상환되는 날짜로서 가장 적절한 것은?

A. 쿠폰지급일

- B. 계약일
- C. 만기일**
- D. 액면가일

47. 투자자가 채권딜러에게서 채권을 매입할 수 있는 가격을 일컫는 용어를 고르시오.

- A. asked price**
- B. 이채(coupon)
- C. 액면가(face value)
- D. bid price

48. 실질수익률은 다음의 보기 중 어느 것을 이용하여 보정한 수익률인가?

- A. 인플레이션**
- B. 이자율위험
- C. 유동성위험
- D. 채무불이행위험

49. 채권보유자가 채권딜러에게 채권을 팔 수 있는 가격을 일컫는 용어를 고르시오.

- A. asked price
- B. 이채(coupon)
- C. 액면가(face value)
- D. bid price**

50. 액면가 \$1,000, 1년에 두 번 쿠폰을 지급하는 만기 6년짜리 채권이 현재 \$991.38 에 거래되었을 때 쿠폰율을 계산하십시오.

- A. 4.50 %
- B. 4.60 %
- C. 6.00 %
- D. 9.00 %**

51. 배당금에 대한 설명 중 가장 적절한 것은?

- A. 주주에게 지급되는 현금
- B. 주주에게 지급되는 현금 또는 주식**
- C. 주주 또는 채권소유자에게 지급되는 현금 또는 주식
- D. 주주에게 지급되는 주식

52. 아래 보기의 현재가치 중에서 일정성장 영구연금의 현재가치와 가장 유사한 것을 고르시오.

- A. 무배당 주식
- B. 매년 동일한 금액 배당의 주식
- C. 매년 변동하는 금액 배당의 주식
- D. 일정성장 배당의 주식**

53. 배당금의 성격을 가장 잘 설명하는 것을 고르시오.

- A. 회사 대표이사의 재량에 따라 결정됨
- B. 법인세가 면제되는 비용으로 인식됨
- C. 법인세를 납부한 뒤의 이익에서 지급됨**
- E. 배당소득이 높은 개인 투자자에게 한하여 과세됨

54. 영남물산(주)의 주식은 현재 주당 \$36 에 거래되고 있으며 배당수익률은 3.2% 이다. 배당금은 얼마인가?

- A. \$0.32
- B. \$1.15**
- C. \$3.49
- D. \$11.25

55. 영남건설(주)은 작년에 배당금으로 주당 \$2.20를 지급하였다. 향후 배당금이 매년 2.8% 증가할 것으로 예상된다면 앞으로 5년 차의 배당금의 기댓값은 얼마인가?

- A. \$2.39
- B. \$2.41
- C. \$2.46
- D. \$2.53**

56. 영남푸드(주)의 주식은 현재 \$28.50 에 거래되고 있으며 배당금은 주당 \$1.60 이다. 이 주식에 투자할 경우 수익률은 얼마인가?

- A. 4.56 %
- B. 5.39 %
- C. 5.61 %**
- D. 6.63 %

57. 영남자동차정비(주)는 새로운 장비를 도입할 계획이며 구입가격은 \$218,900 이다. 이 장비는 매년 동일한 금액의 감가상각이 이루어져 8년 뒤에는 잔존가치가 0 이 된다. 이 장비를 사용하여 회사에 첫 4년 동안은 매년 \$36,000 의 당기순이익이 발생되고, 나머지 4년 동안은 매년 \$22,000 의 당기순이익이 발생된다면 평균회계이익률은 얼마인가?

A. 17.76 percent

B. 18.09 percent

C. 23.72 percent

D. 26.50 percent

58. 영남무역(주)는 \$390,000 가격의 새 장비 도입을 검토 중이다. 이 장비는 도입 후 4년 동안 사용가능하며 매년 동일한 금액의 감가상각이 발생하여 4년 뒤에는 잔존가치가 0 이 된다. 이 장비로 인해 발생하는 당기순이익이 첫째부터 마지막 해까지 각각 \$18,900, \$21,300, \$26,700, 그리고 \$25,000 으로 예상될 때 평균 회계이익률을 계산하시오.

A. 11.78 percent

B. 11.93 percent

C. 12.01 percent

D. 12.49 percent

59. 영남농장(주)는 \$230,000 을 지출하여 설비를 개선하기로 결정하였다. 설비 개선의 결과로 향후 10년 동안 매년 \$46,500 의 이익이 증가할 것으로 예상하였다면 회수기간은 얼마인지 구하시오.

A. 4.03 년

B. 4.95 년

C. 5.39 년

D. 5.67 년

60. 영남부동산투자(주)는 본사빌딩의 리모델링을 계획중이다. 공사에 필요한 비용은 총 3백40만불이다. 이 비용을 충당하기 위해 세입자들로부터 5년 동안 매년 82만불의 월세를 추가로 받을 예정이다. 할인율을 15%로 가정할 때 이 프로젝트의 순현가를 계산하시오.

A. -\$651,233

B. -\$489,072

C. \$5,214

D. \$128,399

전자무역 - 김승철 교수

1. 우리나라에서 전자무역문서를 증명할 때 그 진정성이 인정되는 경우는?

- ① 전자무역전문인력이 증명서를 발급하는 경우
- ② 전자무역전문서비스업자가 증명서를 발급하는 경우
- ③ 전자무역업자가 증명서를 발급하는 경우
- ④ 전자무역기반사업자가 증명서를 발급하는 경우

정답 : 4

2. 지역적으로 1Km 이내의 컴퓨터 시스템 간에 데이터 통신을 하기 위한 네트워크로 인접한 건물상의 터미널이나 컴퓨터 간의 연결에 이용하고 네트워크가 작은 영역 안에서 형성되기 때문에 보다 안정적인 통신이 가능한 것은?

- ① Wide Area Networks
- ② Metropolitan Area Networks
- ③ Star Topology
- ④ Local Area Networks

정답 : 4

3. 다음 중 전자무역의 특징에 대한 설명이 잘못된 것은?

- ① 전자무역은 폐쇄형 네트워크인 VAN EDI에 의한 무역자동화시스템에서 인터넷 기반의 국가전자무역시스템(uTradeHub)으로 진화하면서 무역프로세스의 근본적인 변화를 초래하고 있다.
- ② 전자무역은 종이문서의 전자문서화를 통한 프로세스의 단축 또는 개선이 핵심이며 무역거래에 필요한 수많은 종이문서를 단순화·표준화하고 이를 전자화함으로써 무역프로세스의 효율성을 획기적으로 제고할 수 있다.
- ③ 전자무역은 인터넷 등 IT기반의 기술을 활용하여 무역프로세스의 변화뿐만 아니라 거래당사자간의 교섭방식과 거래방식에도 상당한 변화를 초래하고 있다.
- ④ 전자무역은 이마켓플레이스(e-Marketplace) 등 무역계약 체결이전의 단계와 계약체결 이후의 과정에도 적용되고 있으며, 디지털 제품 및 서비스 등 일부 품목을 제외한 다양한 분야를 거래대상으로 하고 있다

정답 : 4번

4. 다음은 전자무역을 위해 핵심적으로 필요한 전자인증과 관련된 보안기능에 관한 설명이다. 다음 설명이 의미하는 것은?

전자무역이 안전하고 신뢰할 수 있도록 하기 위한 보안기능이며, 메시지 내용을 암호화하여 전송함으로써 제3자가 획득하지 못하도록 하는 기능이다

- ① 전자인증(Authentication)
- ② 기밀성(Confidentiality)
- ③ 무결성(Integrity)
- ④ 부인방지(Non-repudiation)

정답 : 2번

5. 전자적 무체물(디지털 재화)의 특징이 아닌 것은?

- ① 지식 집약적 산업분야로서 부가가치가 낮은 저생산성
- ② 무제한으로 복제할 수 있는 재생산성
- ③ 아무리 사용해도 소멸되지 않는 비소멸성
- ④ 디지털신호로 구성되어 있어 다른 상품으로 변형이 용이한 가변형성

정답 : 1번

6. 전자무역계약과 관련된 법률적 문제점에 대한 해결방안이 아닌 것은?

- ① 전자적 의사표시를 함에 표시자의 중대한 과실로 입력된 자료상의 가격이나 단위표시 등에 하자가 있는 경우는 동기의 착오로 간주되어 계약취소가 불가능하다.
- ② 전자적 의사표시의 도달에 있어 메일서버의 전자우편함을 통하여 간접적으로 메시지를 전송할 때에는 상대방이 전자우편함에 접속하여 메일수신을 명령하여 수신자의 컴퓨터로 전송되어질 때 도달되어진 것으로 볼 수 있다.
- ③ 전자적 의사표시의 착오의 경우에는 표시자의 중대한 과실로 인한 경우를 제외하고는 상대방에게 전혀 책임이 없으므로 상대방의 신뢰보호와 거래안전이 고려되어 취소할 수 있다.
- ④ 전자무역계약의 성립시기로 민법의 도달주의를 원칙으로 하지만 정보통신기술의 발달로 청약과 승낙이 거의 동시에 이루어져서 실시간으로 계약이 체결되며, 계약서에 도달주의를 한다고 명확히 지정하여 두는 것이 필요하다.

정답 : 3번

7. 다음은 아날로그 및 디지털 정보법칙 변화에 따른 패러다임에 관한 내용이다. 틀린것을 고르시오

	아날로그	디지털
① 정보유택성-도달성	반비례	정비례
② 사회현상 패러다임 변화	Pull 방식	Push 방식
③ 유통, 무역, 물류의 Value-Chain	분리	융합화
④ 변화속도	상대적으로 느림	상대적 빠름

정답 : 2

8. 다음은 디지털 시대를 설명하는 법칙이다. 설명하는 내용과 맞게 짝지어진것을 고르시오.

현대에는 (㉠)에 의해 많은 사람들이 손쉽게 낮은 가격에 컴퓨터를 구입할 수 있고 모든 컴퓨터가 인터넷을 통해 연결되면서 (㉡)에 따라 확장되는 네트워크를 구축할 수 있다.

- ① ㉠ 길더의 법칙 ㉡ 무어의 법칙 ② ㉠ 무어의 법칙 ㉡ 코스의 법칙
③ ㉠ 무어의 법칙 ㉡ 멧카프의 법칙 ④ ㉠ 멧카프의 법칙 ㉡ 무어의 법칙
정답 : 3

9. 국내외 무역 관련 업무처리의 변천과정을 올바르게 설명한 것은?

- ① 무역서류 표준화 → 무역절차 간소화 → 무역업무 자동화 → 글로벌 전자무역
② 무역절차 간소화 → 무역서류 표준화 → 무역업무 자동화 → 글로벌 전자무역
③ 무역서류 표준화 → 무역업무 자동화 → 무역절차 간소화 → 글로벌 전자무역
④ 무역절차 간소화 → 무역업무 자동화 → 무역서류 표준화 → 글로벌 전자무역
정답 : 1

10. 다음 중 전자무역의 특성이 아닌것은?

- ① 거래관습의 변화 ② 거래당사자의 다양화
③ 해외시장개척수단의 변화 ④ 무역프로세서의 변화
정답 : 4

11. 전자무역, 전자상거래, e-business와의 차이점에 대한 설명이다. 틀린것을 고르시오

- ① 전자무역은 전자상거래가 포괄하고 있는 거래유형중에서 국가와 국가사이의 기업간 거래에 한정된 전자상거래의 특정화된 개념이다.
② 전자상거래(e-commerce)와 e-business의 차이점은 주로 전자상거래는 상거래에 초점을 맞춘 활동이 중심이 되고 e-business는 기업내부의 비즈니스 및 전략활동을 수행하기 위한 전자적인 비즈니스 구현에 있다.
③ 전자무역은 무역프로세서의 e-business화로 무역절차의 간소화가 중요하다.
④ 일국(一國)이 대외무역의존도가 높은 경우에는 e-business에서 무역프로세서를 강조하게 된다
정답 : 3

12. 다음은 전통적 무역과 전자무역의 차이점을 설명한것이다. 틀린것을 고르시오.

		전통적 무역	전자무역
①	서류.통관	종이서류, 관세사	전자문서, 통관EDI
②	거래지역	제한된 일부 지역	전 세계
③	영업시간	제약된 영업시간	24시간
④	물류.운송	포워더, 해운, 항공 운송 등	포워더에게 대행

정답 : 4

13. 볼레로(Bill of lading Electronic Registry Organization)에 대한 설명이다. 맞는 것은?

- ① 국제금융통신망인 스위프트(S W I F T)와 해운동맹인 P&I Club(Transport Through)이 공동 출자해 설립
- ② 은행의 신용장 및 선화증권을 포함한 각종 무역관련 서류의 전자결제를 신용보증기관으로 대체
- ③ 자체 볼레로 표준을 사용하여 서비스 개선을 위한 비용 절감
- ④ Rulebook을 통해 서식전쟁(the battle of forms)을 해결

정답 : 4

14. 다음은 e-L/C에 대한 설명이다. 틀린 것을 고르시오.

- ① e-LC는 통지, 양도, 매입 등 신용장 업무를 종이신용장 없이 전자적으로 처리하므로 EDI 신용장과 구별된다.
- ② 수작업에 따른 오류입력 방지 및 재입력시간 절감할 수 있다.
- ③ 주한외국인은행의 참여가 필수적이다.
- ④ 무역거래서류의 기반이 되는 L/C업무의 전자화를 통한 e-D/O체계의 기반 마련할 수 있다.

정답 : 4

15. 다음이 설명하는 전자결제시스템의 요건은?

서류작성 및 검토시 신용장과 서류 상호간 일치 여부 및 송수신 메시지가 전송도중 변조되지 않았다는 것을 증명
--

- ① 안정성 및 기밀성
- ② 신뢰성 및 상호인증
- ③ 정확성 및 무결성
- ④ 호환성 및 범용성

정답 : 3

16. 다음은 HS (Harmonized System)코드 사례이다. 틀린 것을 고르시오

0102901000(젓소)

- ① 위 코드는 WCO(세계관세기구)가 관세징수 및 통계작성 목적으로 만든 상품분류 체계이다.
- ② HS구조에는 총 21개의 부(section)가 있다.
- ③ 위 코드는 HSK에 해당된다.
- ④ 0102901은 세계 공통으로 이후 000의 3단위는 한국관세청에서 작성한 분류체계이다.

정답 : 4

17. 전자무역플랫폼에 대한 설명이다. 틀린 것을 고르시오.

- ① 무역프로세스에 관련된 다양한 기관과의 시스템 연계를 위해서는 다양한 인터페이스 방식의 통합이 필요한데, 자연스러운 업무프로세스를 구현하기 위해서는 각 프로세스의 유기적 연계 및 통합 기능을 제공한다.
- ② 전자문서보관소를 구축하여 제공한다.
- ③ 전자문서에 PKI 전자서명을 적용하여 거래의 신뢰성 및 안전성을 보장하고 국제표준인 ebXML을 채택하여 상호 일관된 거래 방식을 제공한다.
- ④ 콘텐츠(Contents), 커뮤니티(Community), 커머스(Commerce), 신용(Credit)등의 4C서비스를 제공한다.

정답 : 4

18. 다음은 무역자동화(Trade Automation)에 대한 설명이다. 틀린 것을 고르시오.

- ① 무역자동화시스템이 인터넷이 보급되면서 이에 적합하도록 VAN EDI대신에 웹 방식의 EDI 시스템이 구현되고 있어 사용자가 자사환경에 알맞은 방식을 선택하여 활용할 수 있다.
- ② 무역자동화시스템은 계약이전 프로세스의 자동화에 집중되어 있으며, 계약이행 프로세스에 대해서는 서비스를 지원하지 않는다.
- ③ 무역자동화시스템을 사용하기 위해 소요되는 초기 시스템 투자비용과 지속적인 시스템 사용 및 유지관리 비용이 높기 때문에 규모의 경제효과를 거둘 수 있는 대기업에 적합하다.
- ④ 무역자동화시스템은 계약이행 프로세스에 있어서도 보다 혁신적이고 효율적인 프로세스 개발을 위한 노력보다는 종전의 프로세스를 전자문서방식을 활용하여 자동화하는데 집중되어 있다.

정답 : 2

19. 선하증권의 전자화와 관련한 설명이다. 맞는 것을 고르시오.

- ① Bolero는 전자선하증권 서비스를 세계 최초로 제공하였다.
- ② 전자선하증권은 어떤 선하증권의 종류가 아니라 현행 B/L이 갖는 기능을 전자적 방법으로 운영하려는 일련의 시스템으로 현행법제 아래 종이선하증권과 동일하게 취급된다.
- ③ 전자식 선하증권은 운송인, 화주, 은행 등 이해관계인이 공유하며, 화물에 대한 권리(지배·처분권 등)소유자가 그의 권리를 전자적 방법으로 타인에게 이전하거나 운송인에게 행사하는 방법을 말한다.
- ④ 볼레로 프로젝트는 선하증권과 수출입 관련서류의 등록, 보관, 이전의 관리를 거래에 관련되는 운송인이 아니라 이해관계를 가지고 있지 않는 중립기관인 중앙등록기관(central registry)에게 위탁한다는 점에서 Tradecard와 다르다.

정답 : 3

20. 다음은 전자무역계약과 관련한 준거법에 대한 설명이다. 틀린 것으로 고르시오.

- ① ‘계약이행지법’은 계약이 비록 어느 특정 국가에서 체결되었다 할지라도, 실제계약자체의 이행과 채무가 이행되는 국가의 법이 적용되어야 한다는 원칙이다.
- ② 일반적으로 전자무역과 관련한 국제물품매매계약서의 언어가 계약의 해석에 적용되기도 한다.
- ③ ‘계약체결지법’은 당사자 간에 준거법 선택에 대한 합의가 없는 경우에는 주된 계약의 행위를 계약체결지로 간주하고, 계약체결국가의 법을 적용하여야 한다는 이론을 말한다.
- ④ 전자무역의 준거법 적용에 있어 계약체결지법과 계약이행지법의 절대적 우선순위를 정하기가 힘들어 계약이 가장 밀접한 현실적 관계를 맺고 있는 유효성과 조건해석을 위한 객관주의를 채택하는 것이 통설이다.

정답 : 4

21. 무역계약 및 전자무역계약을 체결할 경우 전자적 의사표시의 도달시기에 대한 다음 설명이다. 맞는 것을 고르시오.

- ① 전자무역계약에서 메일서버의 전자우편함을 통하여 간접적으로 메시지를 전송할 때에는 상대방이 전자우편함 등에 접속하여 메일수신을 명령하여 송신자의 컴퓨터 등으로 전송되어질 때 도달되어진 것으로 본다.
- ② 우리나라 민법에서는 무역계약에 관한 법률행위의 효력발생시기에 관하여 발신주의를 원칙으로 하고 있다
- ③ 전자무역계약에서의 도달시기에서는 현재 주로 영미법과 민법이 채택하고 있는 주의와 관련되어 있다.
- ④ 전자무역에 의한 의사표시인 경우에는 특별한 규정이 없는 한 기술적인 도달과 법적인 도달을 구분해야하고, 법적으로 의사표시가 상대방의 지배영역 안에 들

어오고 상대방이 그 의사표시의 내용을 인지할 수 있을 때에 비로소 도달하는 것으로 본다

정답 : 4

22. 다음은 전자무역관련 규범에 관한 설명이다. 맞는 것을 고르시오.

- ① CMI의 전자선하증권에 관한 규정은 유통성 선하증권 EDI화에 관한 최초의 국제 규칙으로 전자선하증권에 대한 유통성 부여에 대한 책임을 운송인에게 부여하고 있다.
- ② 전자서명에 관한 모델법은 외국에서 발행된 증명서와 전자서명의 요건에 관해 전자서명에 관한 법률을 두고 있는 국가 간의 상호 형평을 고려하여, 외국인증기관이 국내인증기관과 동일한 수준의 신뢰성이 있을 경우에는 외국에서 발행한 인증성에 효력을 부여하고 있다.
- ③ UNCITRAL의 전자상거래모델법에서는 전자문서의 경우 불레로 Rulebook의 일정조건을 충족하면 법률적 측면에서 종래의 종이문서와 동등한 자격을 부여하고 있다.
- ④ 불레로의 Rulebook에서는 Core Messaging Platform을 통하여 전송된 메시지는 상대방이 수신확인을 한 경우 수신된 것으로 추정한다.

정답 : 1

23. 무역업무 처리방식 변화에 따른 활동을 시대순으로 나열한 것은?

- ① CEFAC의 활동→신용장통일규칙 제정→UN/EDIFACT 제정→e-UCP제정
- ② 신용장통일규칙 제정→CEFAC의 활동→UN/EDIFACT 제정→e-UCP제정
- ③ CEFAC의 활동→UN/EDIFACT 제정→e-UCP제정→신용장통일규칙 제정
- ④ 신용장통일규칙제정→UN/EDIFACT 제정→e-UCP제정→CEFAC의 활동

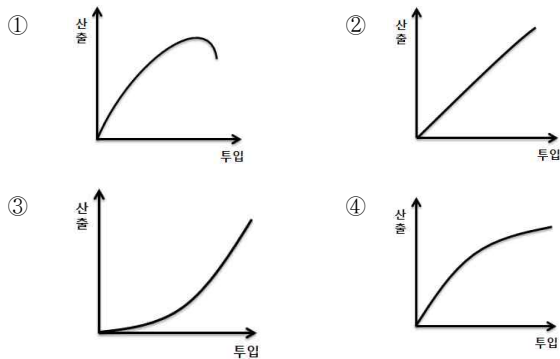
정답 : 2

24. 다음은 네트워크의 외부성에 대한 설명이다. 틀린 것을 고르시오

- ① 네트워크 제품의 성장속도는 임계규모이전에는 정상재보다 느리나 이를 넘어서면 정상재보다 훨씬 빠르다.
- ② 네트워크 제품은 한계비용이 존재하여 선발자와 후발자간 격차가 벌어지는 것이 아니라 줄어들게 된다.
- ③ 승자독식(winner takes all)현상이 발생한다.
- ④ 네트워크 제품의 경우 내생적 성장단계에서는 제품의 기술적 우위성이 중요하다.

정답 : 2. 한계비용이 없음

25. 다음 중에 네트워크 상품의 특성을 나타내는 그래프는?



정답 : 3

26. 다음은 디지털 시대를 설명하는 법칙이다. 설명하는 내용과 맞게 짝지어진것을 고르시오.

㉠ : 새로 개발되는 컴퓨터의 성능은 18개월마다 2배씩 증가하지만 칩의 가격은 오르지 않는다
㉡ : 네트워크의 가치는 참여자수의 제곱에 비례한다

- ① ㉠ 길더의 법칙 ㉡ 무어의 법칙 ② ㉠ 무어의 법칙 ㉡ 코스의 법칙
 ③ ㉠ 무어의 법칙 ㉡ 멧카프의 법칙 ④ ㉠ 멧카프의 법칙 ㉡ 무어의 법칙

정답 : 3

27. 다음 중 네트워크의 외부성과 관련성이 적은것은?

- ① 수확체감의 법칙 ② 경로의존성 ③ lock-in 효과 ④ 선발자 이익

정답 : 1

28. 다음은 전자무역 플랫폼의 기능에 대한 설명이다. 맞는 것으로 고르시오.

- ① 전자무역 표준등록저장소를 활용하여 무역유관기관에서 발생하는 서류의 중복입력을 방지하고 있다.
 ② 인증에 있어 EDI 표준화 방식인 대칭키 암호방식을 활용하고 있다.
 ③ 전자무역플랫폼은 Contents, Community, Commerce, Country 등의 4C서비스를 제공한다.
 ④ EDIFACT를 채택하여 상호 일관된 거래 방식을 제공한다.

정답 : 1번 / 3->country(collaboration)/2->공개키 암호방식/4->ebxml활용

29. 다음은 전자무역관련 암호화 기법에 대한 설명이다. 바르게 설명한 것은?

	구분	대칭키 암호방식	공개키 암호방식
①	키의 관계	암호화 키 ≠ 복호화키	암호화 키 = 복호화키
②	키의 수	단일키	복수키
③	암호화 알고리즘	복잡한 구조	간단한 구조
④	암호화 속도	느림	빠름

정답 : 2

30. 전자무역, 전자상거래, e-business와의 차이점에 대한 설명이다. 틀린것을 고르시오

- ① 전자무역은 전자상거래가 포괄하고 있는 거래유형중에서 국가와 국가사이의 기업간 거래에 한정된 전자상거래의 특정화된 개념이다.
- ② 전자상거래(e-commerce)와 e-business의 차이점은 주로 전자상거래는 상거래에 초점을 맞춘 활동이 중심이 되고 e-business는 기업내부의 비즈니스 및 전략활동을 수행하기 위한 전자적인 비즈니스 구현에 있다.
- ③ 전자무역은 무역프로세서의 e-business화로 무역절차의 간소화가 중요하다.
- ④ 일국(一國)이 대외무역의존도가 높은 경우에는 e-business에서 무역프로세서를 강조하게 된다

정답 : 3(무역절차의 간소화가 아님)

31. 전자인증 및 보안과 관련하여 사용자와 인증기관이 따라야 할 정책 수립, 하위 인증기관에 공개키를 인증하며 인증서 취소목록 등을 관리하는 기관은?

- ① 정책인증기관(PCA : Policy Certification Authority)
- ② 정책승인기관(PAA : Policy Approving Authority)
- ③ 등록기관(RA : Registration Authority)
- ④ 인증기관(CA : Certification Authority)

정답 : 1

32. 통신네트워크에 대한 설명이다. 틀린것을 고르시오

- ① WAN : 대도시 같은 넓은 영역을 서비스하는 네트워크 규모
- ② 패킷교환방식 : 다수의 사용자가 동시에 사용할 수 있도록 통신내용을 일정단위로 나누어서 순차적으로 송신
- ③ 토폴로지 : 네트워크상의 연결 구성도
- ④ 프로토콜 : 데이터 통신 시스템간의 상호통신약속

정답 : 1

33. 다음은 보안인증기술에 대한 진술이다. 틀린것을 고르시오

- ① 복호화는 암호문을 평문으로 바꾸는 과정이다
- ② 대칭키 암호방식은 정보교환 당사자들이 많은 키를 공유해야 하는 불편이있다.
- ③ 공개키 암호방식은 공개키(public key) 및 비밀키(private key)를 생성한다.
- ④ 메시지인증에는 주로 공통키 암호방식이 사용된다.

정답 : 4

34. 다음은 인증기관에 대한 보기이다. 올바르게 연결된 것을 고르시오

- ㉠ PKI 전반에 관해 정책수립, 최상위 인증기관 역할 수행
- ㉡ 사용자와 인증기관이 따라야 할 정책수립하고 하위 인증기관에 공개키를 인증하며 인증서 취소목록 등을 관리
- ㉢ 사용자의 공개키, 인증서 발급 및 취소 등을 관리
- ㉣ 공인인증기관을 대신하여 공인인증서 신청자의 신원을 확인해 주는 곳

- ① PAA-PCA-CA-RA ② PAA-CA-PCA-RA
- ③ PCA-PAA-RA-CA ④ PCA-CA-PAA-RA

정답 : 1

35. 다음은 EDI에 대한 설명이다. 올바른 것을 고르시오.

- ① 최근 들어 개방형 EDI에서 폐쇄형 EDI로 변하고 있다.
- ② EDI의 표준은 ebXML에서 EDIFACT로 변하고 있다.
- ③ ebXML은 UN/CEFACT와 OASIS가 합동으로 만든 개방형 표준이다.
- ④ EDI는 업무처리비용을 감소할 수 있는 장점이 있으나 중복입력해야 하는 단점이 있다.

정답 : 3

36. 다음이 설명하는 것은?

인터넷 환경에서 무역업체가 언제어디서나 인터넷을 통하여 시장조사에서 계약, 통관, 결제까지 모든 무역업무프로세서를 일괄처리할 수 있는 단일창구를 제공하는 무역관련 기관들 상호간의 협업적 상거래 인프라 총칭

- ① e-trade platform ② EDI ③ VAN ④ Trade Automation

정답 : 1

37. 온라인 및 오프라인을 이용한 해외바이어 발굴방법의 장단점을 비교한 것이다. 틀린 것으로 고르시오.

	온라인	오프라인
①	다양하고 방대한 정보	Rich market 정보입수
②	고비용	저비용
③	최신정보의 입수	정확한 기대효과
④	신속한 검색	휴먼네트워크 가능

정답 : 2

38. 국내업체가 벨기에산 카페트를 ㉠수입하고자 하며, 또 다른 국내업체는 중국에 컴퓨터조립부품을 ㉡수출하고자 한다. 무역거래 알선사이트를 통해 오피정보를 검색하기 위해서 선택하는 접속메뉴는 순서대로 맞게 연결된 것은?

- ① ㉠-Offer to Sell, ㉡-Offer to Buy ② ㉠-Business Offer, ㉡-Offer to Buy
 ③ ㉠-Offer to Buy, ㉡-Offer to Sell ④ ㉠-Post on Offer, ㉡-Offer to Sell

정답 : 3

39. 다음 중 해외기업에 대한 정보를 찾기에 부적절한 것은?

- ① Kompass ② Thomasnet ③ Korcham.net ④ BISNIS

정답 : 3

40. D&B에서 개별기업에게 부여하는 개별기업인식코드는?

- ① D-U-N-S ② SIC ③ D&B Rating ④ Trade Style

정답 : 1

41. 다음은 검색엔진 최적화(SEO)와 키워드 광고(CPC)의 비교이다. 틀린 것으로 고르시오

	SEO	CPC
①	중장기간 필요	1-2일 필요
②	빠른 마케팅 효과	중장기 브랜드 홍보
③	세팅후 추가비용불필요	매클릭당 비용발생
④	경쟁 키워드 노출어려움	1page 노출이 어렵지 않음

정답 : 2

42. ()안에 들어갈 적절한 단어는?

통신수단			준거법	한국,일본법	영국,미국법	비엔나협약
의사표시에 관한 일반원칙				도달주의	도달주의	도달주의
승낙의 의사 표시	(☎)	대 면		도달주의	도달주의	도달주의
		전화나 텔렉스		도달주의	도달주의	도달주의
	(☎)	우편이나 전보		(☎)	발신주의	도달주의

- ① ☎ 발신주의 ☎ 대화자간 ☎ 격지시간
 ② ☎ 발신주의 ☎ 격지자간 ☎ 대화시간
 ③ ☎ 도달주의 ☎ 대화자간 ☎ 격지시간
 ④ ☎ 도달주의 ☎ 격지자간 ☎ 대화시간

정답 : 1

43. 볼레로와 Tradecard를 비교설명한 것이다. 틀린것을 고르시오

- ① Tradecard는 볼레로와 달리 기존 무역관습을 전자적으로 재현하여 무역유관조직의 저항을 최소화하고 있다.
 ② 볼레로는 Tradecard와는 달리 Rule Book을 제정하여 법적 안정성을 제고하고 있다.
 ③ 볼레로는 전자식 선하증권에, Tradecard는 신용장의 전자화에 중점을 두고 있다.
 ④ 볼레로는 TT Club, SWIFT가, Tradecard는 세계무역센터협회가 추진하고 있다.

정답: 1

44. 다음 중 전자무역시스템에서 제공하는 서비스 중 성격이 다른 하나는?

- ① Bolero ② Tradecard ③ ePaymentPlus ④ PAA

정답 : 4

45. 다음 중 웹 프로모션에 해당하지 않는 것은?

- ① 메타태그의 활용 ② 유즈넷 활용 ③ 메일링 리스트에 홈페이지 홍보
 ④ Kompass의 활용

46. 전자무역계약에 대한 내용이다. 맞는것을 고르시오

- ① 전화, 이메일, 전자게시판 등 전자적 매체로 이루어지는 무역계약을 의미한다.
 ② 우리나라의 전자거래기본법 및 UNCITRAL의 전자상거래 모델법에서 법적효력을 부분적으로 인정하고 있다.
 ③ 컴퓨터 프로그램 등의 오작동으로 인한 잘못된 수치 및 가격정보의 전달은 전자적 의사표시의 하자로 보지 않고 전자적 의사표시가 도달하지 않은 것으로 판단

한다.

- ④ 직접적으로 네트워크에 연결된 컴퓨터 정보처리장치의 경우에는 전자적 의사표시의 도달이란 상대방의 수신장치에 투입된 때로 보게 된다.

정답 : 4

47. 무역업체가 자사의 홈페이지를 구축할 때 고려하지 않아도 되는 사항은?

- ① 표적시장에 대한 접근용이
- ② 실시간 접속과 항시 개방성
- ③ 독특하고 전문화된 내용으로 구성
- ④ 수시 내용변경 가능한 이미지 및 그래픽의 삽입

정답 : 3

48. 무역업체가 웹사이트를 홍보하는 방법으로 적당하지 않는 것은?

- ① 뉴스그룹 가입 및 활용 ② 메일링리스트 활용
- ③ 유명 검색엔진에 등록 ④ 웹디렉토리의 작성

정답 : 4

49. 다음은 영남상사(자동차 wheel 및 assembly 생산업체)의 검색엔진마케팅을 위한 최적화 방안을 위해 자사의 홈페이지를 개조한 사례이다. 적절치 않은 것을 고르시오.

- ① auto parts 라고 되어 있는 키워드를 wheel and assembly 로 변경한다
- ② 영남상사 사이트에 링크(outbound link)를 많이 배치한다
- ③ 도메인 네임을 www.wheelnassembly.com 으로 변경한다.
- ④ 제품이미지에 wheel 및 assembly 설명태그를 삽입한다.

정답 : 2

50. 다음은 전자서비스 인증을 실시하기 위해 필요한 기관을 나열한 것이다. 기관의 계층적 체계를 상위부터 순서대로 나열한 것은?

- 가. 인증기관(CA : Certification Authority)
- 나. 등록기관(RA : Registration Authority)
- 다. 정책인증기관(PCA : Policy Certification Authority)
- 라. 정책승인기관(PAA : Policy Approving Authority)

- ① 가-나-다-라
- ② 나-라-다-가
- ③ 다-라-나-가
- ④ 라-다-가-나

정답 : 4

51. 중소기업의 전자무역 마케팅을 지원을 하기 위한 e-무역상사 제도에 관한 설명이다. 옳지 않은 것은?

- ① 인터넷을 통한 e-Marketplace의 거래알선 기능을 연계, 해외마케팅 지원
- ② 전자무역교육, 컨설팅 등을 통한 전자무역 전문인력 양성 및 전자무역 시스템 개선 증진
- ③ 선적 후 물품이동 및 현황에 대한 관리시스템 구축
- ④ 국내 중소 및 제조기업의 기업정보 DB 및 해외 무역정보 DB 구축

정답 : 3

52. 무역 e-Marketplace 또는 전자거래알선 사이트에서 제공하는 기본적인 서비스가 아닌것은?

- ① 오피등록 및 검색기능을
- ② 상품(product)등록 및 검색
- ③ 신용(credit)등록 및 검색
- ④ 홈페이지 및 카달로그 작성

정답 : 3

53. 다음 중 EDI 표준과 관련 없는 것은?

- ① APEC ECSG
- ② UN/CEFACT
- ③ OASIS
- ④ EDIFACT

정답 : 1

54. 다음은 전자무역 플랫폼을 설명하는 내용이다. 틀린것을 고르시오

- ① 단일창구(single window)
- ② 협업적 상거래(Collaboration Commerce)
- ③ DB 통합
- ④ ebXML의 채택

정답 : 3

55. 무역계약에 있어서 의사표시의 효력발생시기의 연결이 잘못된 것은?

- ① 비엔나 협약 : 청약-도달주의, 승낙-도달주의
- ② 우리나라 : 청약-도달주의, 승낙-발신주의(대화자)
- ③ 미국법 : 청약-도달주의, 승낙-발신주의(격지자간)
- ④ 일본법 : 청약-도달주의, 승낙-도달주의(대화자)

정답 : 2

56. 선하증권의 전자화가 이루어진 배경에 관한 설명이다. 틀린것을 고르시오

- ① 선박의 고속화
- ② 선하증권분실에 따른 권리회복절차의 비현실성
- ③ L/I 서류의 대체성
- ④ 해상운송장의 비유통성

정답 : 3

57. 다음은 검색엔진 마케팅과 관련한 진술이다. 틀린 것으로 고르시오

- ① 키워드 광고의 경우 매 클릭당 비용이 발생하며 신규 중소기업 및 중장기적인 마케팅 효과가 필요한 업체에 적합하다.
- ② SEO는 경쟁률이 높은 키워드 경우 어려움이 있으며, 중장기적인 브랜드 홍보에 적합하다.
- ③ 검색엔진은 사용자 관련 키워드 검색시 실시간이 아닌 자신의 고유 DB에서 검색한다.
- ④ 검색엔진 마케팅은 타겟바이어에 용이하게 접근할 수 있다.

정답 : 1

58. 전자무역 해외마케팅 단계에서 D&B, 신용보증기금, 수출보험공사, KOTRA, ABC 등에서 구할 수 있는 정보는?

- ①국가정보
- ②무역통계
- ③신용정보
- ④바이어 리스트

정답 : 3

59.수출입업무와 관련한 서류작성은 종이문서 대신에 당사자간의 합의에 의하여 컴퓨터가 판독할 수 있는 전자문서로 작성하고, 작성된 문서를 전자적 수단인 EDI 방식으로 신속·정확하게 당사자의 컴퓨터에 전달하여 서류 없는 무역절차(paperless trade)를 실현할 수 있는 무역업무처리방식을 의미하는 것은?

- ① 무역자동화
- ② 전자상거래
- ③ 사이버무역
- ④ 인터넷무역

정답 : 1

60.인터넷 환경에서 무역업체가 언제 어디서나 인터넷을 통하여 시장조사에서 계약, 통관, 결제까지 모든 무역업무프로세스를 단절 없이 일괄처리(one-stop)할 수 있는 단일창구(Single Window)를 제공하며, 특히 무역프로세스에 간여하는 여러 기업들 상호간에 협업적 상거래(Collaboration Commerce)를 가능케 하는 인프라를 총칭은?

- ① 전자무역플랫폼
- ② 검색엔진마케팅
- ③ 무역자동화
- ④ 무역자동화플랫폼

정답 : 1

